

AKASH MODEL SR. SEC. SCHOOL

STUDY MATERIAL

Term - I

Class - X

Subject - Social science

SAMPLE QUESTION PAPER-1 (TERM 1) 2021-22

SUBJECT : SOCIAL SCIENCE

CLASS : X

Time : 90 Min

Marks : 40

General Instructions:

- 1. The Question Paper contains four sections.*
- 2. Section A has 24 questions. Attempt any 20 questions.*
- 3. Section B has 22 questions. Attempt any 18 questions.*
- 4. Section C has 12 questions (Case based). Attempt any 10 questions.*
- 5. Section D contains 2 Map based questions. Attempt both the questions.*
- 6. All questions carry equal marks.*
- 7. There is no negative marking.*

SECTION-A

Attempt any 20 Questions out of 24 Questions

- The first clear expression of nationalism in Europe came with :
a) French revolution b) American revolution
c) Russian revolution d) Industrial revolution
यूरोप में राष्ट्रवाद की पहली स्पष्ट अभिव्यक्ति थी :
(क) फ्रांसीसी क्रांति
(ख) अमेरिकी क्रांति
(ग) रूसी क्रांति
(घ) औद्योगिक क्रांति

X

2. The civil code of 1804 also known as the Napoleonic code established :

- a) Equality before the law
- b) Secured the right to property
- c) Did away with all the privileges based on birth
- d) All the above

1804 के नागरिक संहिता को नेपोलियन कोड के रूप में भी जाना जाता जिसने स्थापित किया

(क) कानून के समक्ष समानता

(ख) संपत्ति की सुरक्षा का अधिकार

(ग) जन्मजात विशेषाधिकारों का अंत

(घ) उपरोक्त सभी

3. Which one of the following area was the most serious source of nationalist tension in Europe after 1871? .

- a) The Balkans
- b) Vienna
- c) Great Britain
- d) Germania

निम्नलिखित में से कौन सा क्षेत्र 1871 के बाद यूरोप में राष्ट्रवादी तनाव का सबसे मुश्किल स्रोत था?

(क) बाल्कन

(ख) वियना

(ग) ग्रेट ब्रिटेन

(घ) जर्मनिया

4. Who said "When France sneezes the rest of the Europe catches cold"?

(a) Garibaldi

(b) Wolfe Tone

(c) Mazzini

(d) Duke Matternich

किसने कहा था "जब फ्रांस छींकता है तो संपूर्ण यूरोप को सर्दी लग जाती है।"

(क) गैरीबाल्डी

(ख) वोल्फ टोन

(ग) मैज़िनी

(घ) ड्यूक मैटर्निच

5. Which one of the following is true about the treaty of Constantinople of 1832.

- a. It recognized Turkey as an independent nation.
- b. It recognized Greece as an independent nation.
- c. It recognized Germany as an independent nation.
- d. It recognized France as an independent nation.

1832 की कस्तूतीनिया की संधि के बारे में निम्नलिखित में से कौन सा सत्य है

- (क) इसने तुर्की को एक स्वतंत्र राष्ट्र के रूप में मान्यता दी।
- (ख) इसने ग्रीस को एक स्वतंत्र राष्ट्र के रूप में मान्यता दी।
- (ग) इसने जर्मनी को एक स्वतंत्र राष्ट्र के रूप में मान्यता दी।
- (घ) इसने फ्रांस को एक स्वतंत्र राष्ट्र के रूप में मान्यता दी।

6. What is the most common indicator to measure development?

- a) Per capita income
- b) literacy level
- c) Infant mortality rate
- d) Environmental degradation

विकास को मापने के लिए सबसे प्रमुख पैमाना क्या है?

- (क) प्रति व्यक्ति आय
- (ख) साक्षरता स्तर
- (ग) शिशु मृत्यु दर
- (घ) पर्यावरणीय गिरावट

7. What BMI indicates that an adult person is overweight

- a) 26
- b) 18
- c) 22
- d) 15.5

बीएमआई को कौन सा माप एक वयस्क व्यक्ति के अधिक वजन को इंगित करता है

- (क) 26
- (ख) 18
- (ग) 22
- (घ) 15.5

8. Which organization publishes human development report?

- a) world bank
- b) international monetary fund
- c) UNDP
- d) None of the above

संगठन जो मानव विकास रिपोर्ट का प्रकाशित करता है?

(क) विश्व बैंक

(ख) अंतर्राष्ट्रीय मुद्रा कोष

(ग) यूएनडीपी

(घ) उपरोक्त में से कोई नहीं

9. Which sector is also called the service sector?

a) Primary

b) Secondary

c) Tertiary

d) None of above

किस क्षेत्र को सेवा क्षेत्र भी कहा जाता है?

(क) प्राथमिक

(ख) द्वितीयक

(ग) तृतीयक

(घ) उपरोक्त में से कोई नहीं

10. What is full form of GDP ?

a) Gross domestic product

b) Gross direct production

c) Goods direct production

d) None of above

जीडीपी का विस्तार है?

(क) सकल घरेलू उत्पाद

(ख) सकल प्रत्यक्ष उत्पादन

(ग) वस्तु प्रत्यक्ष उत्पादन

(घ) उपरोक्त में से कोई नहीं

11. Ten people working on a small field is an example of

a) Full employment

b) Unemployment

c) Disguised unemployment

d) Open unemployment

दस लोगों का एक छोटे से भूखंड में काम करना का एक उदाहरण है।

(क) पूर्ण रोजगार

(ख) बेरोजगारी

(ग) प्रच्छन्न बेरोजगारी

(घ) खुली बेरोजगारी

12. The calculation of per capita income of all countries is made in -

a) Rupees

b) Dollars

c) Yen

d) Pounds

सभी देशों की प्रति व्यक्ति आय की गणना किसमें की जाती है?

(क) रुपय

(ख) डॉलर

(ग) येन

(घ) पाउंड

13. Which one of the following is the main cause of land degradation in Punjab?

- a) Intensive cultivation b) Deforestation
c) Over irrigation d) Overgrazing

निम्नलिखित में से कौन पंजाब में भूमि क्षरण का मुख्य कारण है?

- (क) गहन खेती (ख) वनों की कटाई
(ग) अति सिंचाई (घ) अधिक चराई

14. In which one of the following states is terrace cultivation practiced?

- a) Rajasthan b) Uttarakhand
c) Haryana d) Punjab

निम्न में से किस राज्य में सिडिनुमा खेती की जाती है?

- (क) राजस्थान (ख) उत्तराखंड
(ग) हरियाणा (घ) पंजाब

15. In which one of the following states is black soil found?

- a) Rajasthan b) Uttarakhand
c) Haryana d) Gujarat

निम्न में से किस राज्य में काली मिट्टी पाई जाती है?

- (क) राजस्थान (ख) उत्तराखंड
(ग) हरियाणा (घ) गुजरात

16. Which one of the following describes a system of agriculture where a single crop is grown on a large area?

- a) Jhum cultivation b) Horticulture
c) Plantation Agriculture d) Intensive Agriculture

निम्नलिखित में से कौन सी कृषि की एक प्रणाली का वर्णन है जहां एक बड़े क्षेत्र में एक ही फसल उगाई जाती है?

- (क) झूम खेती (ख) बागवानी
(ग) रोपण कृषि (घ) गहन कृषि

X

17. Which one of the following is announced by the government in support of a crop?

- a) Minimum support price b) Maximum support price
c) Moderate support price d) None of above

निम्नलिखित में से किसकी घोषणा सरकार द्वारा एक फसल के समर्थन में की जाती है?

- (क) न्यूनतम समर्थन मूल्य
(ख) अधिकतम समर्थन मूल्य
(ग) मध्यम समर्थन मूल्य
(घ) उपरोक्त में से कोई नहीं

18. What are the Tamil natives of Sri Lanka called?

- a) Indian Tamil b) Sinhala
c) Sri Lankan Tamil d) Muslim Tamil

श्रीलंका के तमिल मूल निवासी किसे कहा जाता है?

- (क) भारतीय तमिल (ख) सिंहल
(ग) श्रीलंकाई तमिल (घ) मुस्लिम तमिल

19. Which form of power sharing is most commonly referred to as federalism?

- a) Horizontal power sharing
b) Power sharing among political parties
c) Vertical power sharing
d) Power sharing among various communities

शक्ति विभाजन के किस रूप को आमतौर पर संघवाद कहा जाता है?

- (क) क्षैतिज शक्ति साझाकरण
(ख) ऊर्ध्वाधर शक्ति साझाकरण
(ग) राजनीतिक दलों के बीच शक्ति साझाकरण
(घ) विभिन्न समुदायों के बीच शक्ति साझाकरण

20. Which body conduct the election to panchayats and municipalities?

- a) Election commission b) State election commission
c) High court d) Supreme court

पंचायतों और नगरपालिकाओं के लिए कौन सा निकाय चुनाव आयोजित करता है?

- (क) चुनाव आयोग (ख) राज्य चुनाव आयोग
(ग) उच्च न्यायालय (घ) उच्चतम न्यायालय

21. In which schedule of Indian constitution are the 22 scheduled languages included?

- a) Tenth schedule b) Eighth schedule
c) Twelfth schedule d) Ninth schedule

भारतीय संविधान की कौन सी अनुसूची में 22 भाषाएँ अनुसूचित हैं?

- (क) दसवीं अनुसूची (ख) आठवीं अनुसूची
(ग) बारहवीं अनुसूची (घ) नौवीं अनुसूची

22. What are the basic objectives of a federal system?

- (a) To preserve and promote the unity of the country
(b) To accommodate regional diversity
(c) Power sharing between different communities
(d) Both a and b above

संघीय व्यवस्था के मूल उद्देश्य क्या हैं?

- (क) देश की एकता को बनाए रखने और बढ़ावा देने के लिए
(ख) क्षेत्रीय विविधता को समायोजित करने के लिए
(ग) विभिन्न समुदायों के बीच सत्ता साझा करना
(घ) उपरोक्त ए और बी दोनों

23. Which of the following lists includes subjects such as foreign affairs, communications and currency?

- a. State List b. Union List
c. Concurrent List d. Residuary List

निम्नलिखित में से किस सूची में विदेशी मामले, संचार और मुद्रा जैसे विषय शामिल है?

- (क) राज्य सूची (ख) संघ सूची
(ग) समवर्ती सूची (घ) अवशिष्ट सूची

24. The "Coming together" Federations is found in

- a. USA, China & Russia
b. India, Pakistan & Bangladesh
c. USA, Switzerland & Australia
d. Australia, Russia & Germany

“ एक साथ आना” संघ पाया जाता है

- (क) यूएसए, चीन और रूस
(ख) भारत, पाकिस्तान और बांग्लादेश
(ग) यूएसए, स्विट्ज़रलैंड और ऑस्ट्रेलिया
(घ) ऑस्ट्रेलिया, रूस और जर्मनी

SECTION-B

(Attempt any 18 out of 22 Questions)

25. Two statements are given in the question below as Assertion (A) and Reasoning (R).

Read the statements and choose the appropriate option.

Assertion (A) : Power sharing is good because it helps to reduce the possibility of conflict between the social groups.

Reasoning (R) : Conflict between social groups leads to political instability, therefore power sharing ensures the stability of political order.

- a. Both A and R are true and R is the correct explanation of A
b. Both A and R are true, but R is not the correct explanation of A.

c. A is true but R is false.

d. A is false but R is true.

नीचे दिए गए प्रश्न में दो कथन अभिकथन (ए) और कारण (आर) के रूप में दिए गए हैं। कथनों को पढ़िए और उपयुक्त विकल्प का चयन कीजिये-

अभिकथन (ए) सत्ता का बंटवारा अच्छा है क्योंकि यह सामाजिक समूहों के बीच टकराव की संभावना को कम करने में मदद करता है

तर्क (आर) सामाजिक समूहों के बीच टकराव से राजनीतिक अस्थिरता उत्पन्न होती है, इसलिए सत्ता का बंटवारा राजनीतिक व्यवस्था की स्थिरता सुनिश्चित करता है।

(क) ए और आर दोनों सत्य हैं और आर, ए की सही व्याख्या करता है

(ख) ए और आर दोनों सत्य हैं, लेकिन आर, ए की सही व्याख्या नहीं है।

(ग) ए सत्य है लेकिन आर असत्य है।

(घ) ए असत्य है लेकिन आर सत्य है।

26. Consider the following statements on majoritarianism followed in Sri Lanka and select the answer using the codes given below.

I. Sri Lanka is an Island nation to the south of India.

II. In 1956 Sinhala was declared as the official language of Sri Lanka.

III. The new constitution stipulated that the state shall protect and foster Buddhism.

IV. The Government preferential policies favoured Sinhala applicants for University positions and Government jobs.

Options :

a. I, II, III

b. II, III, IV

c. II, I, IV

d. IV, I, III

श्रीलंका में अपनाए गए बहुसंख्यकवाद पर निम्नलिखित कथनों पर विचार करें और नीचे दिए गए कोड का प्रयोग कर उत्तर चुनिये

1. श्रीलंका भारत के दक्षिण में एक द्वीप राष्ट्र है।

2. 1956 में सिंहल को श्रीलंका की आधिकारिक भाषा के रूप में घोषित किया गया था।

3. नए संविधान ने निर्धारित किया कि राज्य बौद्ध धर्म की रक्षा करेगा और उसे बढ़ावा देगा।

4. विश्वविद्यालयों और सरकारी नोकरीयों में सिंहलियों को प्राथमिकता देने की नीति।
विकल्प

a. I, II, III

b. II, III, IV

c. II, I, IV

d. IV, I, III

27. Which of the following is NOT correctly matched from the given options

List I

List II

I. Sri Lanka Got Independence

1948

II. Civil war ended in Sri Lanka

2011

III. Act declared Sinhala as the official language

1956

Options :

a. Only I

b. Only II

c. Only III

d. None of these

निम्नलिखित में से कौन दिए गए विकल्पों में से सही सुमेलित नहीं है

सूची-I

सूची-II

1 श्रीलंका को स्वतंत्रता मिली

1948

2 श्रीलंका में गृह युद्ध समाप्त हुआ

2011

3 अधिनियम ने सिंहल को राजभाषा घोषित किया

1956

विकल्प :

क केवल I

ख केवल II

ग केवल III

घ इनमें से कोई नहीं

28. Which of the following is incorrect based on the Indian constitutional amendment 1992?

- One fourth of positions are reserved for women.
- Regular elections should be held to the local government bodies.
- Seats are reserved for SC s, ST s and OBC s.
- State election commission to conduct local government bodies elections

भारतीय सविधान संशोधन 1992 के आधार पर निम्नलिखित में से कौन सा गलत है

- एक चौथाई पद महिलाओं के लिए आरक्षित हैं।
- स्थानीय निकायों के लिए नियमित चुनाव कराए जाने चाहिये-
- एससी, एसटी, और ओबीसी के लिए सीटें आरक्षित हैं।
- राज्य चुनाव आयोग स्थानीय निकाय चुनावों का संचालन करेगा

29. Identify the Local Government body with the help of following information.

- It is the decision making body for the entire village.
- They are directly elected by adult population of the village.
- Several ward members are elected as 'Panch'
- The Head is known as 'Sarpanch'

Select the appropriate option from the following:

- Panchayat Samiti
- Zila Parishad
- Gram Panchayat
- None of the above

निम्नलिखित सूचनाओं की सहायता से स्थानीय निकाय की पहचान कीजिये-

- यह पूरे गांव के लिए निर्णय लेने वाली संस्था है।
- यह संस्था सीधे गांव के वयस्क नागरिकों द्वारा चुना जाता है।
- कई वार्ड सदस्यों को 'पंच' के रूप में चुना जाता है
- मुखिया को 'सरपंच' के नाम से जाना जाता है

निम्नलिखित में से उपयुक्त विकल्प का चयन कीजिए:

(क) पंचायत समिति

(ख) जिला परिषद

(ग) ग्राम पंचायत

(घ) इनमें से कोई भी नहीं

30. Match List I with List II and select the correct answer using the codes given below in the List.

List I

List II

A. Power is shared among different organs of the Government.

B. Power is shared among Governments at Different levels.

C. Power is shared by different social groups

D. Power is shared by two or or more political parties

I. Community Government

II. Separation of power

III. Coalition Government

IV. Federal Government

Options:

	A	B	C	D
a.	1	2	3	4
b.	2	4	1	3
c.	3	2	4	1
d.	4	3	2	1

सूची I को सूची II से सुमेलित कीजिए और नीचे दिए गए कोड का प्रयोग कर सही उत्तर चुनिए:

सूची I

सूची II

(क) सरकार के विभिन्न अंगों के बीच सत्ता का बंटवारा सामुदायिक सरकार

(ख) सरकार के विभिन्न स्तरों पर सत्ता का बंटवारा शक्ति का विभाजन

(ग) विभिन्न सामाजिक समूहों के बीच सत्ता का विभाजन गठबंधन सरकार

(घ) सत्ता दो या दो से अधिक राजनीतिक दलों द्वारा संघीय सरकार

साझा की जाती है?

31. Who elects the community government in Belgium :

- Leaders of Belgium
- Community leaders of Belgium
- Citizens of entire country
- People belonging to one language community only

बेल्जियम में सामुदायिक सरकार का चुनाव कौन करता है।

(क) बेल्जियम के नेता

(ख) बेल्जियम के सामुदायिक नेता

(ग) पूरे देश के नागरिक

(घ) केवल एक भाषा समुदाय के लोग

32. Consider the following statements—choose the correct options.

- In a Federation the power of Federal and Provincial Government are clearly demarcated.
- India is a Federation because the powers of the Union and State Government are specified in the Constitution and they have exclusive jurisdiction on their respective subjects.
- Sri Lanka is a Federation because the country is divided into provinces.
- India is no longer a Federation because some powers of the States have been devolved to the Local Government bodies.

Options :

- | | |
|---------------|---------------|
| a. I, II, III | b. I, III, IV |
| c. I & II | d. II & III |

निम्नलिखित कथनों पर विचार करें- और सही विकल्प का चुनाव करें।

- एक संघ में संघीय और प्रांतीय सरकार की शक्ति रूप में सीमांकित है
- भारत एक संघ है क्योंकि संघ और राज्य सरकार की शक्तियाँ संविधान में निर्दिष्ट हैं और उनके पास अपने संबंधित विषयों पर विशेष अधिकार क्षेत्र है।
- श्रीलंका एक संघ है क्योंकि देश प्रांतों में विभाजित है।

4 भारत अब एक संघ नहीं है क्योंकि राज्यों की कुछ शक्तियाँ स्थानीय सरकारी निकायों को हस्तांतरित कर दी गई है।

विकल्प

a. I, II, III

b. I, III, IV

c. I & II

d. II & III

33. Which one of the following was NOT implemented under the treaty of Vienna in 1815?

a. Restoration of Bourbon dynasty

b. Setting up of series of states on the boundaries of France.

c. Restoration of Monarchies

d. Diluting the German confederation of 39 States.

1815 में वियना की संधि के तहत निम्नलिखित में से कौन सा लागू नहीं किया गया था?

(क) बोर्बोन राजवंश की बाहली

(ख) फ्रांस की सीमाओं पर राज्यों की श्रृंखला की स्थापना।

(ग) राजशाही की बहाली

(घ) 39 राज्यों के जर्मन परिसंघ को कमजोर करना।

34. Identify the correct statement with regard to The Act of Union, 1707 from the following options.

a. The British Monarchy surrendered the power to English Parliament.

b. The British Parliament seized power from Ireland.

c. The formation of the United Kingdom of Great Britain.

d. The British Nation was formed as a result of a war with Scotland and Wales.

निम्नलिखित में से संघ अधिनियम, 1707 के संबंध में सही कथन की पहचान करें।

(क) ब्रिटिश राजशाही ने अंग्रेजी संसद को सत्ता सौंप दी।

(ख) ब्रिटिश संसद ने आयरलैंड से सत्ता हथिया ली।

(ग) यूनाइटेड किंगडम का गठन।

(घ) स्कॉटलैंड और वेल्स के साथ युद्ध के परिणामस्वरूप ब्रिटिश राष्ट्र का गठन किया गया था

35. The main aim for the formation of Zollverein by Prussia in 1834 was to :

- a. Impose Custom Duty on imported goods
- b. Abolish tariff barriers
- c. Reduce custom duties
- d. Introduce new rules for trade

1834 में प्रशिया द्वारा ज़ोलवेरिन के गठन का मुख्य उद्देश्य था

(क) आयातित वस्तुओं पर सीमा शुल्क लगाना

(ख) शुल्क बाधाओं को समाप्त करें

(ग) सीमा शुल्क कम करें

(घ) व्यापार के लिए नए नियमों का प्रचलन करें।

36. Match the following items given in Column-I with those of Column II.

Column I

Column II

- | | |
|------------|--|
| A. Rice | 1. Cool growing season and bright sun shine at the time of ripening. |
| B. Wheat | 2. A crop which is used as both food and fodder. |
| C. Maize | 3. High temperature and high humidity. |
| D. Millets | 4. A rain fed crop. |

Choose the correct answer

- | | A | B | C | D |
|----|---|---|---|---|
| a. | 3 | 1 | 2 | 4 |
| b. | 2 | 4 | 1 | 3 |
| c. | 1 | 3 | 2 | 4 |
| d. | 4 | 2 | 3 | 1 |

कॉलम-1 में दिए गए निम्नलिखित गदों को कॉलम-2 गदों से सुमेलित कीजिए

कॉलम-1

कॉलम-2

क चावल

ख गेहूँ

ग मक्का

घ मोटे अनाज

1. उगाने के लिए ठंडा मौसम और पकने के समय तेज धूप
2. एक फसल जिसका उपयोग भोजन और चारे दोनों के रूप में किया जाता है।
3. उच्च तापमान और उच्च आर्द्रता
4. वर्षा पर आधारित फसल।

37. From features given below identify type of Soil :

- I. They cover the plateaus of Maharashtra, Swarashtra, Malwa, Madhya Pradesh
- II. Well known for their capacity to hold moisture.
- III. Generally poor in phosphoric content.
- IV. They develop deep cracks during hot weather

Options

a. Arid Soil

b. Laterite Soil

c. Red and Yellow Soil

d. Black Soil

नीचे दी गई विशेषताओं से मिट्टी के प्रकार की पहचान करें-

- 1 यह महाराष्ट्र, स्वराष्ट्र मालवा, मध्य प्रदेश के पठारों में पाया जाता है
- 2 नमी धारण करने की उनकी क्षमता के लिए जाना जाता है।
- 3 फॉस्फोरिक सामग्री में आम तौर पर कम।
- 4 गर्म मौसम में इनमें गहरी दरारें पड़ जाती है

विकल्प

क शुष्क मिट्टी

ख लैटेराइट मिट्टी

ग लाल और पीली मिट्टी

घ काली मिट्टी

18. In a country a vegetable seller has income of Rs 6000 but an IT professional in the same country has salary of Rs. 100000. The average income of the country is Rs 60000. What does it show?

- a. Income disparity b. High per capita Income
c. The country is rich d. The country is developed

एक देश में एक सब्जी विक्रेता की आय 6000 रुपये है, लेकिन एक सूचना प्रौद्योगिकी पेशेवर की आय 1,00,000 है इस देश की औसत आय वेतन 60000 रुपये है यह क्या प्रदर्शित करता है?

- (क) आय की असमानता (ख) उच्च प्रति व्यक्ति आय
(ग) देश समृद्ध है। (घ) देश का विकास हुआ है

39. Veena works in an office. She attends her office from 9.30 am to 5.30 pm. She gets her salary regularly at the end of every month. In addition to the salary she also gets medical and other allowances. She does not go to office on Sunday. This is a paid holiday. Find out in which of the following sector she is working.

- a. Organized sector b. Un organized sector
c. Urban sector d. None of these

वीना एक कार्यालय में कार्य करती है। वह सुबह 9.30 बजे से शाम 5.30 बजे तक अपने कार्यालय में आती है।

हर महीने के अंत में नियमित रूप से वेतन प्राप्त करती है। वेतन के अलावा उसे मेडिकल और अन्य भत्ते भी मिलते हैं वह रविवार को कार्यालय नहीं जाती है। यह एक सशुल्क अवकाश है। वह निम्नलिखित में से किस क्षेत्र में कार्य कर रही है।

क संगठित क्षेत्र

ख असंगठित क्षेत्र

ग शहरी क्षेत्र

घ इनमें से कोई नहीं

40. In the question given below there are two statements marked as Assertions (A) and Reason (R). Read the statements and choose the correct code.

Assertion (A) : Different persons have different development goals.

Reason (R) : Our society consists of both rich and poor people. Thus, development for rich person may not be the development for the poor.

- Both A and R are true and R is the correct explanation of A
- Both A and R are true, but R is not the correct explanation of A.
- A is true but R is false.
- A is false but R is true.

नीचे दिए गए प्रश्न में दो कथनों को अभिकथन (ए) और कारण (आर) के रूप में चिह्नित किया गया है। कथनों को पढ़िए और सही कोड का चयन कीजिये-

दावा (ए) - अलग-अलग व्यक्तियों के अलग-अलग विकास लक्ष्य होते हैं।

कारण (आर)- हमारे समाज में अमीर और गरीब दोनों लोग हैं। इस प्रकार अमीर व्यक्ति के लिए विकास गरीबों के लिए विकास नहीं हो सकता है।

- ए और आर दोनों सत्य हैं और आर, ए की सही व्याख्या करता है।
- ए और आर दोनों सत्य हैं, लेकिन आर, ए की सही व्याख्या नहीं है।
- ए सत्य है लेकिन आर असत्य है।
- ए असत्य है लेकिन आर सत्य है।

41. Choose the correct option from the following.

Average income is the :

- Total income of the country divided by the total population.
- Total income of the country divided by number of rich people.
- Total income of the country divided by the working population.
- None of the above.

निम्नलिखित में से सही विकल्प का चयन कीजिए।

औसत आय:

- देश की कुल आय को कुल जनसंख्या से विभाजित किया जाता है।
- देश की कुल आय को अमीर लोगों की संख्या से विभाजित किया जाता है।
- देश की कुल आय को कार्यशील जनसंख्या से विभाजित किया जाता है।
- इनमें से कोई भी नहीं।

42. Match the column I with Column II

Column I

- A. Final Goods
- B. Public sector
- C. Industrial sector
- D. Agriculture

Column II

- 1. Secondary sector
- 2. Primary sector
- 3. Goods that reach consumers
- 4. Owned by Government

कॉलम I को कॉलम II से सुमेलित करें।

कॉलम-1

- (क) अंतिम माल
- (ख) सार्वजनिक क्षेत्र
- (ग) औद्योगिक क्षेत्र
- (घ) कृषि

कॉलम-2

- 1 द्वितीयक क्षेत्र
- 2 प्राथमिक क्षेत्र
- 3 उपभोक्ताओं तक पहुंचने वाली वस्तुएं
- 4 सरकार के स्वामित्व में

43. In a small village there are 4 families with an average income of Rs 10,000. If the income of three families is Rs 14,000 Rs 8,000 and Rs 9,000. Then what is the income of the fourth family.

- a. 7,500
- b. 13,000
- c. 10,000
- d. 9,000

एक छोटे से गाँव में 4 परिवार हैं जिनकी औसत आय 10,000 रुपये है। अगर तीन परिवारों की आय 14,000 रुपये 8000 रुपये और 9,000 रुपये है। फिर क्या है चौथे परिवार की आय

- (क) 7,500
- (ख) 13,000
- (ग) 10,000
- (घ) 9,000

44. The sectors are classified into Public and Private Sector on the basis of :

- a. Employment condition
- b. The nature of economic activity
- c. Ownership of Enterprises
- d. Number of workers employed in the enterprise

क्षेत्रों को सार्वजनिक और निजी क्षेत्र में किस आधार पर वर्गीकृत किया गया है

(क) रोजगार की स्थिति

(ख) आर्थिक गतिविधि की प्रकृति

(ग) उद्यमों का स्वामित्व

(घ) उद्यम में कार्यरत श्रमिकों की संख्या

45. Which one of the following is not a measure of development in human development report of the UNDP?

a. Per Capital Income

b. Educational Levels of the people

c. Body Mass Index

d. Infant Mortality Rate

निम्नलिखित में से कौन मानव विकास में विकास का मापक नहीं है? यूएनडीपी की रिपोर्ट?


(क) प्रति व्यक्ति आय

(ख) लोगों का शैक्षिक स्तर

(ग) शरीर द्रव्यमान सूचकांक

(घ) शिशु मृत्यु दर

46.



Which of the following aspect best signify above image?

a. Round table conference at London

b. Constituent Assembly of India

c. The Frankfurt Parliament in the church of Saint Paul

d. The Supreme Court of India.

निम्नलिखित में से कौन सा पहलू उपरोक्त छवि को सबसे अच्छा दर्शाता है?

(क) लंदन में गोलमेज सम्मेलन

- (ख) भारत की संविधान सभा
 (ग) सेंट पॉल के चर्च में फ्रैंकफर्ट संसद
 (घ) भारत का सर्वोच्च न्यायालय।

Note: Following question is for visually impaired candidate in lieu of Question 46

46. Who was proclaimed the king of United Italy in 1861?
- a. Kaiser William I
 b. Henry VII
 c. Louis IV
 d. Victor Emmanuel I
- 1861 में एकीकृत इटली का राजा किसे घोषित किया गया था?
- (क) कैसर विलियम-1
 (ख) हेनरी- VII
 (ग) लुई-IV
 (घ) विक्टर इमैनुएल-1

SECTION-C

This Section consists of two cases. There are total of 12 questions in this Section.

Attempt any 10 questions from this section.

Read the source given below and answer the questions by choosing the most appropriate option.

The first clear expression of nationalism came with the French Revolution in 1789. France as you would remember, was a full fledged territorial state in 1789 under the rule of an absolute Monarch. The political and constitutional changes that came in the wake of the French Revolution led to the transfer of sovereignty from the monarchy to a body of French citizen. The revolution proclaimed that it was the people who would henceforth constitute the nation and shape its destiny.

From the very beginning, the French Revolutionaries introduced various majors and practices that could create a sense of collective identity amongst the French people. The ideas of La

patrie (the father land) and *Le citoyen* (the citizen) emphasised the notion of a united community enjoying equal rights under a constitution. A new French flag, the tri colour, was chosen to replace the former Royal Standard. The Estates General was elected by the body of active citizens and renamed the National Assembly. New hymns were composed, oaths taken and martyrs commemorated, all in the name of the nation. A centralized administrative system was put in place and it formulated uniform laws for all citizens within its territory. Internal custom duties and dues were abolished and a uniform system of weights and measures was adopted. Regional dialects were discouraged and French, as it was spoken and written in Paris, became the common language of the nation.

इस वर्ग में दो स्थितियों को दिया गया है उनमें कुल 12 प्रश्न हैं। किन्हीं 10 प्रश्नों के उत्तर देना है।

नीचे दिए गए स्रोत को पढ़ें और सबसे उपयुक्त उत्तर का चुनाव करें।

राष्ट्रवाद की पहली स्पष्ट अभिव्यक्ति 1779 में फ्रांसीसी क्रांति के साथ हुई जैसे कि आपको याद होगा, 1779 में फ्रांस एक ऐसा राज्य था जिसके संपूर्ण भू-भाग पर एक निरंकुश राजा का आधिपत्य था। फ्रांसीसी क्रांति से जो राजनीतिक और संवैधानिक बदलाव हुए उनसे प्रभु सत्ता राजतंत्र से निकलकर नागरिकों के समूह में हस्तांतरित हो गई। क्रांति ने घोषणा की अब लोगों द्वारा राष्ट्र का गठन होगा और वे ही उसकी नियति तय करेंगे। प्रारंभ से ही फ्रांसीसी क्रांतिकारियों ने ऐसे अनेक कदम उठाए जिससे फ्रांसीसी लोगों में एक सामूहिक पहचान की भावना पैदा हो सकती थी। पृथ भूमि और नागरिक जैसे विचारों ने एक संयुक्त समुदाय के विचार पर बल दिया। जिसे एक संविधान के अंतर्गत समान अधिकार प्राप्त थे। अतः एक नया फ्रांसीसी झंडा तिरंगा चुना गया जिसने पहले के राजध्वज की जगह ले ली। इस्टेट जनरल का चुनाव सक्रिय नागरिकों के समूह द्वारा किया जाने लगा और उसका नाम बदलकर नेशनल असेंबली कर दिया गया। नई स्तुतियाँ रची गई, शपथ ली गई, शहीदों का गुणगान हुआ और यह सब राष्ट्र के नाम पर हुआ। एक केंद्रीय प्रशासनिक व्यवस्था लागू की गई। जिसने अपने भू-भाग में रहने वाले सभी नागरिकों के लिए समान कानून बनाए। आंतरिक आयात-निर्यात शुल्क समाप्त कर दिए और ओआर भार तथा नापने की एक समान व्यवस्था लागू की गई। इसलिए क्षेत्रीय बोलियों को हतोत्साहित किया गया और पेरिस में फ्रेंच जैसी बोली और लिखी जाती थी वही राष्ट्र की साझा भाषा बन गई।

47. At the time of French Revolution it was under the rule of :

- a. Constituent Assembly
- b. An absolute monarchy
- c. Liberal monarch who supported the uprising
- d. None of these

फ्रांस क्रांति के समय किसके आधिपत्य में था ?

(क) संवैधानिक सभा

(ख) निरंकुश राजतंत्र

(ग) उदारवादी राजा जिसने विरोध का समर्थन किया (घ) उपरोक्त में से कोई नहीं

48. From the very beginning French Revolution tried to create the:

- a. Idea of democracy
- b. Sense of collectiveness
- c. Idea of co-operative
- d. None of the above

शुरुआत से ही फ्रांस क्रांति निम्नलिखित में से किस विचारधारा का सृजन किया।

(क) प्रजातंत्र की विचारधारा

(ख) सामूहिक पहचान की भावना

(ग) संयुक्त समुदाय की विचारधारा

(घ) इनमें से कोई नहीं

49. Which of the following statement correctly, define the idea of a *La patrie* and *Le citoyen*:

- a. A new French flag and new Hymns
- b. A sense of collective identity
- c. United community enjoying equal right under constitution
- d. Both (a) and (b) above.

नीचे दिए गए किस व्याख्यान से पृथुभूमि और नागरिक के विचार को परिभाषित करता है?

(क) एक नया फ्रांसीसी झंडा और नयी स्तुतियाँ

(ख) संयुक्त सामुदायिक पहचान की भावना

(ग) एकीकृत समुदाय जिन्हें संविधान के द्वारा बराबर अधिकारों को दिया गया।

(घ) ऊपर के दोनों (क) और (ख)

50. What initiative was taken by National Assembly?

- Introduce centralized administrative system
- Formulated uniform laws
- Internal custom duties and dues were abolished
- All of the above

नेशनल असेंबली के द्वारा क्या पहल किया गया ?

(क) केंद्रीय प्रशासनिक व्यवस्था का लागू किया जाना

(ख) सभी नागरिकों के लिए समान कानून बनाया गया

(ग) आंतरिक सीमा शुल्क को समाप्त किया जाना

(घ) उपरोक्त सभी

51. Which type of political and constitutional changes happened after French Revolution?

- Transfer of sovereignty from the monarchy to a body of French citizen
- The concept and practices of a modern state
- Constitutional monarchy
- All of the above

फ्रांस की क्रांति के बाद किस तरह के राजनीतिक और संवैधानिक परिवर्तन आये?

(क) सत्ता का राजा से हस्तांतरण

(ख) एक आधुनिक राष्ट्र की विचारधारा

(ग) संवैधानिक राजतंत्र

(घ) उपरोक्त सभी

52. What was "Young Italy":

- Vision of Italy
- National Anthem of Italy
- Secret Society
- Confederation of Italy

'यंग इटली' क्या थी ?

(क) इटली का 'सपना'

(ख) इटली का राष्ट्रीय गान

(ग) एक 'गुप्त समूह'

(घ) इटली का संघ

Read the source given below and answer the questions by choosing the most appropriate option.

Primitive farming is still practiced in few pockets of India. Primitive subsistence agriculture is practiced on small patches of land with the help of primitive tools like HO, Dao and Digging sticks and family/community labor. This type of farming depends upon monsoon, natural fertility of the soil and suitability of other environmental condition to the crops grown.

It is a "slash and burn" agriculture. Farmers clear a patch of land and produce cereals and other food crops to sustain their family. When the soil fertility decreases, the farmer shift and clear a fresh patch of land for cultivation. This type of shifting allows nature to replenish the fertility of the soil through natural processes; Land productivity in this type of agriculture is low as the farmer does not use fertilizers or other modern inputs. It is known by different names in the different parts of the country.

नीचे दिए गए स्रोत का अध्ययन करें और सबसे उपयुक्त विकल्प का चुनाव करें : प्रारंभिक जीवन निर्वाह कृषि भूमि के छोटे टुकड़ों पर आदिम कृषि औजारों जैसे लकड़ी का हल, डालो और खुदाई करने वाली छड़ी तथा परिवार अथवा समुदाय श्रम की मदद से की जाती है। इस प्रकार की कृषि प्रायः मानसून, मृदा की प्राकृतिक उर्वरता और फसल उगाने के लिए अन्य पर्यावरणीय परिस्थितियों की उपयुक्तता पर निर्भर करती है। यह कर्तन दहन प्रणाली कृषि है। किसान जमीन के टुकड़े साफ करके उन पर अपने परिवार के पालन पोषण के लिए अनाज एवं अन्य खाद्य फसलें उगाते हैं। जब मृदा की उर्वरता कम हो जाती है तो किसान उस भूमि के टुकड़े से स्थानांतरित हो जाते हैं और कृषि के लिए अन्य भूमि का दूसरा टुकड़ा साफ करते हैं। कृषि के इस प्रकार के स्थानांतरण प्राकृतिक प्रक्रियाओं द्वारा मिट्टी की उर्वरा शक्ति बढ़ जाती है। चूंकि किसान उर्वरक तथा अन्य आधुनिक तकनीकों का प्रयोग नहीं करते इसलिए इस प्रकार की कृषि में उत्पादकता कम होती है। देश के विभिन्न भागों में इस प्रकार की कृषि को विभिन्न नामों से जाना जाता है।

53. Which of the oldest form of agriculture, done on very small patches of land.

- | | |
|----------------------------------|----------------------|
| a. Commercial farming | b. Intensive farming |
| c. Primitive subsistence farming | d. Extensive farming |

निम्नलिखित में से कौन कृषि का प्राचीन तरीका है, जो जमीन के छोटे टुकड़ों पर किता जाता है।

(क) वाणिज्य कृषि

(ख) गहन जीविका कृषि

(ग) प्रारंभिक जीविका निर्वाह कृषि

(घ) विस्तारित कृषि

54. Which of the following condition is necessary for Primitive Farming?

a. Monsoon

b. Labour

c. Technology

d. Capital

निम्नलिखित में से कौन-सी स्थिति जीविका निर्वाह कृषि के लिए जरूरी है ?

(क) मानसून

(ख) तकनीकी

(ग) श्रम

(घ) पूँजी

55. A farmer practicing slash and burn agriculture will not be able to cultivate which type of crop?

a. Cash crop

b. Kharif crop

c. Zaid crop

d. Food crop

कर्तन बहन प्रणाली कृषि को अपनाकर किसान निम्न में से किस फसल की खेती नहीं कर सकता ?

(क) वाणिज्य फसल

(ख) जायद फसल

(ग) खरीफ फसल

(घ) खाद्यान्न फसल

56. Why the farmer does not use fertilizers or other inputs in Primitive Farming?

a. Because they have small plot of land

b. Because they depend on monsoon

c. Because they do not have sufficient money

d. None of the above

जीविका निर्वाह कृषि में किसान उर्वरकों या दूसरे निवेशों का इस्तेमाल क्यों नहीं करता है?

(क) क्योंकि उनके पास भूमि का छोटा टुकड़ा है

- (ख) क्योंकि वह मानसून पर निर्भर करते हैं
 (ग) क्योंकि उनके पास पैसे की कमी है
 (घ) इनमें से कोई नहीं

57. Which of the following statement is true in the context of given passage:

- a. Farmer shift when the soil fertility decreases.
 b. This type of shifting allows nature to replenish the fertility of soil.
 c. Land productivity in this type of agriculture is low.
 d. All of the above.

ऊपर दिए गए अनुच्छेद के संदर्भ में निम्न में से कौन-सा व्याख्यान सत्य है?

- (क) मृदा की उर्वरता कम होने पर किसान का स्थानांतरित हो जाना
 (ख) इस प्रकार की स्थानांतरण प्रकृति को मिट्टी की उर्वरता को फिर से भरने की अनुमति देती है।
 (ग) इस प्रकार की कृषि में भूमि की उत्पादकता कम होती है।
 (घ) ऊपर के सभी

58. Which farming is labour intensive farming?

- a. Intensive subsistence farming
 b. Commercial farming
 c. Primitive subsistence farming
 d. Plantation farming

कौन-सी कृषि श्रम प्रधान कृषि है ?

- (क) गहन निर्वाह कृषि (ख) वाणिज्यिक कृषि
 (ग) आदिम निर्वाह कृषि (घ) रोपण कृषि

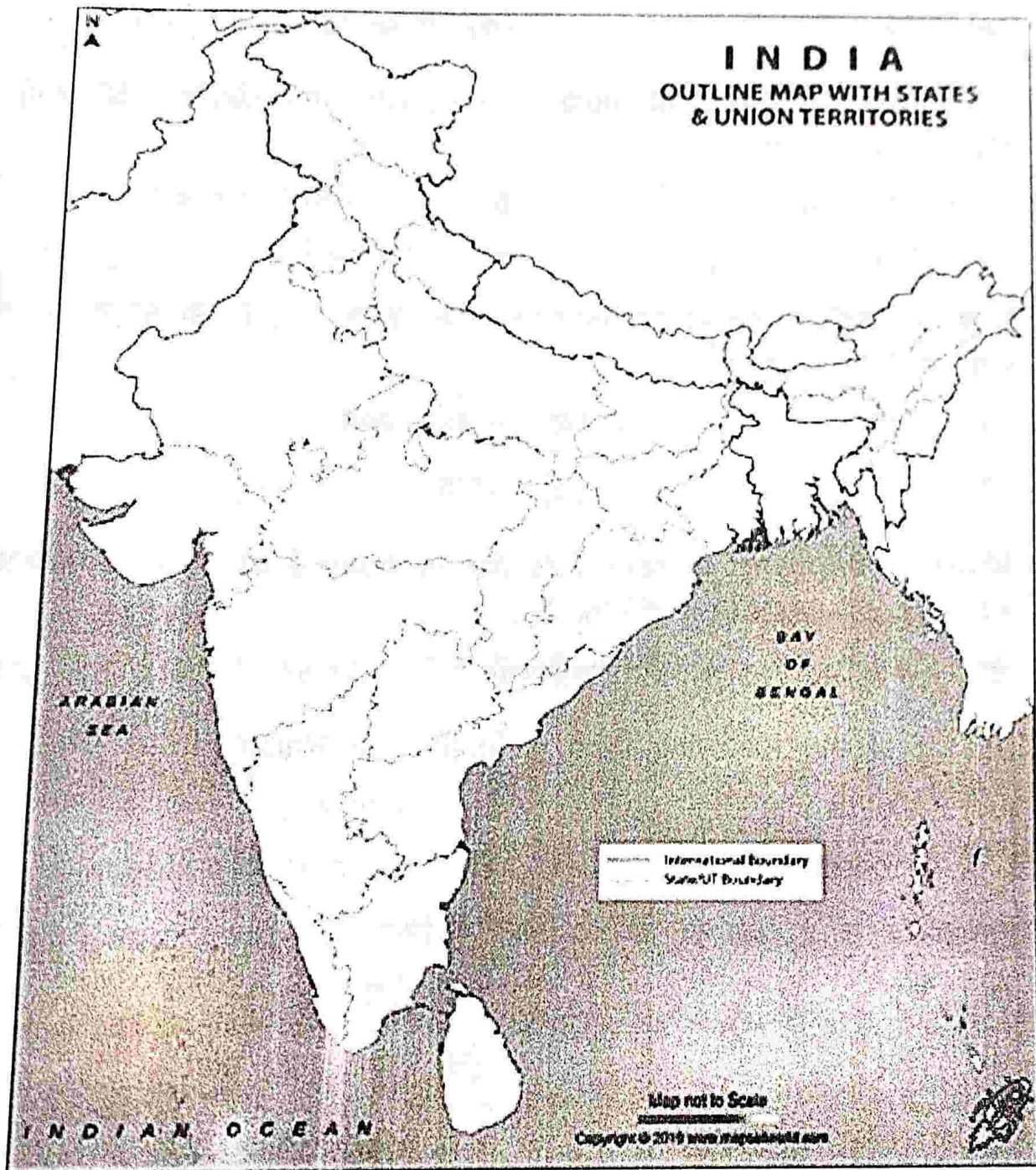
SECTION-D

Attempt both the Map based questions

On the given outline map of India, identify the locations with the help of specified information.

मानचित्र आधारित दोनो प्रश्नों को हल करें।

भारत के दिए गए रूपरेखा मानचित्र पर, निर्दिष्ट जानकारी की सहायता से स्थानों की पहचान करें -



59. On the political map of India, identify Dam marked as "A" from the following options:

- | | |
|-----------------------|-------------------|
| a. Sardar Sarovar Dam | b. Bhakhra Nangal |
| c. Salal Dam | d. Periyar Dam |

भारत के राजनीतिक मानचित्र पर, निम्नलिखित विकल्पों में से "ए" के रूप में चिह्नित बाँध की पहचान करें।

(क) सरदार सरोवर बाँध

(ख) भाखड़ा नंगल

(ग) सलाल बाँध

(घ) पेरियार बाँध

60. On the political map of India, identify Dam marked as "B" from the following options:

a. Hirakund

b. Nagarjuna Sagar

c. Tehri

d. Tungabhadra

भारत के राजनीतिक मानचित्र पर, निम्नलिखित विकल्पों में से "बी" के रूप में चिह्नित बाँध की पहचान 'बी' करें।

(क) हीराकुंड

(ख) नागार्जुन सागर

(ग) टिहरी

(घ) तुंगभद्रा

Note : Following question is for visually impaired candidate in lieu of Question 59 & 60.

नोट : निम्नलिखित प्रश्न दृष्टिबाधित उम्मीदवारों के लिए प्रश्न 59 और 60 के स्थान पर हैं।

59. Which of the following dam is located in Rajasthan?

A. Mettur

B. Tilaiya

C. Rihand

D. Rana Pratap Sagar

निम्नलिखित में से कौन-सा बाँध राजस्थान में स्थित है ?

(क) मेट्टूर

(ख) तिलैया

(ग) रिहंद

(घ) राणा प्रताप सागर

60. Which one of the following is a principal Rabi crop

A. Rice

B. Wheat

C. Jawar

D. Bajra

निम्नलिखित में से कौन एक प्रमुख रबी फसल है ?

(क) चावल

(ख) गेहूँ

(ग) ज्वार

(घ) बाजरा

Time : 90 Min

Marks : 40

General Instructions :

1. The Question Paper contains four sections.
2. Section A has 24 questions. Attempt any 20 questions.
3. Section B has 22 questions. Attempt any 18 questions.
4. Section C has 12 questions (Case based). Attempt any 10 questions.
5. Section D contains 2 Map based questions. Attempt both the questions.
6. All questions carry equal marks.
7. There is no negative marking.

SECTION-A

(Attempt any 20 out of 24 questions)

1. Which one of the following is not an example of renewable resources?

- A. Solar energy B. Wind energy
C. Water energy D. Minerals

निम्नलिखित में से कौन-सा नवीकरणीय संसाधनों का उदाहरण नहीं है ?

- (क) सौर ऊर्जा (ख) पवन ऊर्जा
(ग) जल ऊर्जा (घ) खनिज

2. Which of the following is true regarding how the new artist depicted Liberty during the French Revolution?

X

- A. As a female figure with a Torch of Enlightenment in one hand and the Charter of Rights of Man in the other hand
- B. Blindfolded woman carrying a pair of weighing scales
- C. The gold, red and black tricolor
- D. Rays of the rising sun

निम्नलिखित में से कौन-सा सच है कि नए कलाकारों ने स्वतंत्रता के दौरान कैसे चित्रित किया, फ्रांसीसी क्रांति?

- (क) एक हाथ में ज्ञान की मशाल और अधिकारों के चार्टर के साथ एक महिला आँकड़ा के रूप में, दूसरी ओर मनुष्य की
- (ख) आँखों पर पट्टी बाँधकर महिला वजन तराजू की एक जोड़ी ले जा रही है।
- (ग) सोने, लाल और काले तिरंगे
- (घ) उगते सूरज की किरणें

3. Underemployment is a situation when people

- A. do not want to work
- B. are not paid for their work
- C. are working in a lazy manner
- D. want to do job but not getting

अल्प रोजगार एक ऐसी स्थिति है जब लोग

- (क) काम नहीं करना चाहता
- (ख) उनके काम के लिए भुगतान नहीं कर रहे हैं
- (ग) आलसी तरीके से काम कर रहे हैं
- (घ) नौकरी करना चाहते हैं लेकिन नहीं मिल रहे

4. Individual resources are owned by

- A. Member of the community B. Nation
- C. Privately D. None of these

व्यक्तिगत संसाधनों के स्वामित्व में हैं.....

- (क) समुदाय के सदस्य (ख) राष्ट्र
- (ग) निजी तौर पर (घ) इनमें से कोई नहीं

5. Disguised unemployment means a situation where people are
- A. unemployed
 - B. employed but earning less salary
 - C. employed but work less than their potential
 - D. unemployed for a short period of time

प्रच्छन्न बेरोजगारी का मतलब है ऐसी स्थिति जहाँ लोग हैं :

(क) बेरोजगार

(ख) नियोजित लेकिन कम वेतन कमा

(ग) कार्यरत है लेकिन उनकी क्षमता से कम काम

(घ) एक छोटी अवधि के लिए बेरोजगार

6. In which year was Congress of Vienna held?

A. 1915

B. 1885

C. 1845

D. 1815

वियना की कांग्रेस किस साल आयोजित की गई ?

(क) 1915

(ख) 1885

(ग) 1845

(घ) 1815

7. Tertiary sector has become an important part of Indian economy on account of :

A. development of agriculture and industry

B. rise in levels of income

C. both A & B

D. none of the above

तृतीयक क्षेत्र भारतीय अर्थव्यवस्था का एक महत्वपूर्ण हिस्सा बन गया है :

(क) कृषि और उद्योग का विकास

(ख) आय के स्तर में वृद्धि

(ग) (क) और (ख) दोनों

(घ) उपरोक्त में से कोई नहीं

8. What is the current option to fill in the blank? GDP is the total value of produced.

- A. All goods and services.
- B. All final goods and services
- C. All intermediate goods and services
- D. All intermediate and final goods and services

खाली में भरने के लिए वर्तमान विकल्प क्या है ? सकल घरेलू उत्पाद का कुल मूल्य है.....उत्पादित।

- (क) सभी वस्तुओं और सेवाओं
- (ख) सभी अंतिम वस्तुओं और सेवाएँ
- (ग) सभी मध्यवर्ती वस्तुओं और सेवाओं
- (घ) सभी मध्यवर्ती और अंतिम वस्तुओं और सेवाओं

9. Which of the following is not true regarding the Civil Code of 1804?

- A. Equality before Law
- B. Universal Adult Franchise
- C. Right to Property
- D. No privileges based on birth

निम्नलिखित में से कौन-सा 1804 के नागरिक संहिता के बारे में सच नहीं है?

- (क) कानून के सामने समानता
- (ख) यूनिवर्सल एडल्ट फ्रैंचाइजी
- (ग) संपत्ति का अधिकार
- (घ) जन्म के आधार पर कोई विशेषाधिकार नहीं

10. Different persons have

- A. Same notion of country's development
- B. Different notion of country's development
- C. Conflicting notion of country's development
- D. Only B and C

अलग-अलग व्यक्तियों के पास

- (क) देश के विकास की एक ही धारणा
- (ख) देश के विकास की अलग धारणा

(ग) देश के विकास की परस्पर विरोधी धारणा

(घ) केवल (ख) और (ग)

11. In Germany the measuring unit "Elle" was used to measure:

A. Cloth

B. Thread

C. Height

D. Land

जर्मन में मापने इकाई को मापने के लिए इस्तेमाल किया गया था "एली"

(क) कपड़ा

(ख) धागा

(ग) ऊँचाई

(घ) भूमि

12. The idea of development involves questions like.

A. What are the essential things that we require?

B. What are the essential things that our ancestors required 100 years back?

C. What are the essential things that nobody requires?

D. None of the above.

विकास के विचार जैसे सवाल शामिल हैं :

(क) हमें किन जरूरी चीजों की जरूरत है?

(ख) हमारे पूर्वजों को 100 साल पहले क्या जरूरी चीजें चाहिए थीं?

(ग) किन जरूरी चीजों की जरूरत नहीं है?

(घ) उपरोक्त में से कोई नहीं

13. The Habsburg's were rulers of :

A. Austria-Hungary

B. Dutch republic

C. Switzerland

D. Germany

हैब्सबर्ग के शासक थे :

(क) ऑस्ट्रिया-हंगरी

(ख) डच गणराज्य

(ग) स्विट्जरलैंड

(घ) जर्मनी

14. Sahara airlines is example of

A. Service sector

B. Private sector

C. Tertiary sector

D. All the above

सहाय एयरलाइंस का एक उदाहरण है :

(क) सेवा क्षेत्र

(ख) निजी क्षेत्र

(ग) तृतीयक क्षेत्र

(घ) उपरोक्त सभी

15. Which are the two main beverage crops produced in India?

A. Sugar cane & Oil seeds B. Tea & Coffee

C. Jowar & Bajra D. Rice & Wheat

भारत में उत्पादित दो मुख्य पेय फसलें कौन-सी हैं ?

(क) गन्ना और तिलहन

(ख) चाय और कॉफी

(ग) ज्वार और बाजरा

(घ) चावल और गेहूँ

16. Non-renewable resources are reproduced in

A. Millions of years

B. Few years

C. Renewed constantly

D. None of these

गैर नवीकरणीय संसाधनों में पुनः पेश कर रहे हैं :

(क) लाखों साल

(ख) कुछ साल

(ग) लगातार नए सिरे से

(घ) इनमें से कोई नहीं

17. Which of the following is true about the unitary form of government?

A. In a unitary government the powers are divided between the centre and the state Provincial government.

B. All the power is with the citizens

C. Power is concentrated with the central government

D. State government has all the powers

निम्नलिखित में से कौन-सा सरकार के एकात्मक रूप के बारे में सच है ?

(क) एक आकांक्षी सरकार में शक्तियाँ केंद्र और राज्य प्रांतीय सरकार के बीच विभाजित हैं।

(ख) सभी शक्ति नागरिकों के साथ है।

(ग) सत्ता केंद्र सरकार के साथ केंद्रित है।

(घ) राज्य सरकार के पास सभी शक्तियाँ हैं।

18. Resources obtained from nature and have life are called as.....

A. Biotic resource

B. Abiotic resources

C. A & B both

D. None of these

प्रकृति से प्राप्त संसाधनों और जीवन के रूप में कहा जाता है.....

(क) बायोटिक संसाधन

(ख) अजैविक संसाधन

(ग) (क) और (ख) दोनों

(घ) इनमें से कोई नहीं

19. Which type of government does Belgium have?

A. Centrist

B. Unitary

C. Federal

D. Communist

बेल्जियम के पास किस प्रकार की सरकार है ?

(क) मध्यममार्गी

(ख) एकात्मक

(ग) फेडरल

(घ) कम्युनिस्ट

20. Which one of the following fibers is grown in black soil?

A. Cotton

B. Jute

C. Silk

D. Wool

निम्नलिखित में से कौन-सा फाइबर काली मिट्टी में उगाया जाता है ?

(क) कपास

(ख) जूट

(ग) सिल्क

(घ) वूल

21. An intelligent power sharing mechanism :

A. Avoid conflicts

B. Avoid unity

C. Helps in Majoritarianism

D. Helps the richer section of the society

एक बुद्धिमान शक्ति साझा तंत्र :

(क) संघर्षों से बचें

(ख) एकता से बचें

- (ग) बहुसंख्यक वाद में मदद करता है
 (घ) समाज के अमीर वर्ग में मदद करता है

22. Rearing of silk worms for the production of silk fiber is called?

- A. Inter culture B. Sericulture
 C. Horticulture D. Pisciculture

रेशम फाइबर के उत्पादन के लिए रेशम के कीड़ों के पालन कहा जाता है ?

- (क) इंटर कल्चर (ख) रेशम पालन
 (ग) र्स हॉर्टिकल्चर (घ) पिस्सीकल्चर

23. Renewable resources are also known as.....

- A. Non-renewable resources B. Replenishable resources
 C. Biotic resources D. None of these

नवीकरणीय संसाधनों को भी जाना जाता है.....

- (क) गैर नवीकरणीय संसाधन (ख) पुनः पूर्ति योग्य संसाधन
 (ग) बायोटिक संसाधन (घ) इनमें से कोई नहीं

24. Which of the following is not true with reference to Napoleon?

- A. He introduced Napoleonic Code
 B. He promoted democracy in France
 C. He made the administrative system more rational and efficient
 D. The Napoleonic Code was exported to all regions under French control.

नेपोलियन के संदर्भ में निम्नलिखित में से कौन-सा सच नहीं है ?

- (क) उन्होंने नेपोलियन कोड पेश किया
 (ख) उन्होंने फ्रांस में लोकतंत्र को बढ़ावा दिया
 (ग) उन्होंने प्रशासनिक प्रणाली को अधिक तर्कसंगत और कुशल बनाया
 (घ) नेपोलियन कोड फ्रेंच नियंत्रण के तहत सभी क्षेत्रों में निर्यात किया गया था।

SECTION-B

(Attempt any 18 out of 22 questions)

25. Recognize the statue to whom the Revolutionaries marching
 मूर्ति को पहचानें कि क्रांतिकारी किससे मार्च कर रहे हैं ?



Options:

A. The statue of Liberty

B. The statue of Marianna

C. The statue of Germania

D. The statue of La Italia

विकल्प :

(क) स्वतंत्रता की प्रतिमा

(ख) मारियाना की प्रतिमा

(ग) जर्मनिया की प्रतिमा

(घ) ला इटालिया की प्रतिमा

26. Assertion (A) : In the area conquered by Napoleon the reaction of the local population were mixed.

Reason (R) : Increased taxation, censorship etc. outweigh the advantages of administrative changes.

Options:

A. Both A and R are true and R is correct explanation of A

B. Both A and R are true and R is not correct explanation of A

C. A is true but R is false

D. A is false but R is true

जोर (ए) : नेपोलियन द्वारा विजय प्राप्त क्षेत्र में स्थानीय आबादी की प्रतिक्रियाओं को मिलाया गया था।

कारण (आर) : बढ़ा करधान, संसरशिप, आदि प्रशासनिक परिवर्तन के फायदों से पल्ला झाड़ रहे हैं।

विकल्प :

- (क) दोनों 'ए' और 'आर' सच हैं और 'आर' एक का सही विवरण है।
(ख) दोनों 'ए' और 'आर' सच है और 'आर', 'ए' का सही विवरण नहीं है।
(ग) 'ए' सच है, लेकिन 'आर' झूठी है।
(घ) 'ए' झूठी है, लेकिन 'आर' सच है।

27. Consider the following statements about the ethnic composition of Sri Lanka.

- a) Major social groups are the Sinhala-speaking (74%) and Tamil-speaking (18%)
b) Among the Tamils, there are two sub-groups, Sri Lankan Tamils and Indian Tamils.
c) There are about 7% Christians, who are both Tamil and Sinhala.
d) Most of the Sinhala-speaking are Hindus or Muslims and most of the Tamil-speaking are Buddhists.

Which of the above statements are correct?

- (a) A, B, C (b) A, B, D
(c) B, C, D (d) A, B, C, D

श्रीलंका की जातीय संरचना के बारे में निम्नलिखित बयानों पर विचार करें :

- (क) प्रमुख सामाजिक समूह सिंहल भाषा (74 प्रतिशत) और तमिल भाषा (18 प्रतिशत) है?
(ख) तमिलों में दो उप-समूह श्रीलंकाई तमिल और भारतीय तमिल हैं।
(ग) लगभग 7 प्रतिशत ईसाई है, जो तमिल और सिंहल दोनों हैं।
(घ) सिंहल भाषी ज्यादातर हिंदू या मुसलमान हैं और ज्यादातर तमिल भाषी बौद्ध हैं।

उपरोक्त बयानों में से कौन-सा सही है ?

- (क) (क), (ख) (ग) (ख) (क), (ख), (घ)
(ग) (ख), (ग), (घ) (घ) (क), (ख), (ग), (घ)

28. Indian Railways is an example of public sector as :

- (a) It is controlled and managed by the government.
(b) It is a medium of public transport.

- (a) Both (a) and (b) (b) Only (a)
(c) Only (b) (d) Neither (a) nor (b)

भारतीय रेलवे सार्वजनिक क्षेत्र का एक उदाहरण है :

(क) यह सरकार द्वारा नियंत्रित और प्रबंधित किया जाता है।

(ख) यह सार्वजनिक परिवहन का एक माध्यम है।

(क) दोनों (क) और (ख) (ख) केवल (क)

(ग) केवल (ख) (घ) न तो (क) और न ही (ख)

29. Identify the soil with the help of clues given below :

- develops in areas with high temperature and heavy rainfall is low in humus content

- found in the hilly areas of Karnataka, Kerala and Tamil Nadu

A. Forest soil

B. Yellow soil

C. Black soil

D. Laterite soil

नीचे दिए गए सुराग की मदद से मिट्टी की पहचान करें :

- ह्यूमस सामग्री में कम है।

- कर्नाटक, केरल और तमिलनाडु के पहाड़ी क्षेत्रों में पाया जाता है।

(क) वन मिट्टी

(ख) पीली मिट्टी

(ग) काली मिट्टी

(घ) लेटराइट मिट्टी

30. Which of the following is TRUE features of the conservative regimes set up in Europe following the defeat of Napoleon in 1815?

1. Conservatives believed that established traditional institutions of state and society-like the monarchy the Church, social hierarchies, property and the family-should be preserved.

परंपरावादियों का मानना था कि राज्य और समाज की स्थापित पारंपरिक संस्थाओं राजशाही की तरह चर्च, सामाजिक पदानुक्रम, संपत्ति और परिवार-संरक्षित किया जाना चाहिए।

2. Most conservatives, supported modernization because they believed that it could help in strengthening traditional institutions like the monarchy

- (a) Only (i) (b) Only (ii)
(c) Both (i) and (ii) (d) Neither (i) Nor (ii)

आधुनिकीकरण का समर्थन किया क्योंकि वे मानते थे कि यह राजशाही जैसे पारंपरिक संस्थानों को मजबूत करने में मदद कर सकता है :

- (क) केवल (ए) (ख) केवल (बी)
(ग) केवल (ए) और (बी) (घ) (ए) और (बी)

31. Consider the following statements on power sharing and select the answer using the codes given below :

पावर-शेयरिंग पर निम्नलिखित बयानों पर विचार करें और नीचे दिए गए कोड का उपयोग करके उत्तर का चयन करें :

- I. It is good for democracy.
II. It creates harmony in different groups
III. It brings transparency in the governance.
IV. It brings socio-political competition among parties.

Options :

- I. यह लोकतंत्र के लिए अच्छा है।
II. यह विभिन्न समूहों में सद्भाव पैदा करता है
III. इससे शासन में पारदर्शिता आती है।
IV. यह पार्टियों के बीच सामाजिक-राजनीतिक प्रतिस्पर्धा लाता है।

विकल्प :

- A. I, II & III B. II, III & IV
C. I, III & IV D. I, II & IV

32. Assertion (A): Ground water is a renewable resource.

Reason (R): There is no possibility of its scarcity.

जोर 'ए' : भूजल एक नवीकरणीय संसाधन है।

कारण 'आर' : इसकी कमी की कोई संभावना नहीं है।

Options :

- A. Both A and R are true and R is correct explanation of A
दोनों 'ए' और 'आर' सच हैं और 'आर' एक का सही विवरण है।
- B. Both A and r are true and r is not correct explanation of A
दोनों 'ए' और 'आर' सच है और 'आर', 'ए' का सही विवरण नहीं है।
- C. A is true but r is false
'ए' सच है, लेकिन 'आर' झूठी है।
- D. A is false but R is true A
'ए' झूठी है, लेकिन 'आर' सच है।

33. Two statements are given in the question below as Assertion (A) and Reasoning (R). Read the statements and choose the appropriate option

नीचे दिए गए प्रश्न में दो वक्तव्य दावे 'ए' और तर्क 'आर' के रूप में दिए गए हैं।
बयान पढ़ें और उचित विकल्प चुनें।

Assertion (A) : Sri Lanka adopted Sinhala as the only official language of the state.

दावा 'ए' : श्रीलंका ने सिंहल को राज्य की एकमात्र आधिकारिक भाषा के रूप में अपनाया।

Reason (R) : The government of Sri Lanka wanted to foster their culture, language and religion.

कारण 'आर' : श्रीलंका सरकार अपनी संस्कृति, भाषा और धर्म को बढ़ावा देना चाहती थी।

Options:

- A. Both A and R are true and R is correct explanation of A
दोनों 'ए' और 'आर' सच हैं और 'आर' एक का सही विवरण है।
- B. Both A and r are true and r is not correct explanation of A
दोनों 'ए' और 'आर' सच है और 'आर', 'ए' का सही विवरण नहीं है।
- C. A is true but r is false
'ए' सच है, लेकिन 'आर' झूठी है।
- D. A is false but R is true A
'ए' झूठी है, लेकिन 'आर' सच है।

34. Match the following items given in Column A with those in Column B.

Column A	Column B
A. Community Government सामुदायिक सरकार	1. USA यूएसए
B. Coming together Federation एक साथ आ रहा है फेडरेशन	2. Sri Lanka श्रीलंका
C. Holding together Federation एक साथ आयोजित फेडरेशन	3. Belgium बेल्जियम
D. Unitary System of Government सरकार की एकात्मक प्रणाली	4. India भारत

Choose the correct answer from the option given below :
नीचे दिए गए विकल्प से सही उत्तर चुनें।

- A. (A)-(2), (B)-(4), (C)- (1), (D)- (3)
- B. (A)- (3), (B)- (1), (C)- (4), (D)- (2)
- C. (A)- (4), (B)- (1), (C)- (2), (D)- (3)
- D. (A)- (4), (B)- (2), (C)- (1), (D)- (3)

35. The sum total of production of all goods and services in the three Sectors are combined :

- (a) NDP
- (b) NI
- (c) GNI
- (d) GDP

तीनों क्षेत्रों में सभी वस्तुओं और सेवाओं के उत्पादन का कुल योग संयुक्त है:

- (क) एन.डी.पी.
- (ख) एन.आई.
- (ग) जी.एन.आई.
- (घ) सकल घरेलू उत्पाद

36. Read the given sentences :

दिये गए वाक्यों को पढ़ें :

- 1. A large country decides to divide its power between the constituent States and the national government.

एक बड़ा देश घटक राज्यों और राष्ट्रीय सरकार के बीच अपनी शक्ति को विभाजित करने का फैसला करता है।

2. The central government tends to be more powerful vis-a-vis the States.

केंद्र सरकार राज्यों की तुलना में अधिक शक्तिशाली हो जाती है।

3. Very often different constituent units of the federation have unequal powers.

अक्सर फेडरेशन की विभिन्न घटक इकाइयों के पास असमान शक्तियाँ होती हैं।

4. Identify the type of federation on the basis of given sentences
दिए गए वाक्यों के आधार पर फेडरेशन के प्रकार की पहचान करें :

- a) Holding together federations
संघों को एक साथ आयोजित करना
- b) Coming together federations
एक साथ संघों आ रहा है
- c) Both
दोनों
- d) None of the above
उपरोक्त में से कोई नहीं

37.

Column A

Column B

Practiced on small patches of land

(a) Plantation

भूमि के छोटे पैच पर अभ्यास

बाग

Practiced in densely populated areas

(b) Primitive subsistence

घनी आबादी वाले इलाकों में अभ्यास किया।

आदिम निर्वाह

Single crop is grown on large area

(c) Intensive subsistence

एक फसल बड़े क्षेत्र पर उगाई जाती है

गहन निर्वाह

Match the columns above मैच कॉलम करें :

(a) (i)-(b) (ii) -(c) (iii)-(a)

(b) (i)-(c) (ii) -(a) (iii)-(b)

(c) (i)-(a) (ii)-(c) (iii)- (b)

38. Assertion (A) : Indian farmers should diversify their cropping pattern.

भारतीय किसानों को अपने फसल पैटर्न में विविधता लानी चाहिए।

Reason (R) : Diversification of agriculture will increase income and reduce environmental degradation.

कृषि के विविधीकरण से आय बढ़ेगी और पर्यावरण क्षरण में कमी आएगी।

Select the correct answer to these questions from the codes (i), (ii), (iii) and (iv) as given below :

इन प्रश्नों के सही उत्तर का चयन कोड (i), (ii), (iii) और (iv) से नीचे दिए गए कोड से करें :

Options:

A. Both A and R are true and R is correct explanation of A
दोनों 'ए' और 'आर' सच हैं और 'आर' एक का सही विवरण है।

B. Both A and r are true and r is not correct explanation of A
दोनों 'ए' और 'आर' सच है और 'आर', 'ए' का सही विवरण नहीं है।

C. A is true but r is false
'ए' सच है, लेकिन 'आर' झूठी है।

D. A is false but R is true A
'ए' झूठी है, लेकिन 'आर' सच है।

39. Two statements are given in the question below as Assertion (A) and Reasoning (R). Read the statements and choose the appropriate option.

नीचे दिए गए प्रश्न में दो वक्तव्य दावे (ए) और तर्क (आर) के रूप में दिए गए हैं।
बयान पढ़ें और उचित विकल्प चुनें।

Assertion (A) : Human Development mentions how much socio-economic development has happened in a country.
मानव विकास में उल्लेख है कि किसी देश में कितना सामाजिक आर्थिक विकास हुआ है।

Reason (R) : Comparison of national income of two countries explains Human Development Index.
मानव विकास में उल्लेख है कि किसी देश में कितना सामाजिक-आर्थिक विकास हुआ है। दोनों देशों की राष्ट्रीय आय की तुलना मानव विकास सूचकांक बताती है।

Option :

- A. Both A and R are true and R is correct explanation of दोनों 'ए' और 'आर' सच हैं और 'आर' एक का सही विवरण है।
- B. Both A and R are true and R is not correct explanation of A दोनों 'ए' और 'आर' सच है और 'आर', 'ए' का सही विवरण नहीं है।
- C. A is true but r is false A 'ए' सच है, लेकिन 'आर' झूठी है।
- D. A is false but R is true A 'ए' झूठी है, लेकिन 'आर' सच है।

40. Fill The blanks:

रिक्त स्थान भरें :

_____ are set up in towns. Big cities are constituted into _____
कस्बों में.....स्थापित किए जाते हैं। बड़े शहरों का गठन.....

- a) Village panchayat, Municipality
ग्राम पंचायत, नगर पालिका
- b) Municipality, Village panchayat
नगर पालिका, ग्राम पंचायत
- c) Municipality, municipal corporations
नगर पालिका, नगर निगम
- d) Municipal corporations, municipality
नगर निगम, नगर पालिका

41. Dividing the total income of country with its population, we get अपनी आबादी के साथ देश की कुल आय को विभाजित, हमें मिलता है :

- | | |
|--|--|
| I. Per-Capita income
प्रति व्यक्ति आय | II. National income
राष्ट्रीय आय |
| III. Average Income
औसत आय | IV. Total Income
कुल आय |
| (a) Only III
केवल तृतीय | (b) I and II
I और II |
| (c) All of the above
उपरोक्त सभी | (d) None of these
इनमें से कोई नहीं |

42. A woman works at a farm of landlord in her village and gets meagre wages after working the entire day. She doesn't get any holidays or paid leave. Even she is not paid when there is no work in the field. Find out in which of the following sectors she is working?

- | | |
|---------------------|-----------------------|
| A. Primary Sector | B. Service Sector |
| C. Organized Sector | D. Unorganized Sector |

एक महिला अपने गाँव में जमींदार के खेत में काम करती है और पूरे दिन काम करने के बाद उसे कम मजदूरी मिलती है। उसे कोई छुट्टी या सवैतनिक अवकाश नहीं मिलता है। जब खेत में काम नहीं होता है तब भी उसे भुगतान नहीं किया जाता है। ज्ञात कीजिए कि वह निम्नलिखित में से किस क्षेत्र में कार्य कर रही हैं?

- | | |
|----------------------|---------------------|
| (क) प्राथमिक क्षेत्र | (ख) सेवा क्षेत्र |
| (ग) संगठित क्षेत्र | (घ) असंगठित क्षेत्र |

43. The total number of children attending school as a percentage of total number of children in the same age group is called :

- | | |
|---------------------------|------------------------|
| (a) net attendance ratio | (b) literacy rate |
| (c) gross enrolment ratio | (d) level of education |

एक ही आयु वर्ग के बच्चों की कुल संख्या के प्रतिशत के रूप में स्कूल में भाग लेने वाले बच्चों की कुल संख्या कहा जाता है :

(क) शुद्ध उपस्थिति अनुपात

(ख) साक्षरता दर

(ग) सकल नामांकन अनुपात

(घ) शिक्षा का स्तर

44. A man is employed as a painter in a construction site. He searches for another site after completing his work in one. Sometimes he does not get work. Which type of employment is this an example?

A. Under employment

B. Seasonal employment

C. Over employment

D. Cyclical employment

एक आदमी का निर्माण स्थल में चित्रकार के रूप में कार्यरत है। वह एक में अपना काम पूरा करने के बाद दूसरी साइट की खोज करता है। कभी-कभी उसे काम नहीं मिलता। इस रोजगार का यह किस प्रकार का उदाहरण है ?

(क) रोजगार के तहत

(ख) मौसमी रोजगार

(ग) रोजगार पर

(घ) चक्रीय रोजगार

45. Two statements are given in the question below as Assertion (A) and Reasoning (R). Read the statements and choose the appropriate option.

Assertion (A): Need of the hour is to conserve and manage our environment.

समय की मांग हमारे पर्यावरण के संरक्षण और प्रबंधन के लिए है।

Reason (R) : Our exploitation and mismanagement of resources will impoverish these resources and cause ecological crises that may have profound impact on our lives.

संसाधनों का हमारा दोहन और कुप्रबंधन इन संसाधनों को गरीब करेगा और पारिस्थितिक संकटों का कारण बनेगा जिसका हमारे जीवन पर गहरा प्रभाव पड़ सकता है।

Options:

A. Both A and R are true and R is correct explanation of A
दोनों 'ए' और 'आर' सच हैं और 'आर' एक का सही विवरण है।

B. Both A and r are true and r is not correct explanation of A
दोनों 'ए' और 'आर' सच है और 'आर', 'ए' का सही विवरण नहीं है।

नीचे दिए गए स्रोत को पढ़ें और उन प्रश्नों का उत्तर दें जो अनुसरण करते हैं:
 रूढ़िवादी शासनों के रूप में अपनी शक्ति को मजबूत करने की कोशिश की, उदारवाद और राष्ट्रवाद तेजी से इतालवी और जर्मन राज्यों, तुर्क साम्राज्य, आयरलैंड और पोलैंड के प्रांत के रूप में यूरोप के कई क्षेत्रों में क्रांति के साथ जुड़ा हुआ आया था। इन क्रांतियों का नेतृत्व शिक्षित मध्यम वर्ग के अभिजात वर्ग से संबंधित उदारवादी-राष्ट्रवादियों ने किया, जिनके बीच प्रोफेसर, स्कूल शिक्षक लिपिक और वाणिज्यिक मध्यम वर्ग के सदस्य थे। पहली उथल-पुथल जुलाई 1830 में फ्रांस में हुई थी। 1815 के बाद रूढ़िवादी प्रतिक्रिया के दौरान सत्ता में बहाल किए गए बोरबॉन राजाओं को अब उदारवादियों के क्रांतिकारियों ने उखाड़ फेंका, जिन्होंने लुई फिलिप के साथ संवैधानिक राजशाही को अपने सिर पर स्थापित किया। जब फ्रांस छींक Metternich एक बार टिप्पणी की, 'यूरोप के बाकी ठंडा पकड़ता है।' जुलाई क्रांति ब्रसेल्स में एक विद्रोह छिड़ गया जो बेल्जियम नीदरलैंड के लिए यूनाइटेड किंगडम से दूर तोड़ने के लिए नेतृत्व किया।

47. The first upheaval took place in France in :

- A. July 1815 B. July 1820
 C. July 1830 D. July 1840

फ्रांस में पहली उथल-पुथल कब हुई थी?

- (क) जुलाई 1815 (ख) जुलाई 1820
 (ग) जुलाई 1830 (घ) जुलाई 1840

48. The first clear expression of nationalism in Europe came with:

- A. The German Revolutionaries
 B. The Italian Revolutionaries
 C. The Russian Revolutionaries
 D. The French Revolutionaries

यूरोप में राष्ट्रवाद की पहली स्पष्ट अभिव्यक्ति के साथ आया था।

- (क) जर्मन क्रांतिकारियों (ख) इतालवी क्रांतिकारियों
 (ग) रूसी क्रांतिकारियों (घ) फ्रांसीसी क्रांतिकारियों

49. Socially and politically dominant class in Europe during mid 18th century was

- A. The landed aristocracy B. The educated middle class
C. The absolute monarch D. The nobility

18वीं शताब्दी के मध्य के दौरान यूरोप में सामाजिक और राजनीतिक रूप से प्रमुख वर्ग था।

- (क) उत्तरा अभिजात वर्ग (ख) शिक्षित मध्यम वर्ग
(ग) निरपेक्ष संराट (घ) बड़प्पन

50. Conservatives did not believe in establishing and preserving :

- A. The monarchy
B. Social hierarchies
C. The democracy
D. Traditional institutions of state and society

परंपरावादी स्थापित करने और संरक्षण में विश्वास नहीं किया :

- (क) राजशाही (ख) सामाजिक पदानुक्रम
(ग) लोकतंत्र (घ) राज्य और समाज की पारंपरिक संस्थाएँ

51. Two statements are given in the question below as Assertion (A) and Reasoning (R). Read the statements and choose the appropriate option.

नीचे दिए गए प्रश्न में दो वक्तव्य दावे 'ए' और तर्क 'आर' के रूप में दिए गए हैं। बयान पढ़ें और उचित विकल्प चुनें :

Assertion A: Regimes of 1815 did not tolerate criticism and dissent.

1815 की सरकारों ने आलोचना और असहमति बर्दाश्त नहीं की।

Reason (R) : Conservative regimes were autocratic.

संरक्षक शासन निरंकुश थे।

Options:

- A. Both A and R are true and R is correct explanation of दोनों 'ए' और 'आर' सच हैं और 'आर' एक का सही विवरण है।

- B. Both A and r are true and r is not correct explanation of A
दोनों 'ए' और 'आर' सच है और 'आर', 'ए' का सही विवरण नहीं है।
- C. A is true but r is false A
'ए' सच है, लेकिन 'आर' झूठी है।
- D. A is false but R is true A
'ए' झूठी है, लेकिन 'आर' सच है।

52. The first and major test for democratic politics in our country was

- A Caste problem\
- B Language problem
- C Problem related to union territories
- D Creation of linguistic state

हमारे देश में लोकतान्त्रिक राजनीति की पहली और बड़ी परीक्षा थी

- (क) जाति समस्या (ख) भाषा की समस्या
- (ग) केन्द्र शासित प्रदेशों से सम्बन्धित समस्या (घ) भाषाई राज्य का निर्माण

Read the passage given below and answer the questions that follow :

"In Rio de Janeiro Earth Summit, In June 1992, more than 100 heads of states met in Rio de Janeiro in Brazil, for the first International Earth Summit. The Summit was convened for addressing urgent problems of environmental protection and socio-economic development at the global level. The assembled leaders signed the Declaration on Global Climatic Change and Biological Diversity. The Rio Convention endorsed the global Forest Principles and adopted Agenda 21 for achieving Sustainable Development in the 21st century. Agenda 21- It is the declaration signed by world leaders in 1992 at the United Nations Conference on Environment and Development (UNCED), which took place at Rio de Janeiro, Brazil. It aims at achieving global sustainable development. It is an agenda to combat environmental

damage, poverty, disease through global co-operation on common interests, mutual needs and shared responsibilities. One major objective of the agenda 21 is that every local government should draw its own local Agenda 21"

नीचे दिए गए मार्ग को पढ़ें और उन प्रश्नों का उत्तर दें जो अनुसरण करते हैं:

“रियो डी जनेरियो अर्थ समिट में जून 1992 में ब्राजील के रियो डी जनेरियो में पहले अंतर्राष्ट्रीय पृथ्वी शिखर सम्मेलन के लिए 100 से अधिक राष्ट्राध्यक्षों की बैठक हुई। यह शिखर सम्मेलन पर्यावरण संरक्षण की तात्कालिक समस्याओं के समाधान के लिए आयोजित किया गया था और वैश्विक स्तर पर सामाजिक-आर्थिक विकास। इकट्ठे हुए नेताओं ने वैश्विक जलवायु परिवर्तन और जैविक विविधता पर घोषणा पर हस्ताक्षर किए। रियो कन्वेंशन ने वैश्विक वन सिद्धांतों का समर्थन किया और 21वीं सदी में को अपनाया एजेंडा 21 सतत विकास हासिल करने के लिए एजेंडा 21 - यह 1992 में विश्व नेताओं द्वारा पर्यावरण और विकास पर संयुक्त राष्ट्र सम्मेलन में हस्ताक्षरित घोषणा है (यूएनईडी), जो ब्राजील के रियो डी जनेरियो में हुई थी। इसका उद्देश्य वैश्विक सतत विकास को प्राप्त करना है। यह एक एजेंडा है साझा हितों, पारस्परिक जरूरतों और साझा जिम्मेदारियों पर वैश्विक सहयोग के माध्यम से पर्यावरणीय क्षति, गरीबी, बीमारी का मुकाबला करें। एजेंडा प्र का एक 21 का एक प्रमुख उद्देश्य यह है कि प्रत्येक स्थानीय सरकार को अपना स्थानीय एजेंडा 21 तैयार करना चाहिए।

53. The Earth Summit June 1992 was convened :

- A) To address the problem of environmental protection
- B) To address the problem of socio-economic development
- C) To endorse the Global Forest Principles
- D) All of the above

पृथ्वी शिखर सम्मेलन जून 1992 बुलाया गया था :

- (क) पर्यावरण संरक्षण की समस्या का समाधान करने के लिए
- (ख) सामाजिक आर्थिक विकास की समस्या का समाधान करने के लिए
- (ग) वैश्विक वन सिद्धांतों का समर्थन करने के लिए
- (घ) उपरोक्त सभी

54. The significant contribution which was made at the Earth Summit at Rio de Janeiro, Brazil in 1992 was :

- A) Sustainable development
- B) Resource conservation

C) Resource planning D) Land degradation

1992 में ब्राजील के रियो डी जेनेरियो में पृथ्वी शिखर सम्मेलन में जो महत्त्वपूर्ण योगदान दिया गया था, वह था :

(क) सतत विकास (ख) संसाधन संरक्षण

(ग) संसाधन नियोजन (घ) भूमि क्षरण

55. _____ was adopted for achieving Sustainable Development at the Rio Convention in the 21st century.

A) Agenda 21 B) Tackling industrial effluents

C) The global Forest Principles D) Global Climatic Change

.....21वीं सदी में रियो कन्वेंशन में सतत विकास हासिल करने के लिए अपनाया गया था।

(क) एजेंडा 21 (ख) औद्योगिक बहिस्त्रावों से निपटना

(ग) वैश्विक वन सिद्धांत (घ) वैश्विक जलवायु परिवर्तन

56. Which one of the following is NOT a part of Agenda 21?

A) Combat environmental damages B) Reduce poverty

C) Control on diseases D) To fight terrorism

निम्नलिखित में से कौन-सा एजेंडा 21 का हिस्सा नहीं है ?

(क) पर्यावरण नुकसान का मुकाबला (ख) गरीबी कम करें

(ग) रोगों पर नियंत्रण (घ) आतंकवाद से लड़ने के लिए

57. Which of the following sector does not come under the service sector in India?

A. Real estate B. Transport

C. Restaurants & hotels D. Formation of electronic television

निम्नलिखित में से कौन सा क्षेत्र भारत में सेवा क्षेत्र के अंतर्गत नहीं आता

(क) रियल एस्टेट (ख) परिवहन

(ग) रेस्टोरंट एवं होटल (घ) इलेक्ट्रॉनिक टेलीविजन का गठन

58. Development goals of different sections of our society can be achieved by :

A. force B. Democratic political process

C. violent agitation D. terrorism

हमारे समाज के विभिन्न वर्गों के विकास लक्ष्यों को प्राप्त किया जा सकता है :

(क) बल

(ग) हिंसक आंदोलन

(ख) लोकतांत्रिक राजनीतिक प्रक्रिया

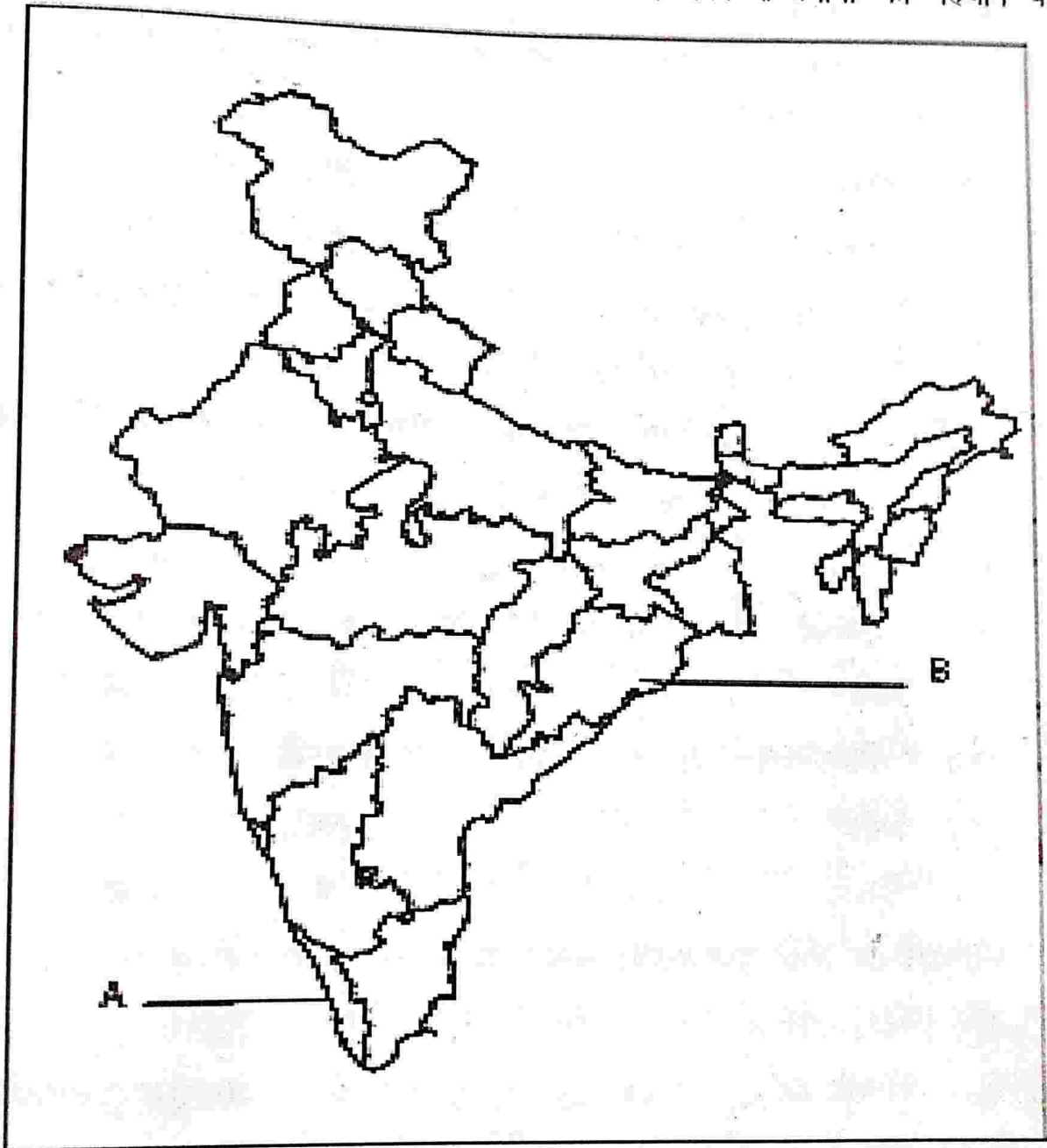
(घ) आतंकवाद

SECTION D

(Attempt both the Map based questions)

On the given outline map of India, identify the locations with the help of specified information :

भारत के दिए गए मानचित्र पर, निर्दिष्ट जानकारी की मदद से स्थानों की पहचान करें।



59. On the political map of India, 'A' is marked as a Plantation crop identify the crop.

A. Cotton

C. Tea

B. Rubber

D. Sugar cane

भारत के राजनीतिक मानचित्र पर, 'ए' को वृक्षारोपण फसल के रूप में चिह्नित किया गया है।

(क) कपास

(ख) रबर

(ग) चाय

(घ) चीनी गन्ना

60. On the political map of India, 'B' is marked as the longest dam on the river Mahanadi. Identify the Dam.

A. Nagarjuna

B. Tehri

C. Hirakund

D. Sardar Sarovar

भारत के राजनीतिक मानचित्र पर, 'बी' महानदी पर सबसे लंबे बाँध के रूप में चिह्नित है। बाँध की पहचान करें।

(क) नागार्जुन

(ख) टिहरी

(ग) हीराकुंड

(घ) सरदार सरोवर

NOTE : The following questions are for the Visually Impaired Candidates in lieu of questions 59 and 60.

निम्नलिखित प्रश्न दृष्टिबाधित अभ्यर्थियों के लिए प्रश्न 59 और 60 के बदले हैं।

निम्नलिखित बाँध में से कौन-सा उत्तराखंड में स्थित है ?

59. Which one of the following Plantation crops is grown in Kerala?

A. Cotton

B. Rubber

C. Tea

D. Sugar cane

केरल में निम्नलिखित पौध रोपण फसल में से कौन-सी उगाई जाती है ?

(क) कपास

(ख) रबर

(ग) चाय

(घ) चीनी गन्ना

60. Which of the following dam is located in Odisha?

A. Nagarjuna

B. Tehri

C. Hirakund

D. Sardar Sarovar

निम्नलिखित में से कौन-सा बाँध ओडिशा में स्थित है ?

(क) नागार्जुन

(ख) टिहरी

(ग) हीराकुंड

(घ) सरदार सरोवर

SAMPLE QUESTION PAPER-3 (TERM 1) 2021-22

SUBJECT : SOCIAL SCIENCE

CLASS : X

Marks : 40

Time : 90 Min

General Instructions :

1. **The Question Paper contains four sections.**
2. **Section A has 24 questions. Attempt any 20 questions.**
3. **Section B has 22 questions. Attempt any 18 questions.**
4. **Section C has 12 questions (Case based). Attempt any 10 questions per case.**
5. **Section D contains 2 Map based questions. Attempt both the questions.**
6. **All questions carry equal marks.**
7. **There is no negative marking.**

सामान्य निर्देश :

1. प्रश्न पत्र में चार खंड है।
2. खंड 'अ' में 24 प्रश्न है। कोई भी 20 प्रश्न हल करें।
3. खंड 'ब' में 22 प्रश्न है। कोई 18 प्रश्न हल करें।
4. खंड 'ग' में 12 प्रश्न है (मामला आधारित) प्रत्येक मामले में कोई 10 प्रश्न हल करें।
5. खंड 'ड' में 2 मानचित्र आधारित प्रश्न है। दोनों प्रश्नों को हल करें।
6. सभी प्रश्नों के अंक समान है।
7. कोई नकारात्मक अंक नहीं है।

SECTION-A

Attempt any 20 out of 24 questions.

1. Which of the following artist painted the image of Germania?

A. Philip Veit

B. Frederic Sorrieu

C. Voltaire

D. Tsar

निम्नलिखित में से किस कलाकार ने जर्मनिया की छवि को चित्रित किया ?

(क) फिलिप वीट

(ख) फ्रेडरिक सोर्रियू

(ग) वोल्टेयर

(ग) ज़ार

2. Which of the following was the result of the Act of Union, 1707?

A. Unification of Germany

B. Unification of the kingdom of Great Britain

C. Unification of Italy

D. Unification of Vietnam

निम्नलिखित में से कौन संघ अधिनियम, 1707 का परिणाम था ?

(क) जर्मनी का एकीकरण

(ख) ग्रेट ब्रिटेन के राज्य का एकीकरण

(ग) इटली का एकीकरण

(घ) वियतनाम का एकीकरण

3. What type of conservatives regimes set up in 1815 in Europe?

A. Autocratic

B. Aristocratic

C. Democratic

D. Dictatorial

1815 में यूरोप में किस प्रकार के रूढ़िवादी शासन स्थापित हुए ?

(क) निरंकुश

(ख) अभिजात वर्ग

(ग) लोकतांत्रिक

(घ) तानाशाही

4. Elle, the measuring unit in Germany was used to measure

A. Cloth

B. Thread

C. Land

D. Height

जर्मनी में मापने की इकाई एले का उपयोग मापने के लिए किया जाता था :

- (क) कपड़ा (ख) धागा
(ग) लैंड (घ) ऊँचाई

5. Romanticism refers to a :

- A. Cultural movement
C. Political movement

- B. Religious movement
D. Literary movement

रूसानी कल्पना का अर्थ है :

- (क) सांस्कृतिक आंदोलन
(ग) राजनीतिक आंदोलन

- (ख) धार्मिक आंदोलन
(घ) साहित्यिक आंदोलन

6. Choose the correctly matched pair about the crops and the areas they are grown in :

- A. Groundnut : Gujarat
B. Tea : Bihar
C. Coffee : Assam
D. Sugarcane : Chhattisgarh

फसलों और उन क्षेत्रों के बारे में सही सुमेलित युग्म चुनें जिनमें वे उगाए जाते हैं:

- (क) मूंगफली - गुजरात
(ख) चाय - बिहार
(ग) कॉफी - असम
(घ) गन्ना - छत्तीसगढ़

7. Which one of the following is not important for soil formation?

- A. Relief B. Parent rock
C. Climate D. Duration of day

निम्नलिखित में से कौन-सा एक मृदा निर्माण के लिए महत्वपूर्ण नहीं है ?

- (क) रिलीफ (ख) आपछयीत चट्टाने
(ग) जलवायु (घ) दिन की अवधि

8. Which soil is best for cotton?

A. Alluvial

B. Black

C. Red

D. Yellow

कपास के लिए कौन-सी मिट्टी सबसे उपयुक्त है ?

(क) जलोढ़

(ख) काली

(ग) लाल

(घ) पीली

9. India has land under a variety of relief features. Which of the following features ensure perennial flow of some rivers, provide facilities for tourism and ecological aspects?

A. Plains

B. Plateaus

C. Islands

D. Mountains

भारत के पास विभिन्न प्रकार की राहत सुविधाओं के तहत भूमि है। निम्नलिखित में से कौन-सी विशेषता बारहमासी प्रवाह सुनिश्चित करती है। कुछ नदियों पर्यटन और पारिस्थितिक के लिए सुविधाएँ प्रदान करते हैं ?

(क) मैदानी

(ख) पठार

(ग) द्वीप समूह

(घ) पर्वत

10. Which of the following state has laterite soil?

A. Uttar Pradesh

B. Bihar

C. Rajasthan

D. Meghalaya

निम्नलिखित में से किस राज्य में लेटराइट मिट्टी पाई जाती है ?

(क) उत्तर प्रदेश

(ख) बिहार

(ग) राजस्थान

(घ) मेघालय

11. Which one of the following countries adopted majoritarianism in their Constitution?

A. Nepal

B. India

C. Sri Lanka

D. Bangladesh

निम्नलिखित में से किस देश ने अपने संविधान में बहुसंख्यवाद को अपनाया ?

- (क) नेपाल (ख) भारत
(ग) श्रीलंका (घ) बांग्लादेश

12. When did the civil war in Sri Lanka end?
A. 1999 B. 2000
C. 2009 D. 2011

श्रीलंका में गृह युद्ध कब हुआ था ?

- (क) 1999 (ख) 2000
(ग) 2009 (घ) 2011

13. Apart from the Central and the State Government, Belgium has a third kind of government as well.

Identify this third kind of government from the following options:

- A. Democratic Government B. Socialist Government
C. Community Government D. Liberal Government

केंद्र और राज्य सरकार के अलावा, बेल्जियम में तीसरी तरह की सरकार भी है। निम्नलिखित विकल्पों में से इस तीसरे प्रकार की सरकार को पहचानिए :

- (क) लोकतांत्रिक सरकार (ख) समाजवादी सरकार
(ग) सामुदायिक सरकार (घ) उदार सरकार

14. Which of the following countries is an example of 'Coming Together Federation'?

- A. India B. Sri Lanka
C. USA D. Belgium

निम्नलिखित में से कौन-सा देश 'कमिंग टुगेदर फेडरेशन' का उदाहरण है ?

- (क) भारत (ख) श्रीलंका
(ग) यूएसए (घ) बेल्जियम

15. Which of the following countries have federal division of the power?

- A. India B. Belgium
C. Sri Lanka D. Both A & B

निम्नलिखित में से किस देश में शक्ति का संघीय विभाजन है ?

(क) भारत

(ख) बेल्जियम

(ग) श्रीलंका

(घ) (क) और (ख) दोनों

16. Which of the following interest-group is not an interest group?

A. Trade union

B. Business group

C. Farmers union

D. Political parties

निम्नलिखित में से कौन-सा समूह रुचि-समूह नहीं है ?

(क) ट्रेड यूनियन

(ख) व्यापार समूह

(ग) किसान संघ

(घ) राजनीतिक दल

17. Power sharing is desirable as it helps :

A. To increase pressure on govt.

B. Separation of power at different level

C. To generate awareness

D. Type of balancing powers

शक्ति साझा करना वांछनीय है क्योंकि यह मदद करता है :

(क) सरकार पर दबाव बढ़ाने के लिए

(ख) विभिन्न स्तरों पर शक्ति का पृथक्करण

(ग) जागरूकता उत्पन्न करने के लिए

(घ) संतुलन शक्तियों का प्रकार

18. Which one the following is an example of Primary Sector activity?

A. Banking

B. Outsourcing

C. Farming

D. Transportation

निम्नलिखित में से कौन-सा प्राथमिक क्षेत्र की गतिविधि का एक उदाहरण है ?

(क) बैंकिंग

(ख) आउटसोर्सिंग

(ग) खेती

(घ) ट्रांसपोर्टेशन

19. Human development report is published by
A. UNDP
B. World Bank
C. IMF
D. WHO

मानव विकास रिपोर्ट द्वारा प्रकाशित की जाती है :
(क) यूएनडीपी
(ख) विश्व बैंक
(ग) आईएमएफ
(घ) डब्ल्यूएचओ

20.is the total income of the country.
A. Average income
B. National income
C. Gross income
D. Total income

.....देश की कुल आय है।
(क) औसत आय
(ख) राष्ट्रीय आय
(ग) सकल आय
(घ) कुल आय

21. Which one of the following best describes 'Human Development Index'?

- A. Improvement in science, information and technology
- B. Improvement in health, education and income
- C. Improvement in information and communication
- D. Improvement in investment, finance and technology

निम्नलिखित में से कौन 'मानव विकास सूचकांक' का सर्वोत्तम वर्णन करता है ?

- (क) विज्ञान, सूचना और प्रौद्योगिकी में सुधार
- (ख) स्वास्थ्य, शिक्षा और आय में सुधार
- (ग) सूचना और संचार में सुधार
- (घ) निवेश, वित्त और प्रौद्योगिकी में सुधार

22. Banking is an example of which sector :

- A. Primary
- B. Secondary
- C. Tertiary
- D. None of the above

बैंकिंग वि

(क) प

(ग)

23. The

A.

C.

सार्व

(क)

(ग)

24. T

A

C

Atte

25.

बैंकिंग किस क्षेत्र का उदाहरण है :

(क) प्राथमिक

(ख) माध्यमिक

(ग) तृतीयक

(घ) उपरोक्त में से कोई नहीं

23. The motive of the Public sector enterprises is :

A. Profit making

B. Entertainment

C. Social welfare

D. None of the above

सार्वजनिक क्षेत्र के उद्यमों का उद्देश्य है :

(क) लाभ कमाना

(ख) मनोरंजन

(ग) सामाजिक कल्याण

(घ) उपरोक्त में से कोई नहीं

24. Tertiary sector is also called :

A. Pro sector

B. Industry sector

C. Service sector

D. None of the above

तृतीयक क्षेत्रक को कहा जाता है :

(क) प्रो सेक्टर

(ख) उद्योग क्षेत्र

(ग) सेवा क्षेत्र

(घ) उपरोक्त में से कोई नहीं

SECTION-B

Attempt any 18 out of 22 questions :

25. Following image is the personification of Germany commonly associated with the Romantic Era and the Revolutions of 1848. Identify its name from among the following options.



- A. Germania
B. Mariana
C. Bharat Mata
D. Nepoleon

निम्नलिखित छवि आमतौर पर रोमांटिक युग से जुड़ी जर्मनी की पहचान है। 1848 की क्रांति। निम्नलिखित विकल्पों में से इसका नाम पहचानिए :

- (क) जर्मनिया
(ख) मरियना
(ग) भारत माता
(घ) नेपोलीयन

NOTE: Following question is for Visually impaired candidates in lieu of Q.25.

—Identify the name of the Prussian king who was proclaimed German Emperor in a ceremony held at Versailles.

- A. William I
B. William II
C. Henry VII
D. Louis IV

प्रश्न 25 के स्थान पर दृष्टिबाधित उम्मीदवारों के लिए निम्नलिखित प्रश्न हैं।

प्रश्न के उस राजा के नाम की पहचान करें जिसे वर्साय में आयोजित एक समारोह में जर्मन सम्राट घोषित किया गया था।

- (क) विलियम-1
(ख) विलियम-11
(ग) हेनरी- VII
(घ) लुई-IV

26. Which of the following option(s) is/are correct about Napoleon?

- I. He was the ruler of France.
II. He made a code in 1804.
III. He was died in 1815.

Option :

- A. I & II
B. I, II & III
C. Only I
D. Only II

निम्नलिखित में से कौन-सा/से विकल्प नेपोलियन के बारे में सही है/हैं?

- (क) वह फ्रांस का शासक था।
(ख) उन्होंने 1804 में एक कोड बनाया था।

(ग) उनकी मृत्यु 1815 में हुई थी।

विकल्प :

A. I और II

B. I, II और III

C. केवल में

D. केवल II

27. Who played leading role in the unification of Germany ?

A. Kaiser William I

B. Bismark

C. German Philosophers

D. A & B both

जर्मनी के एकीकरण में अग्रणी भूमिका किसने निभाई ?

(क) कैसर विलियम

(ख) बिस्मार्क

(ग) जर्मन दार्शनिक

(घ) (क) और (ख) दोनों

28. Identify the major aspect that helped in the formation of a nation-state in Britain.

A. In 1688, the monarch of Britain fought war with English Parliament.

B. The Parliament through a bloodless revolution seized power from the monarchy.

C. The British nation was formed as a result of a war with Ireland and Wales.

D. The formation of a nation-state in Britain was the result of many revolts.

उस प्रमुख पहलू की पहचान कीजिए जिसने ब्रिटेन में एक राष्ट्र-राज्य के निर्माण में सहायता की।

(क) 1688 में, ब्रिटेन के सम्राट ने अंग्रेजी संसद के साथ युद्ध लड़ा।

(ख) संसद ने एक रक्तहीन क्रांति के माध्यम से राजशाही से सत्ता हथिया ली।

(ग) आयरलैंड और वेल्स के साथ युद्ध के परिणामस्वरूप ब्रिटिश राष्ट्र का निर्माण हुआ।

(घ) ब्रिटेन में राष्ट्र-राज्य का गठन कई विद्रोहों का परिणाम था।

29. High rainfall, high humidity and slope land is required for :
- A. Paddy
B. Wheat
C. Maize
D. Tea

उच्च वर्षा, उच्च आर्द्रता और ढलान वाली भूमि की आवश्यकता होती है :

(क) धान
(ख) गेहूँ
(ग) मक्का
(घ) चाय

30. Which of the following categories of resources can we put Tidal energy in?

- A. Renewable resources
B. Non-renewable resources
C. Actual resources
D. Potential resources

ज्वारीय ऊर्जा को हम निम्नलिखित में से किस श्रेणी के संसाधनों में रख सकते हैं?

(क) अक्षय संसाधन
(ख) गैर-नवीकरणीय संसाधन
(ग) वास्तविक संसाधन
(घ) संभावित संसाधन

31. Which of the following statements is incorrect?

- A. In a democracy, all important decisions are taken by the majority community.
B. In a democracy, people rule themselves through the institution of self-government
C. Political power is distributed in a democracy
D. In a democratic country, respect is given to various diverse groups

निम्नलिखित में से कौन-सा कथन गलत है ?

- (क) लोकतंत्र में सभी महत्वपूर्ण निर्णय बहुसंख्यक समुदाय द्वारा लिए जाते हैं।
(ख) लोकतंत्र में लोग स्वशासन की संस्था के माध्यम से स्वयं पर शासन करते हैं।
(ग) लोकतंत्र में राजनीतिक शक्ति का वितरण होता है।
(घ) एक लोकतांत्रिक देश में, विभिन्न विविध समूहों को सम्मान दिया जाता है।

32. If there is a clash between the laws made by the state and the center on a subject in the concurrent list

- A. The central law prevails.
- B. The state law prevails.
- C. The supreme court has to intervene to decide.
- D. Both the laws prevail in their respective jurisdiction.

यदि समवर्ती सूची में किसी विषय पर राज्य और केंद्र द्वारा बनाए गए कानूनों के बीच टकराव होता है :

- (क) केंद्रीय कानून प्रबल होता है।
- (ख) राज्य का कानून प्रबल होता है।
- (ग) निर्णय लेने के लिए सर्वोच्च न्यायालय को हस्तक्षेप करना पड़ता है।
- (घ) दोनों कानून अपने-अपने क्षेत्राधिकार में लागू होते हैं।

33. State government has powers of its own which _____

- A. is answerable to central government
- B. is not answerable to central government
- C. is answerable to the people
- D. both (B) and (C)

राज्य सरकार की अपनी शक्तियाँ हैं जो :

- (क) केन्द्र सरकार के प्रति जवाबदेह है
- (ख) केंद्र सरकार के प्रति जवाबदेह नहीं है
- (ग) लोगों के प्रति जवाबदेह है।
- (घ) दोनों (ख) और (ग)

34. The subjects of national importance such as defence, currency is handled by :

- A. Central government
- B. State government
- C. Local government
- D. None of the above

राष्ट्रीय महत्त्व के विषयों जैसे रक्षा, मुद्रा को किसके द्वारा नियंत्रित किया जाता है?

- (क) केंद्र सरकार
- (ख) राज्य सरकार
- (ग) स्थानीय सरकार
- (घ) उपरोक्त में से कोई नहीं

35. Anita is appearing in an examination conducted for recruitment to Central Government positions. In how many languages as mentioned in the 8th Schedule can she opt to take the exam in? Select the appropriate option.

- A. 18
- B. 21
- C. 22
- D. 25

अनीता केंद्र सरकार के पदों पर भर्ती के लिए आयोजित एक परीक्षा में शामिल हो रही है। 8वीं अनुसूची में उल्लिखित कितनी भाषाओं में वह परीक्षा देने का विकल्प चुन सकती है? उपयुक्त विकल्प का चयन करें।

- (क) 18
- (ख) 21
- (ग) 22
- (घ) 25

36. What are the demerits of Local government?

- A. Gram Sabhas are not held regularly
- B. Most state governments have not transferred significant powers to local governments.
- C. Local government lack adequate resources
- D. All of the above

स्थानीय सरकार के दोष क्या हैं ?

- (क) ग्राम सभा नियमित रूप से आयोजित नहीं की जाती है।
- (ख) अधिकांश राज्य सरकारों ने स्थानीय सरकारों को महत्त्वपूर्ण शक्तियाँ हस्तांतरित नहीं की हैं।
- (ग) स्थानीय सरकार के पास पर्याप्त संसाधनों का अभाव है।
- (घ) उपरोक्त सभी

37. Which of the following options prove that India is a quasi-federal state?

- I. More powers with Centre
 - II. Residuary subjects with Centre
 - III. Equal subjects with Centre and States
 - IV. Currency and Railways with Centre
- Options:
- | | |
|-----------------|-----------------|
| A. I, III & IV | B. I, II & IV |
| C. II, III & IV | D. II, III & IV |

निम्नलिखित में से कौन-सा विकल्प साबित करता है कि भारत एक अर्ध-संघीय राज्य है?

- (क) केंद्र के पास अधिक अधिकार
- (ख) द्वितीय केंद्र के साथ अवशिष्ट विषय
- (ग) केंद्र और राज्यों के साथ समान विषय
- (घ) केंद्र विकल्पों के साथ मुद्रा और रेलवे?

- | | |
|-----------------|-----------------|
| A. I, III & IV | B. I, II & IV |
| C. II, III & IV | D. II, III & IV |

38. Identify the correct statement/s about the theory of Federalism in the Indian Constitution.

- I. The Constitution declared India as a Union of States.
- II. Sharing of power between the Union Government and the State governments is basic to the structure of the Constitution.
- III. It is easy to make changes to this power sharing arrangement.
- IV. The Parliament can on its own change this arrangement.

Options :

- | | |
|------------|-------------|
| A. I & II | B. II & III |
| C. I & III | D. II & IV |

भारतीय संविधान में संघवाद के सिद्धांत के बारे में सही कथनों की पहचान करें।

- (क) संविधान ने भारत को राज्यों का संघ घोषित किया।

(ख) केंद्र सरकार और राज्य सरकारों के बीच सत्ता का बंटवारा संविधान की संरचना के लिए बुनियादी है।

(ग) सत्ता के बंटवारे की इस व्यवस्था में बदलाव करना आसान है।

(घ) संसद स्वयं इस व्यवस्था में परिवर्तन कर सकती है। विकल्प

A. I & II

B. II & III

C. I & III

D. II & IV

39. Assertion (A): Money in your pocket cannot buy all the goods and services that you may need to live well.

Reason (R) : So, income by itself is not a completely adequate indicator of material goods and services that citizens are able to use.

A. Both A and R are true, and R is the correct explanation of A.

B. Both A and R are true, but R is not the correct explanation of A.

C. A is true but R is false.

D. A is false but R is true.

अभिकथन (ए) : आपकी जेब में रखा पैसा उन सभी वस्तुओं और सेवाओं को नहीं खरीद सकता है जिनकी आपको अच्छी तरह से जीने के लिए आवश्यकता हो सकती है।

कारण (आर) : इसलिए, आय अपने आप में भौतिक वस्तुओं और सेवाओं का पूर्ण रूप से पर्याप्त संकेतक नहीं है जिसका उपयोग नागरिक कर सकते हैं।

(क) (ए) और (आर) दोनों सत्य हैं और (आर), (ए) की सही व्याख्या करता है।

(ख) (ए) और (आर) दोनों सत्य हैं, लेकिन (आर), (ए) की सही व्याख्या नहीं है।

(ग) (ए) सच है लेकिन (आर) गलत है।

(घ) (ए) गलत है लेकिन (आर) सत्य है।

Choose the correct option from the following :

A. Farming-Secondary activity B. Fishing-Primary activity

C. Industry-Tertiary activity D. Banking-Primary activity

निम्नलिखित में से सही विकल्प चुनें :

- (क) खेती-माध्यमिक गतिविधि
- (ख) मत्स्य पालन-प्राथमिक गतिविधि
- (ग) उद्योग-तृतीयक गतिविधि
- (घ) बैंकिंग-प्राथमिक गतिविधि

41. A worker of an organized sector job is :

- A. Secure
- B. Insecure
- C. Tension less
- D. None of the above

असंगठित क्षेत्र की नौकरी का एक कार्यकर्ता है :

- (क) सुरक्षित
- (ख) असुरक्षित
- (ग) तनाव कम
- (घ) उपरोक्त में से कोई नहीं

42. Assertion(A) : We compare the average income which a unevenly distributed income of the country divided by half of its population.

Reason(R) : The average income is also called per capita income.

- A. Both A and R are true, and R is the correct explanation of A.
- B. Both A and R are true, but R is not the correct explanation of A.
- C. A is true but R is false.
- D. A is false but R is true.

अभिकथन (ए) : हम उस औसत आय की तुलना करते हैं जो देश की असमान रूप से वितरित आय को उसकी आधी आबादी से विभाजित करती है।

कारण (आर) : औसत आय के प्रति व्यक्ति आय भी कहा जाता है।

- (क) (ए) और (आर) दोनों सत्य हैं और (आर), (ए) की सही व्याख्या करता है।
- (ख) (ए) और (आर) दोनों सत्य हैं, लेकिन (आर), (ए) की सही व्याख्या नहीं है।
- (ग) (ए) सच है लेकिन (आर) गलत है।
- (घ) (ए) गलत है लेकिन (आर) सत्य है।

43. A man works at a cloth shop in his village on a contract basis and gets less salary after working the whole day. He doesn't get any salary on holidays, rather his employer deducts his salary whenever he is absent from work. Can you find out in which of the following sectors he is working?

- A. Primary Sector
 B. Service Sector
 C. Organized Sector
 D. Unorganised Sector

एक आदमी अपने गाँव में एक कपड़े की दुकान पर ठेके पर काम करता है और दिन काम करने के बाद उसे कम वेतन मिलता है। उसे कोई छुट्टी नहीं मिलती बल्कि जब भी वह काम से अनुपस्थित होता है तो उसका नियोक्ता उसका वेतन काट लेता है। क्या आप पता लगा सकते हैं कि वह निम्नलिखित में से किस क्षेत्र में काम कर रहा है ?

- (क) प्राथमिक क्षेत्र
 (ख) सेवा क्षेत्र
 (ग) संगठित क्षेत्र
 (घ) असंगठित क्षेत्र

44. Which of the following example does not fall under unorganized sector?

- A. A farmer irrigating a field.
 B. A daily wage labourer working for a contractor
 C. A doctor in a hospital treating a patient.
 D. A handloom weaver working on a loom in her home.

निम्नलिखित में से कौन-सा उदाहरण असंगठित क्षेत्र के अंतर्गत नहीं आता है ?

- (क) खेत की सिंचाई करते किसान।
 (ख) एक ठेकेदार के लिए काम करने वाला दिहाड़ी मजदूर
 (ग) एक मरीज का इलाज करने वाले अस्पताल में एक डॉक्टर
 (घ) एक हथकरघा बुनकर अपने घर में करघे पर काम कर रही है।

45. Two statements are given in the question below as Assertion (A) and Reasoning (R). Read the statements and choose the appropriate option :

Assertion (A) : A government of buys wheat and rice from farmers at fair price.

Reason (R) : Public sector contributes to the economic development.

- A. Both A and R are true, and R is the correct explanation of A.
B. Both A and R are true, but R is not the correct explanation of A.
C. A is true but R is false.
D. A is false but R is true.

नीचे दिए गए प्रश्न में दिए गए कथन (ए) और कारण (आर) को पढ़िए और नीचे दिए गए विकल्प में से सही विकल्प को चुनें :

अभिकथन (ए) : सरकार किसानों से उचित मूल्य पर गेहूँ और चावल खरीदती है।

कारण (आर) : सार्वजनिक क्षेत्र आर्थिक विकास में योगदान देता है।

(क) (ए) और (आर) दोनों सत्य हैं और (आर), (ए) की सही व्याख्या करता है।

(ख) (ए) और (आर) दोनों सत्य हैं, लेकिन (आर), (ए) की सही व्याख्या नहीं है।

(ग) (ए) सच है लेकिन (आर) गलत है।

(घ) (ए) गलत है लेकिन (आर) सत्य है।

46. Percentage share of employment is highest in :

- A. Primary sector
B. Secondary sector
C. Tertiary sector
D. Public sector

रोजगार का प्रतिशत हिस्सा सबसे अधिक है :

(क) प्राथमिक क्षेत्र

(ख) माध्यमिक क्षेत्र

(ग) तृतीयक क्षेत्र

(घ) सार्वजनिक क्षेत्र

SECTION-C

Attempt any 5 out of 6 questions in each of the Case based questions :

Read the source given below and answer any 5 of the 6 questions that follow by choosing the most appropriate option:

Social Science

One such individual was the Italian revolutionary Giuseppe Mazzini. Born in Genoa in 1807, he became a member of the secret society of the Carbonari. As a young man of 24, he was sent into exile in 1831 for attempting a revolution in Liguria. He subsequently founded two more underground societies, first, Young Italy in Marseilles, and then, Young Europe in Berne, whose members were like-minded young men from Poland, France, Italy and the German states. Mazzini believed that God had intended nations to be the natural units of mankind. So Italy could not continue to be a patchwork of small states and kingdoms. It had to be forged into a single unified republic within a wider alliance of nations. This unification alone could be the basis of Italian liberty. Following his model, secret societies were set up in Germany, France, Switzerland and Poland. Mazzini's relentless opposition to monarchy and his vision of democratic republics frightened the conservatives. Metternich described him as 'the most dangerous enemy of our social order.'

नीचे दिए गए स्रोत को पढ़ें और सबसे उपयुक्त विकल्प चुनकर 6 में से किन्हीं 5 प्रश्नों के उत्तर दें :

ऐसा ही वह व्यक्ति था इटली का क्रांतिकारी ग्यूसेप मेत्सिनी। उनका जन्म 1807 में जेनोआ में हुआ था और वह कार्बोनेरी के 'गुप्त संगठन का' सदस्य बन गया। 24 साल के युवा के रूप में, लिगुरिया में क्रांति करने के लिए प्रयास के लिए उन्हें 1831 में लिगुरिया से बहिष्कृत कर दिया गया। बाद में उसने दो और भूमिगत संगठनों की स्थापना की, पहले, मार्सेयी में यंग इटली और दूसरा था बर्न में यंग यूरोप, जिसके सदस्य पोलैंड, फ्रांस, इटली और जर्मन राज्यों के समान विचारधारा वाले युवक थे। ग्यूसेप मेत्सिनी का विश्वास था कि ईश्वर की मर्जी के अनुसार राष्ट्र ही मनुष्यों की प्राकृतिक इकाई थी। अतः इटली छोटे राज्यों और प्रदेशों का एक पैबंद बनकर नहीं रह सकता था। उसे जोड़कर राष्ट्रों के व्यापक गठबंधन के अंदर एकत्रित गणतंत्र बनाना ही था। यह एकीकरण ही इटली की मुक्ति का आधार हो सकता है। उसके इस मॉडल की देखा देखि जर्मनी में स्विट्जरलैंड और पोलैंड में गुप्त संगठन कायम किए गए। ग्यूसेप मेत्सिनी द्वारा राजतंत्र का घोर विरोध करके और प्रजातांत्रिक गणतंत्र के अपने स्वप्न से ग्यूसेप मेत्सिनी ने रूढ़िवादियों को हरा दिया। मेटर्निच ने उसे 'हमारी सामाजिक व्यवस्था का सबसे खतरनाक दुश्मन' बताया।

Answer the following Multiple Choice Questions by choosing the most appropriate option.

सबसे उपयुक्त विकल्प चुनकर निम्नलिखित बहुविकल्पीय प्रश्नों का उत्तर दें।

47. Who was the founder of the 'Secret Society' of the Carbonari?
A. Napoleon
B. Giuseppe Mazzini
C. Metternich
D. Garibaldi

कार्बोनेरी के 'गुप्त संगठन' के संस्थापक कौन थे ?

- (क) नेपोलियन
(ख) ग्यूसेप मेत्सिनी
(ग) मेट्टर्निख
(घ) गेरीबाल्डी

48. Who described Giuseppe Mazzini as 'the most dangerous enemy of our social order'.

- A. Lui XVI
B. Napoleon Bonapart
C. Bismark
D. Metternich

किसने ग्यूसेप मेत्सिनी को 'हमारे सामाजिक व्यवस्था का सबसे खतरनाक दुश्मन' बताया?

- (क) लुई-XVI
(ख) नेपोलियन बोनापार्ट
(ग) बिस्मार्क
(घ) मेट्टर्निख

49. Which of the following statement not correctly describes about Giuseppe Mazzini :

- A. Giuseppe Mazzini was sent into exile in 1831 for attempting a revolution in Liguria.
B. Giuseppe Mazzini didn't play any role in the unification of Italy.
C. Mazzini believed that God had intended nations to be the natural units of mankind.
D. Giuseppe Mazzini was born in Genoa in 1807.

निम्नलिखित में से कौन-सा कथन ग्यूसेप मेत्सिनी के बारे में सही से वर्णन नहीं करता है।

- (क) ग्यूसेप मेत्सिनी को क्रांति के प्रयास करने के लिए 1831 में निर्वासन में लिगुरिया भेजा गया था।
(ख) ग्यूसेप मेत्सिनी ने इटली के एकीकरण में कोई भूमिका नहीं निभाई।
(ग) विश्वास था कि ईश्वर ईश्वर की मर्जी के अनुसार राष्ट्र ही मनुष्यों की प्राकृतिक इकाई थी।
(घ) ग्यूसेप मेत्सिनी का जन्म 1807 में जेनोआ में हुआ था।

50. Following the model of Mazzini, secret society was set up in

- A. England
- B. Russia
- C. Poland
- D. Great Britain

मेत्सिनी के मॉडल के देखा देखी किस देश में गुप्त संगठन की स्थापना की गई थी?

- (क) इंग्लैंड
- (ख) रूस
- (ग) पोलैंड
- (घ) ग्रेट ब्रिटेन

51. At which age Mazzini was sent into exile in 1831?

- A. 20 yrs
- B. 21 yrs
- C. 22yrs
- D. 24yrs

मेत्सिनी को किस उम्र में निष्काषित किया गया था ?

- (क) 20 वर्ष
- (ख) 21 वर्ष
- (ग) 22 वर्ष
- (घ) 24 वर्ष

52. Which one of the following is true regarding the idea promoted by Mazzini?

- A. Opposition to monarchy and support to democratic republic.
- B. To establish liberty and freedom under a monarchy
- C. Disintegration of the German confederation under 39 states.
- D. Censorship of newspapers ,books,plays and songs.

मेत्सिनी द्वारा प्रचारित विचार के संबंध में निम्नलिखित में से कौन-सा सत्य है?

- (क) प्रजातंत्र का विरोध और लोकतांत्रिक गणराज्य का समर्थन।
- (ख) राजतंत्र के तहत स्वतंत्रता और स्वतंत्रता की स्थापना करना।
- (ग) 39 राज्यों के तहत जर्मन परिसंघ का विघटन।
- (घ) समाचार पत्रों, पुस्तकों, नाटकों और गीतों की सेंसरशिप।

Read the source given below and answer any 5 of the 6 questions that follow by choosing the most appropriate option:

Agriculture has been the backbone of the Indian economy though its share in the Gross Domestic Product (GDP) has registered a declining trend from 1951 onwards; in 2010-11 about 52 per cent of the total work force was employed by the farm sector which makes more than half of the Indian Population dependent on agriculture for sustenance. The declining share of agriculture in the GDP is a matter of serious concern because any decline and stagnation in agriculture will lead to a decline in other spheres of the economy having wider implications for society.

Considering the importance of agriculture in India, the Government of India made concerted efforts to modernize agriculture. Establishment of Indian Council of Agricultural Research (ICAR), agricultural universities, veterinary services and animal breeding centres, horticulture development, research and development in the field of meteorology and weather forecast, etc. were given priority for improving Indian agriculture. Apart from this, improving the rural infrastructure was also considered essential for the same. It is clear that though the GDP growth rate is increasing over the years, it is not generating sufficient employment opportunities in the country. The growth rate in agriculture has been decelerating which is an alarming situation.

सबसे उपर्युक्त विकल्प चुनकर निम्नलिखित बहु-विकल्पीय प्रश्नों का उत्तर दें :

कृषि, भारतीय अर्थव्यवस्था की रीढ़ रही है, हालाँकि इसका हिस्सा 1951 के बाद से सकल घरेलू उत्पाद (जीडीपी) में गिरावट की प्रवृत्ति दर्ज की गई; 2010-11 के बारे में वुल कार्यबल का 52 प्रतिशत कृषि क्षेत्र द्वारा नियोजित किया गया था जो कि आधे से अधिक का उत्पादन करता है। अधिकांश भारतीय जनसंख्या जीविका के लिए कृषि पर निर्भर है। सकल घरेलू उत्पाद में कृषि की घटती हिस्सेदारी गंभीर चिंता का विषय है क्योंकि कृषि में किसी भी गिरावट और ठहराव से अर्थव्यवस्था के अन्य क्षेत्रों पर व्यापक प्रभाव पड़ता है।

भारत में कृषि के महत्त्व को ध्यान में रखते हुए, भारत सरकार ने कृषि के आधुनिकीकरण के लिए ठोस प्रयास किए हैं। भारतीय कृषि में सुधार के लिए भारतीय कृषि अनुसंधान परिषद (आईसीएआर), कृषि विश्व विद्यालयों, पशु चिकित्सा सेवाओं और पशु प्रजनन केंद्रों, बागवानी विकास, मौसम विज्ञान और मौसम पूर्वानुमान आदि के क्षेत्र में अनुसंधान और विकास आदि की स्थापना को प्राथमिकता दी गई। इसके अलावा, इसके लिए ग्रामीण बुनियादी

ढाँचे में सुधार करना भी आवश्यक माना गया है। स्पष्ट है कि यद्यपि सकल घरेलू उत्पाद की वृद्धि दर वर्षों से बढ़ रही है, लेकिन यह देश में रोजगार के पर्याप्त अवसर पैदा नहीं कर रही है। कृषि क्षेत्र में विकास दर में गिरावट आ रही है जो कि एक चिंताजनक स्थिति है।

53. To modernize the agriculture our government has established :

- A. KCC
B. ICICI
C. ICAR
D. SBI

हमारी सरकार ने कृषि को आधुनिक बनाने के लिए स्थापित किया है :

- (क) केसीसी
(ख) आईसीआईसीआई
(ग) आईसीएआर
(घ) एसबीआई

54. In 2010-11 what was the percentage of the total workforce was employed in the agriculture sector?

- A. 50
B. 51
C. 52
D. 53

2010-11 में कुल कार्यबल का कितना प्रतिशत कृषि क्षेत्र में कार्यरत था ?

- (क) 50
(ख) 51
(ग) 52
(घ) 53

55. What is the matter of the serious concern about agriculture?

- A. The increasing share of agriculture in the GDP.
B. The declining share of agriculture in the GDP.
C. Low production rate in agriculture.
D. None of the above.

कृषि को लेकर गंभीर चिंता का विषय क्या है ?

- (क) जीडीपी में कृषि की बढ़ती हिस्सेदारी
(ख) सकल घरेलू उत्पाद में कृषि की घटती हिस्सेदारी
(ग) कृषि में कम उत्पादन दर
(घ) उपरोक्त में से कोई नहीं

56. Assertion(A) : The GDP growth rate is increasing over the it is not generating sufficient employment opportunities country.

Reason(R) : Contribution of agriculture sector is increasing GDP.

- A. Both A and R are true, and R is the correct explanation of A.
- B. Both A and R are true, but R is not the correct explanation of A.
- C. A is true but R is false.
- D. A is false but R is true.

अभिकथन (ए) : जीडीपी वृद्धि दर वर्षों से बढ़ रही है, यह पर्याप्त उत्पादन रही है देश में रोजगार के अवसर।

कारण (आर) : सकल घरेलू उत्पाद में कृषि क्षेत्र का योगदान बढ़ रहा है।

- (क) (ए) और (आर) दोनों सत्य हैं और (आर), (ए) की सही व्याख्या व
- (ख) (ए) और (आर) दोनों सत्य हैं, लेकिन (आर), (ए) की सही व्याख्या
- (ग) (ए) सच है लेकिन (आर) गलत है।
- (घ) (ए) गलत है लेकिन (आर) सत्य है।

57. What steps are take by the government for the developpr agriculture?

- A. Establishment of agricultural universities
- B. Establishment of veterinary services
- C. Establishment of animal breeding centres
- D. All of the above.

कृषि के विकास के लिए सरकार द्वारा क्या कदम उठाए गए हैं ?

- (क) कृषि विश्व विद्यालयों की स्थापना
- (ख) पशु चिकित्सा सेवाओं की स्थापना
- (ग) पशु प्रजनन केन्द्रों की स्थापना
- (घ) उपरोक्त सभी

58. Agriculture is a main source of the income in :

- A. In the urban areas
- C. In the rural areas.

- B. In the sub urban areas
- D. None of the above

कृषि आय का एक प्रमुख स्रोत है :

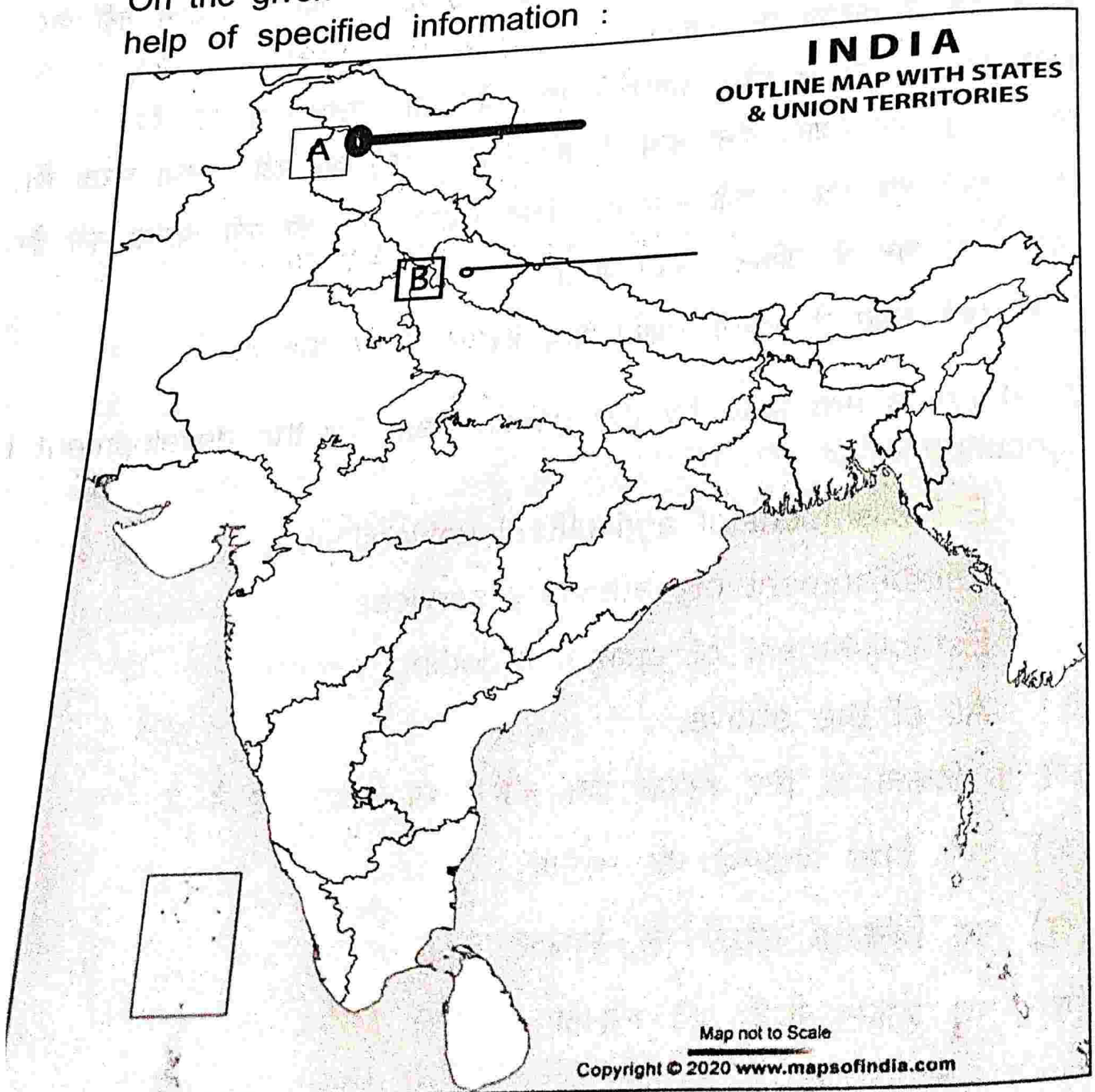
- (क) शहरी क्षेत्रों में
- (ग) ग्रामीण क्षेत्रों में

- (ख) उप शहरी क्षेत्रों में
- (घ) उपरोक्त में से कोई नहीं

SECTION-D

Attempt both the Map based questions :

On the given outline map of India, identify the locations with the help of specified information :



59. On the political map of India, 'A' is marked as a Dam. Identify it from the following options :

A. Salal

C. Tehri

B. Bhakra-Nangal

D. Rana Pratap Sagar

भारत के राजनीतिक मानचित्र 'ए' को एक बांध के रूप में चिन्हित किया गया है। इसे निम्नलिखित विकल्पों में से पहचानिए :

(क) सलाली

(ग) टिहरी

(ख) भाखड़ा-नांगली

(घ) राणा प्रताप सागर

60. On the political map of India, 'B' is marked as a Dam. Identify it from the following options :

A. Nagarjuna

C. Rana Pratap Sagar

B. Hirakund

D. Tehri

भारत के राजनीतिक मानचित्र में 'बी' को बांध के रूप में चिन्हित किया गया है। इसे निम्नलिखित विकल्पों में से पहचानिए :

(क) नागार्जुन

(ग) राणा प्रताप सागर

(ख) हीराकुंडी

(घ) टिहरी

NOTE : Following questions are for Visually impaired candidates in lieu of Q.59 & Q.60.

निम्नलिखित प्रश्न 59 और 60 दृष्टिबाधित विद्यार्थियों के लिए है।

59. In which state Salal dam is situated?

A. Punjab

C. Jammu & Kashmir

B. Bihar

D. Gujarat

सलाल बांध निम्नलिखित में से किस राज्य में स्थित है?

(क) पंजाब

(ग) जम्मू और कश्मीर

(ख) बिहार

(घ) गुजरात

60. In which state Tehri dam is situated?

A. U.P

C. Kerala

B. Punjab

D. Uttrakhand

टेहरी बांध निम्नलिखित में से किस राज्य में स्थित है ?

(क) उत्तरप्रदेश

(ग) केरल

(ख) पंजाब

(घ) उत्तराखंड

1. The Question Paper contains four sections.
2. Section A has 24 questions. Attempt any 20 questions.
3. Section B has 22 questions. Attempt any 18 questions.
4. Section C has 12 questions (Case based). Attempt any 10 questions per case.
5. Section D contains 2 Map based questions. Attempt both the questions.
6. All questions carry equal marks.
7. There is no negative marking.

सामान्य-निर्देश :

1. प्रश्न-पत्र में चार खंड हैं।
2. खंड-क में 24 प्रश्न हैं, कोई भी 20 प्रश्न हल करें।
3. खंड-ख में 22 प्रश्न हैं, कोई भी 18 प्रश्न हल करें।
4. खंड-सी में 12 प्रश्न हैं (केस बेस्ड)। किन्हीं 10 प्रश्नों को हल करें।
5. खंड-डी में 2 मानचित्र आधारित प्रश्न हैं। दोनों प्रश्नों को हल करें।
6. सभी प्रश्नों के अंक समान हैं।
7. कोई नकारात्मक अंकन नहीं है।

SECTION-A

(Attempt any 20 out of 24 questions)

1. Which of the following countries did not attend the congress of Vienna?

- A. Britain
B. Russia
C. Prussia
D. Switzerland

निम्नलिखित में से कौन-सा देश वियना की कांग्रेस में शामिल नहीं हुआ ?

- (क) ब्रिटेन
(ख) रूस
(ग) प्रशिया
(घ) स्विट्जरलैंड

2. Which of the following was the result of the Act of Union, 1707?

- A. Unification of Germany
B. Unification of the kingdom of Great Britain
C. Unification of Italy
D. Unification of Vietnam

निम्नलिखित में से कौन संघ अधिनियम, 1707 का परिणाम था ?

- (क) जर्मनी का एकीकरण
(ख) ब्रिटेन के राज्य का एकीकरण
(ग) इटली का एकीकरण
(घ) वियतनाम का एकीकरण

3. Who said "when France sneezes the rest of Europe catches cold"?

- A. Garibaldi
B. Mazzini
C. Metternich
D. Bismark

किसने कहा था जब "फ्रांस छींकता है" है तो बाकी यूरोप को सर्दी लग जाती है?

- (क) गैरीबाल्डी
(ख) मैजिनी
(ग) मेटर्निख
(घ) बिस्मार्क

4. Zollverein started in 1834 in Prussia refers to :

- A. Trade Union
B. Customs Union
C. Labour Union
D. Farmer's Union

1834 में प्रशिया में शुरू हुआ ज़ोलवेरिन का अर्थ है :

- (क) ट्रेड यूनियन
(ख) सीमा शुल्क संघ
(ग) मजदूर संघ
(घ) किसान संघ

5. Elle was the measuring unit in Germany was to measure :
- A. Cloth
B. Thread
C. Land
D. Height

ऐले जर्मनी में मापने की इकाई थी। जिससे.....मापा जाता था।

- (क) कपड़ा
(ख) धागा
(ग) भूमि
(घ) ऊँचाई

6. Choose the correctly matched pair about the crops and the areas they are grown in :

- A. Groundnut : Assam
B. Tea : Gujarat
C. Coffee : Karnataka
D. Sugarcane : Chhattisgarh

फसलों और उन क्षेत्रों के बारे में सही सुमेलित युग्म चुनें जिनमें वे उगाए जाते हैं :

- (क) मूँगफली : असम
(ख) चाय : गुजरात
(ग) कॉफी : कर्नाटक
(घ) गन्ना : छत्तीसगढ़

7. Which soil is known as regur soil ?

- A. Black Soil
B. Red Soil
C. Alluvial Soil
D. Laterite Soil

किस मिट्टी को रेगड़ मिट्टी के रूप में जाना जाता है ?

- (क) काली मिट्टी
(ख) लाल मिट्टी
(ग) जलोढ़ मिट्टी
(घ) लेटराइट मिट्टी

8. Which one of the following is the main cause of land degradation in Punjab?

- A. Intensive Cultivation
B. Deforestation
C. Over Irrigation
D. Over Grazing

निम्नलिखित में से कौन पंजाब में भूमि क्षरण का मुख्य कारण है ?

- (क) गहन खेती
(ख) वनों की कटाई
(ग) अत्यधिक सिंचाई
(घ) अत्यधिक चराई

9. Jhumming in Brazil is called.....
A. Ladang
B. Masale
C. Roca
D. None of these

ब्राजील में झुमिंग को कहा जाता है :

(क) लडांग

(ग) रोका

(ख) मसोल

(घ) इनमें से कोई नहीं

10. In Which months the Kharif crops are harvested?
A. April-June
B. Sept-October
C. January-February
D. June-July

खरीफ की फसल किन महीनों में काटी जाती है ?

(क) अप्रैल-जून

(ग) जनवरी-फरवरी

(ख) सितंबर-अक्टूबर

(घ) जून-जुलाई

11. Which one of the following countries adopted majoritarianism their Constitution?

A. Nepal

C. Sri Lanka

B. India

D. Bangladesh

निम्नलिखित में से किस देश ने अपने संविधान में बहुसंख्यकवाद को अपनाया ?

(क) नेपाल

(ग) श्रीलंका

(ख) भारत

(घ) बांग्लोदश

12. A war like conflict between two opposite groups in a country called :

A. Cold War

C. Ethnic

B. Civil War

D. None of these

किसी देश में दो विरोधी समूहों के बीच युद्ध जैसे संघर्ष को कहते हैं :

(क) शीत युद्ध

(ग) जातीय युद्ध

(ख) गृह युद्ध

(घ) इनमें से कोई नहीं

13. The municipal Corporation officers are called :
- A. Mayors
B. MLAs
C. Sarpanch
D. None of these
- नगर निगम के अधिकारी कहलाते हैं :
- (क) मेयर
(ख) विधायक
(ग) सरपंच
(घ) इनमें से कोई नहीं
14. Which of the following countries is an example of 'Coming Together Federation'?
- A. India
B. Sri Lanka
C. USA
D. Belgium
- निम्नलिखित में से कौन-सा देश 'एक साथ आने वाले महासंघ' का उदाहरण है ?
- (क) भारत
(ख) श्रीलंका
(ग) यूएसए
(घ) बेल्जियम
15. Major steps towards decentralization in India was taken up in_____.
- A. 1992
B. 1993
C. 1991
D. 1990
- भारत में विकेन्द्रीकरण की दिशा में बड़ा कदम उठाया गया था.....
- (क) 1992
(ख) 1993
(ग) 1991
(घ) 1990
16. When was state Reorganization commission formed ?
- A. In 1951
B. In 1963
C. In 1997
D. In 1953
- राज्य पुनर्गठन आयोग का गठन कब किया गया था ?
- (क) 1951
(ख) 1963
(ग) 1997
(घ) 1953

17. Which of the following states of India enjoy special powers under article 371(A) of the Constitution of India?

- A. Nagaland
C. Punjab

- B. Rajasthan
D. Tamil Nadu

भारत के संविधान के अनुच्छेद 371 (A) के तहत भारत के निम्नलिखित में से किसे राज्य को विशेष शक्तियाँ प्राप्त हैं ?

- (क) नागालैंड
(ग) पंजाब

- (ख) राजस्थान
(घ) तमिलनाडु

18. Which one of the following profession belongs to the Tertiary sector of economy?

- A. Fisherman
C. Factory Worker

- B. Farmer
D. Teacher

निम्नलिखित में से कौन-सा व्यवसाय अर्थव्यवस्था के तृतीयक क्षेत्र से संबंधित है ?

- (क) मछुआरा

- (ख) किसान

- (ग) कारखाना कर्मचारी

- (घ) अध्यापक

19. In which state of India infant mortality rate is the lowest?

- A. Kerala

- B. Bihar

- C. Uttar Pradesh

- D. Punjab

भारत में किस राज्य में शिशु मृत्यु दर सबसे कम है ?

- (क) केरल

- (ख) बिहार

- (ग) उत्तर प्रदेश

- (घ) पंजाब

20. In order to get more income people need

- A. Regular work

- B. Better wages

- C. Decent price for their crop

- D. All of these

अधिक आय प्राप्त करने के लिए लोगों को चाहिए :

- (क) नियमित काम

- (ख) बेहतर मजदूरी

- (ग) उनकी फसलों के लिए उचित मजदूरी

- (घ) उपरोक्त सभी

21. Which one of the following best describes Human Development Index (HDI)?

- A. Improvement in science, information and technology
- B. Improvement in health, education and income
- C. Improvement in information and communication
- D. Improvement in investment, finance and technology

निम्नलिखित में से कौन मानव विकास सूचकांक (HDI) का सर्वोत्तम वर्णन करता है?

- (क) विज्ञान, सूचना और प्रौद्योगिकी में सुधार
- (ख) स्वास्थ्य, शिक्षा और आय में सुधार
- (ग) सूचना और संचार में सुधार
- (घ) निवेश, वित्त और प्रौद्योगिकी में सुधार

22. BMI is a method of finding out which of the following :

- A. Infant Mortality
- B. Health status
- C. Longevity
- D. Economic status

बीएमआई निम्नलिखित से किसका पता लगाने की एक विधि है :

- (क) शिशु मृत्युदर
- (ख) स्वास्थ्य की स्थिति
- (ग) लंबी उम्र
- (घ) आर्थिक स्थिति

23. GDP is the total value of :

- A. All goods and services
- B. All final goods and services
- C. All intermediate goods and services
- D. All intermediate and final goods and services

सकल घरेलू उत्पाद का कुल मूल्य है :

- (क) सभी सामान और सेवाएँ ?
- (ख) सभी अंतिम सामान और सेवाएँ
- (ग) सभी मध्यवर्ती सामान और सेवाएँ
- (घ) सभी मध्यवर्ती और अंतिम सामान और सेवाएँ

24. Mahatma Gandhi National Rural Employment Guarantee Act 2005 states a guarantee of minimum 100 days of employment per year. If government is unable to fulfil these 100 days of an employment the government would have to.....

Choose the correct option :

- A. Pay the compensation in lieu of these days
- B. Provide another scheme for the same
- C. Pay at least 1/3 percent allowance
- D. Provide health care as compensation

महात्मा गाँधी राष्ट्रीय ग्रामीण रोजगार गारंटी अधिनियम 2005 प्रति वर्ष न्यूनतम 100 दिनों के रोजगार की गारंटी देता है। यदि सरकार इन 100 दिनों के रोजगार को पूरा करने में असमर्थ है तो सरकार को.....

सही विकल्प चुनिए :

- (क) इन दिनों के बदले मुआवजे का भुगतान करें
- (ख) इसके लिए एक और योजना प्रदान करें
- (ग) एक से कम 1/3 प्रतिशत भत्ता दें
- (घ) मुआवजे के रूप में स्वास्थ्य देखभाल प्रदान करें

SECTION-B

Attempt any 18 out of 22 questions.

25. Which idea is best expressed in this image ?



A. Nationalism

C. Revolution

B. Romanticism

D. Conservatism

इस छवि में कौन-सा विचार सबसे अच्छा व्यक्त किया गया है ?

(क) राष्ट्रवाद

(ग) क्रांतिकारी

(ख) स्वच्छंदतावाद

(घ) रुढ़िवा

NOTE : Following question is for Visually impaired candidates in lieu of Q.25.

नोट : निम्नलिखित प्रश्न संख्या 25 के स्थान पर दृष्टिबाधित उम्मीदवारों के लिए है।

Identify the name of the Prussian king who was proclaimed German Emperor in a ceremony held at Versailles.

A. William I

C. Henry VII

B. William II

D. Louis IV

प्रश्न उस राजा के नाम की पहचान करें जिससे वर्साय में आयोजित समारोह हमें जर्मन सम्राट घोषित किया गया था।

(क) विलियम-1

(ग) हेनरी-VII

(ख) विलियम-II

(घ) लुईस-IV

26. By which of the Following treaties was the United Kingdom of Great Britain.....

A. Treaty of Versailles

C. Treaty of Paris

B. Act of union

D. Treaty of Vienna

ग्रेट ब्रिटेन के यूनाइटेड किंगडम का गठन.....

(क) वर्साय की संधि

(ग) पेरिस की संधि

(ख) संघ का अधिनियम

(घ) वियना की संधि

27. Which of the following best explains Utopian society?

A. A Society where everybody is equal

B. A democratic society

C. An idealist society which can never be achieved

D. A society with a comprehensive constitution
निम्न में से कौन यूरोपियन समाज की सबसे अच्छी व्याख्या करता है ?

- (क) एक समाज जहाँ हर कोई समान है
- (ख) एक लोकतांत्रिक समाज
- (ग) एक आदर्शवादी समाज
- (घ) एक व्यापक संविधान वाला समाज

28. After the French Revolution (1789) the right to vote was given

- A. All adult population of the country
- B. All property-owning male citizens of the country
- C. All property owning male and women of the country
- D. All adults excluding women of the country

फ्रांसीसी क्रांति (1789) के बाद वोट का अधिकार किसको दिया गया था ?

- (क) देश की सभी व्यस्क आवादी
- (ख) देश के पुरुष नागरिकों के स्वामित्व वाली सभी संपत्ति
- (ग) देश के पुरुष और महिलाओं के स्वामित्व वाली सभी संपत्ति
- (घ) देश की महिलाओं को छोड़कर सभी व्यस्क

29. Which of the following is not correctly matched?

A

B

- i) On the basis of origin A) Flora and Fauna
- ii) On the basis of B) Renewable and non-renewable
Exhaustibility
- iii) On the basis of (C) Individual, community,
ownership national and international
- iv) On the basis of status (D) Potential, developed stock
of development and reserves.

A. i) (A), (B)

ii) (B)

C. iii) (C), (D)

iv) (D)

निम्नलिखित में से कौन सही सुमेलित नहीं है ?

- (क) उत्पत्ति के आधार पर (1) वनस्पति और जीव
(ख) समाप्यता के आधार पर (2) नवीकरणीय और अनवीकरणीय
(ग) स्वामित्व के आधार पर (3) व्यक्तिगत, समुदाय, राष्ट्रीय और अंतर्राष्ट्रीय
(घ) विकास की स्थिति के आधार पर (4) संभावित, विकसित स्टॉक और भंडार

30. Who was declared as spiritual heir of Gandhiji ?

- A. Subhash Chandra Bose B. Jawahar Lal Nehru
C. Vinoba Bhave D. Sardar Patel

गांधीजी के आध्यात्मिक उत्तराधिकारी के रूप में किसे घोषित किया गया था ?

- (क) सुभाष चंद्र बोस (ख) जवाहर लाल नेहरू
(ग) विनोबा भावे (घ) सरदार पटेल

31. Power sharing is a good way to ensure the stability of _____

- A. Population B. Political order
C. Both (A) and (B) D. None of these

किसकी स्थिरता सुनिश्चित करने के लिए सत्ता विभाजन एक अच्छा तरीका है ?

- (क) जनसंख्या (ख) राजनैतिक व्यवस्था
(ग) दोनों (क) और (ख) (घ) इनमें से कोई नहीं

32. To make India a strong federation, we need :

- A. Written Constitution B. Rigid Constitution
C. Independent Judiciary D. All of the above

भारत को एक मजबूत संघ बनाने के लिए हमें चाहिए :

- (क) लिखित सविधान (ख) कठोर सविधान
(ग) स्वतंत्र न्यायपालिका (घ) उपरोक्त सभी

33. Two statements are given in the question below as Assertion (A) and Reasoning (R).

Read the statements and choose the appropriate option.

Assertion (A): Sri Lanka adopted Sinhala as the only official language of the state.

Reason (R): The government of Sri Lanka wanted to foster their culture, language and religion.

Options :

- A. Both A and R are true, and R is the correct explanation of A.
- B. Both A and R are true, but R is not the correct explanation of A.
- C. A is true but R is false.
- D. A is false but R is true.

नीचे दिये गये प्रश्नों में दो कथन दिये गए हैं (अभिकथन ए) और (कारण आर)। वाचन को पढ़कर सही विकल्प चुनें।

अभिकथन (ए) : श्रीलंका ने सिंहल को राज्य की एकमात्र आधिकारिक भाषा के रूप में अपनाया।

कथन (आर) : श्रीलंका की सरकार उनकी संस्कृति, भाषा और धर्म को बढ़ावा देना चाहती थी।

विकल्प :

- (क) ए और आर दोनों सत्य हैं और आर, ए की सही व्याख्या करता है।
- (ख) ए और आर दोनों सत्य हैं, लेकिन आर, ए की सही व्याख्या नहीं करता है।
- (ग) ए सही है परंतु आर गलत है।
- (घ) ए गलत है परंतु आर सही है।

1. Match the following items given in Column A with those in Column B.

Column A

- I. Information Technology
- II. Police
- III. Education
- IV. Defence

Column B

- 1. Concurrent List
- 2. Union List
- 3. State List
- 4. Residuary Subjects

Choose the correct answer from the option given below:

- A. I-4, II-3, III-1, IV-2
B. I-3, II-4, III-1, IV-2
C. I-4, II-1, III-1, IV-2
D. I-4, II-2, III-1, IV-3

कॉलम 'ए' में दिए गए विकल्पों को कॉलम 'बी' में दिए गए सूचियों में सुमेलित करें:

कॉलम-ए

कॉलम-बी

- (क) सूचना प्रौद्योगिकी
(ख) पुलिस
(ग) शिक्षा
(घ) रक्षा
1. समवर्ती सूची
2. संघ सूची
3. राज्य सूची
4. अवशिष्ट विषय

35. In terms of _____ India is perhaps the most diverse country of India?

- A. Population
B. Languages
C. Forest
D. Religious

.....की दृष्टि से भारत सबसे अधिक विविधताओं वाला देश है ?

- (क) जनसंख्या
(ख) भाषाएँ
(ग) वन
(घ) धर्म

36. Match the list I with list II and select the correct answer given below :

List I

List II

1. Belgium constitution amended a. 1992
2. Sri Lanka as an independent nation b. Between 1970-1993
3. Sinhala as the only official language c. 1948
4. Decentralisation d. 1956

- A. 1.c, 2.d, 3.a, 4.b
B. 1.b, 2.d, 3.c, 4.a
C. 1.b, 2.d, 3. a, 4.c
D. 1.a, 2.c, 3.d, 4.b

सूची-1 और सूची-2 के साथ मिलान करो और नीचे दिए गए सही उत्तर का चयन करो

सूची-1

सूची-2

- | | |
|--|--------------------------|
| 1. बेल्जियम के संविधान में संशोधन | (a) 1992 |
| 2. श्रीलंका एक स्वतंत्र राष्ट्र के रूप में | (b) 1970-1993 के बीच में |
| 3. सिंहला एकमात्र आधिकारिक भाषा के रूप में | (c) 1948 |
| 4. विकेन्द्रीकरण | (d) 1956 |

37. Which major steps towards decentralisation was not taken in 1992. (Tick the correct answer)

- A. It is constitutionally mandatory to hold regular elections to local government bodies.
- B. At least 1/3 of all positions are reserved for women.
- C. The state government are required to share some powers and revenue with local govt. bodies.
- D. 2/3 seats are reserved for other backward classes.

1992 में विकेन्द्रीकरण की दिशा में कौन से बड़े कदम नहीं उठाए गए? (सही विकल्प चुनिए)

- (क) स्थानीय सरकारी निकायों के लिए नियमित चुनाव करना संवैधानिक रूप से अनिवार्य है।
- (ख) सभी पदों में कम से कम एक तिहाई पद महिलाओं के लिए आरक्षित है।
- (ग) राज्य सरकार को स्थानीय सरकारी निकायों के साथ कुछ शक्तियाँ और राजस्व सांझा करने की आवश्यकता होती है।

(घ) दो तिहाई सीटें अन्य पिछड़ा के लिए आरक्षित है।

38. Identify the correct statement/s about the theory of Federalism in the Indian Constitution.

- I. The Constitution declared India as a Union of States.
- II. Sharing of power between the Union Government and the State governments is basic to the structure of the Constitution.
- III. It is easy to make changes to this power sharing arrangement
- IV. The Parliament can on its own change this arrangement.

Options :

A. I & II

C. I & III

B. II & III

D. II & IV

- भारतीय संविधान में संघवाद के सिद्धांत के बारे में सही कथनों की पहचान करें :
- I. संविधान ने भारत को राज्यों का संघ घोषित किया है।
 - II. केंद्र सरकार और राज्य सरकारों के बीच सत्ता का बंटवारा संविधान की बुनियादी संरचना है।
 - III. सत्ता के बंटवारे की इस व्यवस्था में बदलाव करना आसान है।
 - IV. संसद स्वयं इस व्यवस्था में परिवर्तन कर सकती है।

विकल्प

A. I & II

B. II & III

C. I & III

D. II & IV

39. Two statements are given in the questions as Assertion (A) and Reasoning (R).

Read the statements and choose the appropriate option.

Assertion (A) : Human Development mention how much socio economic development has happened in a country.

Reason (R) : Comparison of national income of two countries explain Human Development Index.

- A. Both A and R are true, and R is the correct explanation of A
- B. Both A and R are true, but R is not the correct explanation of A
- C. A is true but R is false.
- D. A is False but R is true.

निम्नलिखित में, कथनों को अभिकथन (ए) और कारण (आर) के रूप में चिन्हित किया गया है। कथनों को पढ़िये और सही विकल्प का चयन कीजिए :

अभिकथन (ए) : मानव विकास सूचकांक बताता है कि किसी देश में सामाजिक-आर्थिक विकास कितना हुआ है।

कारण (आर) : दो देशों की राष्ट्रीय आय की तुलना मानव विकास की सही व्याख्या करता है।

(क) ए और आर दोनों सत्य हैं और आर, ए की सही व्याख्या करता है।

(ख) ए और आर दोनों सत्य हैं, लेकिन आर, ए की सही व्याख्या नहीं करता है।

(ग) ए सही है परंतु आर गलत है।

(घ) ए गलत है परंतु आर सही है।

40. Arrange the following in the correct sequence :

(I) Transporting flowers to the vendors

(II) Plucking flowers from the plants

(III) Selling garlands at the shops

(IV) Making garlands with flowers

A. II-IV-I-III

B. II-I-IV-III

C. I-II-III-IV

D. III-I-II-IV

निम्नलिखित को सही क्रम में व्यवस्थित करें :

I. विक्रेताओं को फूलों का परिवहन

II. पौधों से फूल तोड़ना

III. दुकान पर माला बेचना

IV. फूलों की माला बनाना

A. II-IV-I-III

B. II-I-IV-III

C. I-II-III-IV

D. III-I-II-IV

41. Read the given data and find out which country has most equitable distribution of income.

दिये गए आँकड़ों को पढ़कर पता करें कि किस देश में आय का सबसे अधिक समान वितरण है।

Monthly income five families in country A and country B

	I	II	III	IV	V
A	9500	9600	10000	10400	10500
B	3000	2000	5000	4000	36000

- A. Country A
 B. Country B
 C. Country A and B
 D. None of these
 (अ) देश A
 (ब) देश B
 (स) देश A और B
 (द) इनमें से कोई नहीं

42. Which of the following is not a criteria for comparing development of different countries?

- A. Education level of the people
 B. People's material possession
 C. Their health status
 D. Their per capital income

निम्नलिखित में से कौन-सा विभिन्न देशों के विकास की तुलना का मापदंड नहीं है?

- (क) लोगों का शैक्षिक स्तर
 (ख) लोगों की भौतिक संपत्ति
 (ग) उनका स्वास्थ्य पर
 (घ) उनकी प्रति व्यक्ति आय

43. Rakesh works in a automobile unit in Gurgram, But he does not get any facility like health insurance, medical-leave, provident fund etc.

- A. Public sector
 B. Organised Sector
 C. Private Sector
 D. Unorganised Sector

राकेश गुरुग्राम में ऑटोमोबाइल यूनिट में काम करता है, परंतु इसे स्वास्थ्य-बीमा, चिकित्सा के लिए छूटी, प्रोविडेंट फंड जैसी कोई सुविधा नहीं मिलती।

- (क) सार्वजनिक क्षेत्र
 (ख) संगठित क्षेत्र
 (ग) निजी क्षेत्र
 (घ) असंगठित क्षेत्र

44. According to 2017-2018 data, the share of different sectors in employment (percentage) in India was

- Primary Sector - 44%
- Secondary Sector - 25%
- Tertiary Sector - 31%

Out of the three sectors, why did the ratio of employment in Primary Sector high? Select the most suitable option from the following:

- A. Workers in the Primary Sector are underemployed
- B. Low job opportunities in Secondary Sector
- C. Efforts of labour are not equivalent in all the sectors
- D. Outsourcing of job opportunities in Secondary Sector

2017-18 के आँकड़ों के अनुसार भारत में रोजगार में विभिन्न क्षेत्रों की हिस्सेदारी (प्रतिशत में) निम्न प्रकार से थी :

प्राथमिक क्षेत्र - 44 प्रतिशत

द्वितीयक क्षेत्र - 25 प्रतिशत

तृतीयक क्षेत्र - 31 प्रतिशत

उपरोक्त क्षेत्रों में से, प्राथमिक क्षेत्र में रोजगार का अनुपात उच्च क्यों था ?

निम्नलिखित में से सबसे उपयुक्त विकल्प का चयन करें

- (क) प्राथमिक क्षेत्र के श्रमिक अल्पकालिक रोजगार में हैं।
- (ख) माध्यमिक क्षेत्र में कम रोजगार के अवसर।
- (ग) श्रम के प्रयास सभी क्षेत्रों में समान नहीं हैं।
- (घ) द्वितीयक क्षेत्रों में नौकरी के अवसरों की आउटसोर्सिंग

45. Two statements are given in the question below as Assertion (A) and Reasoning (R). Read the statements and choose the appropriate option.

Assertion (A): Crude oil reserves in the entire world are depleting, we need to find a sustainable substitute for it.

Reason (R): Oil and petrol prices are increasing day by day.

Options:

- A. Both A and R are true, and R is the correct explanation of A.
- B. Both A and R are true, but R is not the correct explanation of A.
- C. A is true but R is false.
- D. A is false but R is true.

नीचे दिए गए प्रश्न में दो कथन, अभिकथन (ए) और कारण (आर) के रूप में दिए गए हैं। कथनों को पढ़िए और उपयुक्त विकल्प का चयन कीजिए :

अभिकथन (ए) : पूरी दुनिया में कच्चे तेल का भंडार कम हो रहा है। हमें इसके लिए स्थायी विकल्प खोजने की जरूरत है।

कारण (आर) : तेल और पेट्रोल की कीमतें दिन ब दिन बढ़ती जा रही है।

विकल्प :

- (क) ए और आर दोनों सत्य हैं और आर, ए की सही व्याख्या करता है।
- (ख) दोनों सत्य है, लेकिन आर, ए की सही व्याख्या नहीं है।
- (ग) ए सत्य है, लेकिन आर गलत है।
- (घ) ए गलत है, लेकिन आर सत्य है।

46. A man is employed on a food processing farm where he has to do a lot of manual work. His wife and daughter also help him in his work on the farm every day. Of which type of employment is this an example?

- A. Disguised employment
- B. Seasonal employment
- C. Over employment
- D. Cyclical employment

एक आदमी एक खाद्य प्रसंस्करण फार्म पर कार्यरत है उसे अधिक से अधिक कार्य करना पड़ता है उनकी पत्नी और बेटी भी हर दिन खेत में उनके कामों में उनकी मदद करती है। यह किस प्रकार की बेरोजगारी का एक उदाहरण है।

- (क) प्रच्छन्न बेरोजगारी
- (ख) मौसमी बेरोजगारी
- (ग) बेरोजगारी से अधिक
- (घ) चक्रीय बेरोजगारी

SECTION - C

खंड-ग

(Attempt any 5 out of 6 questions in each of the Case based questions)
स्रोत आधारित प्रत्येक 6 प्रश्न में से किन्हीं 5 प्रश्नों को हल करें।

Read the source given below and answer any 5 of the 6 questions that follow by choosing the most appropriate option:

Grimms' Fairy Tales is a familiar name in Germany. The brothers Jacob and Wilhelm Grimm were born in the German city of Hanau. While both of them studied law, they soon developed an interest in collecting old folktales. They spent six years travelling from village to village, talking to people and writing down fairy tales, which were handed down through the generations. These were popular both among children and adults.

In 1812, they published their first collection of tales. Subsequently, both the brothers became active in liberal politics, especially the movement for freedom of the press. In the meantime, they also published a 33-volume dictionary of the German language. The Grimm brothers also saw French domination as a threat to German culture and believed that the folktales they had collected were expressions of a pure and authentic German spirit. They considered their projects of collecting folktales and developing the German language as part of the wider effort to oppose French domination and create a German national identity.

47. Why did the Grimm brothers give the tales a readable form without changing their folkloric character? Choose the correct options from the following :

- A. The collection enjoyed wide distribution in Germany.
- B. It became a model for the collecting of fantasy tales.
- C. It formed the basis for the science of the language.
- D. People easily accepted their written adventurous tales

नीचे दिए गए स्रोत को पढ़िए और उसके बाद आने वाले 6 में से किन्हीं 5 प्रश्नों के सबसे उपयुक्त विकल्प चुनकर उत्तर दीजिए :

ग्रिम्स फेयरी टेल्स जर्मनी में एक जाना-पहचाना नाम है। ग्रिम्स बंधु याकूब और विल्हेम का जन्म जर्मनी के शहर हानाऊ में हुआ था। दोनों भाइयों ने कानून की पढ़ाई की जल्द ही उनमें पुरानी लोककथाओं को इकट्ठा करने की रुचि विकसित हुई। उन्होंने गाँव-गाँव यात्रा करते हुए छह साल बिताए। लोगों से बात करते और पीछली कई पीढ़ियों से हस्तांतरित लोक कथाओं को लिखने का काम करते रहे। ये कहानियाँ बच्चों और वयस्कों दोनों के बीच काफी लोकप्रिय थीं।

सन् 1812 ई. में, उन्होंने कहानियों का अपना पहला संग्रह प्रकाशित किया। इसके बाद दोनों भाइयों उदार राजनीति में सक्रिय हो गए, विशेष रूप से प्रेस की स्वतंत्रता हेतु आंदोलनों में। इस बीच, उन्होंने जर्मन भाषा का 33-खंड वाला शब्दकोष भी प्रकाशित किया।

ग्रिम्स बंधु ने भी फ्रांसीसी वर्चस्व को जर्मन संस्कृति के लिए एक खतरे के रूप में देखा। उनका मानना था कि उन्होंने जो लोक कथाएँ एकत्र की हैं, वे शुद्ध जर्मन आत्मा के प्रामाणिकता की अभिव्यक्ति हैं। उन्होंने एक व्यापक प्रयास के तौर पर फ्रांसीसी वर्चस्व का विरोध करने तथा जर्मनी की राष्ट्रीय पहचान के लिए जर्मन भाषा में लोक कथाओं को इकट्ठा करने और उन्हें विकसित करने की अपनी परियोजनाओं पर विचार किया।

उपरोक्त स्रोत के आधार पर निम्नलिखित प्रश्नों के उत्तर दें :

ग्रिम्स बंधु ने लोकगीतों का चरित्र बदले बिना उसकी कहानियों को एक पठनीय रूप निम्नलिखित में से सही विकल्प चुनिए :

जिससे.....

(क) संग्रह का जर्मनी में व्यापक वितरण हुआ।

(ख) यह काल्पनिक कहानियों के संग्रह के लिए एक मॉडल बन गया।

(ग) इसने भाषा के विज्ञान का आधार बनाया।

(घ) लोगों ने उनकी लिखित साहित्यिक कहानियों को आसानी से स्वीकार कर लिया।

48. The impact of literary contributions of Grimm brothers was widespread. Identify the best suitable option depicting the same from the following :

A. Development of cities and towns

B. Setting up of new political parties

- C. Promotion of ethnic belonging
- D. Emergence of socialist ideology

गिम्स बंधु के साहित्यिक योगदान का प्रभाव व्यापक था। निम्नलिखित में से इसके लिए सबसे उपयुक्त विकल्प की पहचान करें।

- (क) शहरों और कस्बों का विकास
- (ख) नए राजनीतिक दलों की स्थापना
- (ग) जातीयता (ethnicity) को बढ़ावा देना
- (घ) समाजवादी विचारधारा का उदय

49. Fill in the blank from the given options :

The work of the Grimm Brothers influenced and inspired people to collect tales. They believed in a spirit of and considered it essential for the reflection of national identity.

- A. Culturalism
- C. Extremism

- B. Conservatism
- D. Liberalism

दिए गए विकल्पों में से रिक्त स्थान की पूर्ति करें :

ग्रिम ब्रदर्स के काम ने लोगों को कहानियाँ इकट्ठा करने के लिए प्रभावित और प्रेरित किया। उन्होंने.....की भावना में विश्वास किया और इसे राष्ट्रीय पहचान के प्रतिबिंब के लिए आवश्यक :

(क) संस्कृतिवाद

(ख) रूढ़िवाद

(ग) उग्रवाद

(घ) उदारवाद

50. Why the foreign domination was considered a threat to nation building? Select the best suitable option from the following in reference to the context.

- A. Exploitation of natural resources
- B. Erosion of native values and ethos
- C. Violence and mass killing of people
- D. Spread of new diseases

विदेशी प्रभुत्व को राष्ट्र निर्माण के लिए स्वतंत्र क्यों माना जाता था? निम्नलिखित में से उपयुक्त विकल्प का चयन करें :

- (क) प्राकृतिक संसाधनों का दोहन
- (ख) देशी मूल्यों और लोकाचार का क्षरण
- (ग) लोगों के प्रति हिंसा और सामूहिक हत्या
- (घ) देश में कई बीमारियों का प्रसार

51.

How were the Germans able to connect with their culture? With reference to the above context, infer the appropriate option.

- A. Through the feeling of formal way of communication
- B. Through the feeling of oneness as European community
- C. Through the feeling of collective belonging among nationals
- D. Through the feeling of coherence in reference to mannerism

जर्मन अपनी संस्कृति से कैसे जुड़ पाए? उपरोक्त संदर्भ के आधार पर, उपयुक्त विकल्प चुनें :

- (क) संचार के औपचारिक तरीके की भावना के माध्यम से
- (ख) यूरोपीय समुदाय के रूप में एकता की भावना के माध्यम से
- (ग) राष्ट्रों के बीच सामूहिक अपनेपन की भावना के माध्यम से
- (घ) व्यवहारवाद के संदर्भ में सुसंगतता की भावना के माध्यम से

52.

Two statements are given in the question below as Assertion (A) and Reasoning (R).

Read the statements and choose the appropriate option.

Assertion A: Regimes of 1815 did not tolerate criticism and dissent.

Reason (R) : Conservative regimes were autocratic.

Options :

- A. Both A and R are true, and R is the correct explanation of A.
- B. Both A and R are true, but R is not the correct explanation of A.

C. A is true but R is false.

D. A is false but R is true.

नीचे दिए गए प्रश्न में दो कथन, अभिकथन (ए) और कारण (आर) के रूप में दिए गए हैं।

कथनों को पढ़िए और उपयुक्त विकल्प का चयन कीजिए।

अभिकथन (ए) : 1815 के शासन ने आलोचना और असंतोष को बर्दाश्त नहीं किया।

कारण (आर) : रूढ़िवादी शासन तंत्र निरंकुश थे।

विकल्प :

(क) ए और आर दोनों सत्य हैं और आर, ए की सही व्याख्या करता है।

(ख) ए और आर दोनों सत्य हैं, लेकिन आर, ए की सही व्याख्या नहीं है।

(ग) ए सत्य है लेकिन आर गलत है।

(घ) ए गलत है लेकिन आर सत्य है।

Read the extract given below and answer the questions that follow.
नीचे दिए गए उद्धरण को पढ़िए और नीचे दिए गए प्रश्नों के उत्तर दीजिए।

Tea cultivation is an example of plantation agriculture. It is also an important beverage crop introduced in India initiative by the British. Today, most of the tea plantations are owned by Indians. The tea plant grows well in tropical and sub-tropical climates endowed with deep and textile well-drained soil, rich in humus and organic matter. Tea bushes require a warm and moist frost free climate through the year.

Frequent showers evenly distributed over the year ensure continuous growth of tender leaves. Tea is a labour-intensive industry. It requires abundant, cheap and skilled labour. Tea is processed within the tea garden to restore its freshness. Major tea-producing states are Assam, hills of Darjeeling and Japaiguri districts. West Bengal, Tamil Nadu and Kerala Apart from these states, Jharkhand, Uttarakhnad, Meghalaya, Andhra Pradesh and Karnataka are also tea-producing states in the country in 2016 India is the second-largest producer of tea after China.

Coffee Indian coffee is known in the world for its good quality. The Arabica variety initially brought it from Yemen is produced in the country. This variety is in great demand all over the world initially, its cultivation was introduced on the Baba Budan Hills and even today its cultivation is confined to the Nilgiris in Karnataka, Kerala and Tamilnadu.

चाय की खेती वृक्षारोपण कृषि का एक उदाहरण है। यह अंग्रेजों द्वारा भारत में शुरु की गई एक महत्वपूर्ण पेय फसल भी है। आज, अधिकांश चाय बागान भारतीयों के स्वामित्व में हैं। चाय का पौधा उष्णकटिबंधीय और उपोष्ण कटिबंधीय जलवायु में अच्छी तरह से बढ़ता है, जो गहरी और उपजाऊ अच्छी तरह से सूखा मिट्टी, ह्यूमस और कार्बनिक पदार्थों से भरपूर होता है। चाय की झाड़ियों को साल भर गर्म और नम ठंड की मुक्त जलवायु साल भर आवश्यकता होती है में समान रूप से वितरित बार-बार बौछारें कोमल पत्तियों की निरंतर वृद्धि सुनिश्चित करती हैं। चाय एक श्रम प्रधान उद्योग है। इसके लिए परचुर, सस्ते और कुशल श्रम की आवश्यकता होती है। चाय की ताजगी बहाल करने के लिए चाय बागान के भीतर चाय को संसाधित किया जाता है। प्रमुख चाय उत्पादक राज्य असम, दार्जिलिंग की पहाड़ियाँ और जलपाईगुड़ी जिले, पश्चिम बंगाल, तमिलनाडु और केरल हैं इनके अलावा हिमालय प्रदेश, उत्तराखंड, मेघालय, आंध्र प्रदेश और त्रिपुरा भी देश में चाय उत्पादक राज्य हैं। 2016 में भारत चीन के बाद ली का दूसरा सबसे बड़ा उत्पादक था।

कॉफी भारतीय कॉफी दुनिया में अपनी अच्छी गुणवत्ता के लिए जानी जाती है। शुरुआत में यमन से लाइ गई : अरेबिका किस्म उत्पादन देश में किया जाता है। इस किस्म की पूरी दुनिया में काफी मांग है। प्रारंभ में इसकी खेती बाबा बुदन पहाड़ियों पर शुरु की गई थी और आज भी इसकी खेती कर्नाटक, केरल और तमिलनाडु में नीलगिरी तक ही सीमित है।

Answer the following MCQs by choosing the most appropriate option :

सबसे उपयुक्त विकल्प चुनकर निम्नलिखित प्रश्नों के उत्तर दें।

53. What is common between Tea and Coffee ?

- (a) They are beverages
- (b) They are plantation crop
- (c) They grow in the hilly region
- (d) All of these

चाय और कॉफी में क्या समानता है ?

- (क) ये पेय पदार्थ है
- (ख) ये प्लांटेशन फसल हैं
- (ग) ये पहाड़ी क्षेत्रों में उगते हैं
- (घ) उपर्युक्त सभी

54. Which of the following conditions can spoil tea crops ?

- (a) Frequent rains widespread throughout the year
- (b) Clayey soil which has a high water-holding capacity
- (c) Deep fertile well-drained soil
- (d) Warm, moist and frost-free climate

निम्नलिखित में से कौन-सी स्थिति चाय की फसल को खराब कर सकती है ?

- (क) वर्ष भर होने वाली बारिश
- (ख) मिट्टी जिसमें उच्च जलधारण क्षमता हो
- (ग) गहरी उपजाऊ एवं अच्छी तरह सूखी हुई मिट्टी
- (घ) गर्म, नम एवं ठंड मुक्त जलवायु

55. India competes with _____ for its production of tea.

- (a) Brazil
- (b) Yemen
- (c) China
- (d) Nepal

भारत चाय के उत्पादन के लिए.....के साथ प्रतिस्पर्धा करता है।

- (क) ब्राजील
- (ख) यमन
- (ग) चीन
- (घ) नेपाल

56. Taking a hint from the given picture identify what this woman is engaged in ?



- (a) Sowing the tea and coffee seeds
- (b) Plucking coffee beans
- (c) Pruning tea bushes
- (d) Plucking tea leaves

(क) चाय और कॉफी के बीज बोना

(ख) कॉफी बीन्स तोड़ना

(ग) चाय की झाड़ियों को काटना

(घ) चाय की पत्तियाँ तोड़ना

57. Which one of the following states is the largest producer of Tea in India?

A. Assam

B. Tamil Nadu

C. Arunachal Pradesh

D. West Bengal

निम्नलिखित में से कौन-सा राज्य चाय का अधिकतम उत्पादन करता है ?

(क) असम

(ख) तमिलनाडु

(ग) अरुणाचल प्रदेश

(घ) पश्चिम बंगाल

58. Which India State is the largest producer of coffee?

A. Maharashtra

B. Kerala

C. Odisha

D. Karnataka

भारत के किस राज्य में कॉफी का उत्पादन सबसे अधिक होता है ?

(क) महाराष्ट्र

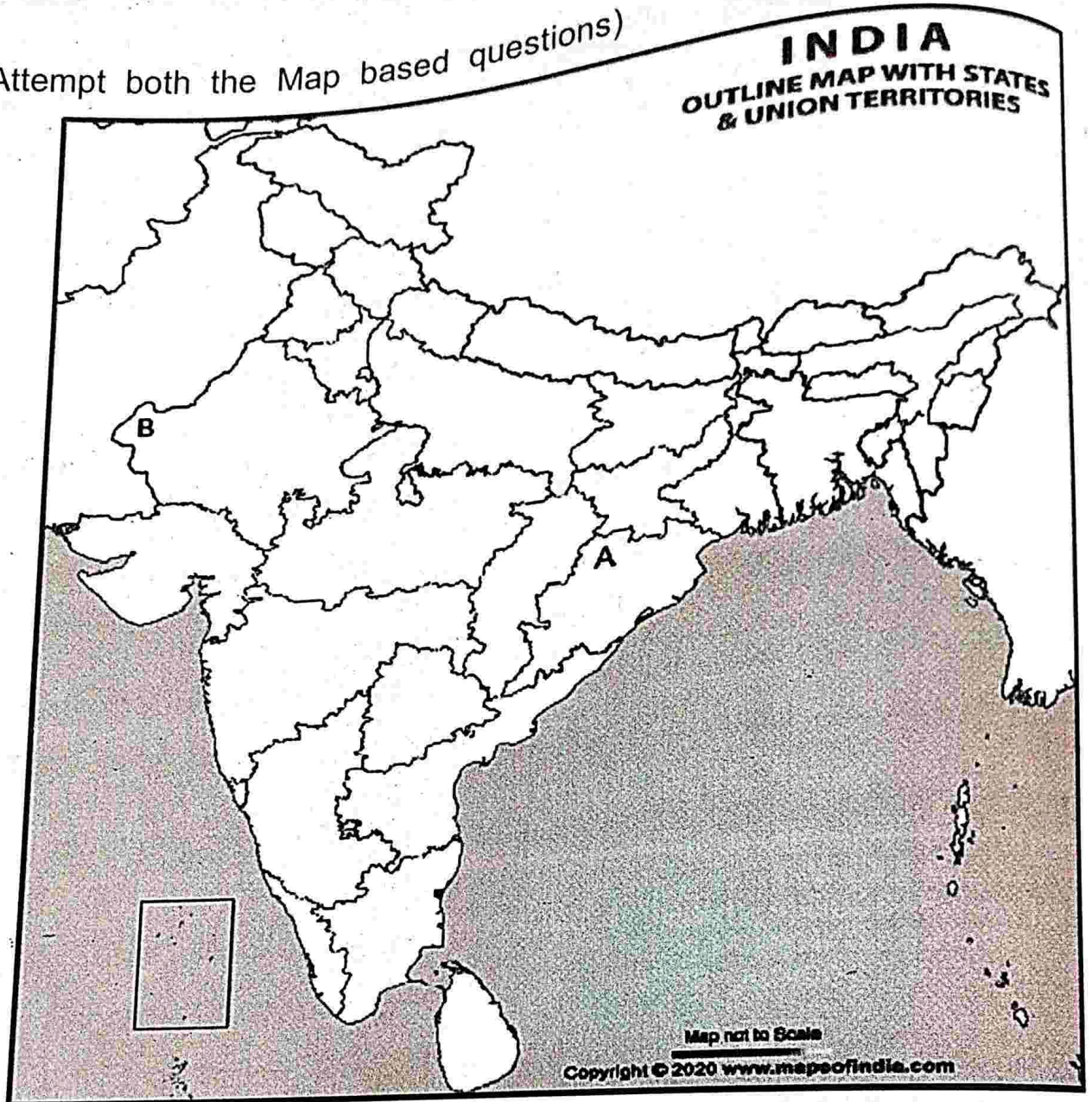
(ख) केरल

(ग) उड़ीशा

(घ) कर्नाटक

SECTION-D

(Attempt both the Map based questions)



59. In this map 'A' is marked as a Dam identify the following location with the help of specified information outline map of India, identify the locations with the help of specified information.

- | | |
|-----------------------|--------------------|
| A. Sardar Sarovar Dam | B. Hirakund Dam |
| C. Nagarjun Sagar Dam | D. Tungabhadra Dam |

भारत के दिए गए मानचित्र पर, निर्दिष्ट जानकारी की सहायता से स्थानों की पहचान करें।

- | | |
|-------------------------|--------------------|
| (क) सरदार सरोवर बांध | (ख) हीराकुंड बांध |
| (ग) नागार्जुन सागर बांध | (घ) तुंगभद्रा बांध |

60. In this map B is marked as soil. Identify it from the following option :

- A. Laterite Soil : Western Maharashtra
- B. Laterite Soil : Odisha
- C. Arid Soil : Western Rajasthan
- D. Laterite Soil : Manipur

- (क) लेटराइट मिट्टी : पश्चिम बंगाल (ख) लेटराइट मिट्टी : ओड़ीशा
(ग) शुष्क मिट्टी : पश्चिम राजस्थान (घ) लेटराइट मिट्टी : मणिपुर

NOTE : The following questions are for the Visually Impaired Candidates in lieu of questions 59 and 60.

59. Which of the following dam is located on Mahanadi?

- A. Sardar Sarovar Dam
- B. Hirakund Dam
- C. Nagarjun Sagar Dam
- D. Tungabhadra Dam

निम्न में से कौनसा बांध महानदी पर बना है ?

- (क) सरदार सरोवर बांध (ख) हीराकुंड बांध
(ग) नागार्जुन सागर बांध (घ) तुंगभद्रा बांध

60. In which state arid soil is found?

- A. Manipur
- B. Odisha
- C. Rajasthan
- D. Punjab

शुष्क मिट्टी किस राज्य में पाई जाती है ?

- (क) मणिपुर (ख) उड़ीशा
(ग) राजस्थान (घ) पंजाब

General Instructions:

1. The Question Paper contains four sections.
2. Section A has 24 questions. Attempt any 20 questions.
3. Section B has 22 questions. Attempt any 18 questions.
4. Section C has 12 questions (Case based). Attempt any 10 questions per case.
5. Section D contains 2 Map based questions. Attempt both the questions.
6. All questions carry equal marks.
7. There is no negative marking.

SECTION-A

Attempt any 20 out of 24 questions.

1. Which one of the following is not true regarding the 'Balkan Problem' :
 - A. The Balkan states were very jealous of each other
 - B. Each state wanted to gain more territory at the expense of others
 - C. The Balkans were also the scene of big power rivalry
 - D. The Balkans were not under the control of Ottoman Empire
- 'बाल्कन समस्या' के संबंध में निम्नलिखित में से कौन-सा सत्य नहीं है ?
- (क) बाल्कन राज्य एक दूसरे से बहुत ईर्ष्या करते थे

- (ख) प्रत्येक राज्य दूसरों की कीमत पर अधिक क्षेत्र प्राप्त करेगा।
 (ग) बाल्कन भी बड़ी शक्ति प्रतिद्वन्द्विता के दृश्य थे।
 (घ) बाल्कन तुर्क साम्राज्य के नियंत्रण में नहीं थे।

2. A nation-state is a state where-
- A. People of all groups enjoy equal rights
 B. Where the nation has its own emblem and flag
 C. A state which has a contiguous territory
 D. A state where people live in a common territory, develop a sense of identity and share a common history.

राष्ट्र-राज्य एक ऐसा राज्य है जहाँ

- (क) सभी समूहों के लोगों को समान अधिकार प्राप्त है।
 (ख) जहाँ राष्ट्र का अपना प्रतीक और ध्वज हो।
 (ग) एक राज्य जिसका एक निकट क्षेत्र है।
 (घ) एक ऐसा राज्य जहाँ लोग एक समान क्षेत्र में रहते हैं, पहचान की भावना विकसित करते हैं और एक साझा इतिहास साझा करते हैं।

3. Which of the following country is considered as the 'cradle of civilization'?

- A. England
 B. France
 C. Greece
 D. Russia

निम्नलिखित में से किस देश को 'सभ्यता का पालना' माना जाता है ?

- (क) इंग्लैंड
 (ख) फ्रांस
 (ग) ग्रीस
 (घ) रूस

Identify and mark the incorrect response about The Napoleonic code :

- A. Did away with all the privileges based on birth and established equality.

Destroyed feudalism in France

- (ख) प्रत्येक राज्य दूसरों की कीमत पर अधिक क्षेत्र हासिल करना चाहता था
 (ग) बाल्कन भी बड़ी शक्ति प्रतिद्वंद्विता के दृश्य थे
 (घ) बाल्कन तुर्क साम्राज्य के नियंत्रण में नहीं थे

2. A nation-state is a state where-
- A. People of all groups enjoy equal rights
 B. Where the nation has its own emblem and flag
 C. A state which has a contiguous territory
 D. A state where people live in a common territory, develop a sense of identity and share a common history.

राष्ट्र-राज्य एक ऐसा राज्य है जहाँ

- (क) सभी समूहों के लोगों को समान अधिकार प्राप्त है
 (ख) जहाँ राष्ट्र का अपना प्रतीक और ध्वज हो
 (ग) एक राज्य जिसका एक निकट क्षेत्र है
 (घ) एक ऐसा राज्य जहाँ लोग एक समान क्षेत्र में रहते हैं, पहचान की भावना विकसित करते हैं और एक साझा इतिहास साझा करते हैं।

3. Which of the following country is considered as the 'cradle of civilization'?

- A. England
 B. France
 C. Greece
 D. Russia

निम्नलिखित में से किस देश को 'सभ्यता का पालना' माना जाता है ?

- (क) इंग्लैंड
 (ख) फ्रांस
 (ग) ग्रीस
 (घ) रूस

4. Identify and mark the incorrect response about The Napoleonic code :

- A. Did away with all the privileges based on birth and established equality.
 B. Destroyed feudalism in France

C. Formulated codes for the army

D. Ensured right to property for the privileged class.

नेपोलियन कोड के बारे में गलत प्रतिक्रिया को पहचानें और चिन्हित करें :

(क) 'जन्म' पर आधारित सभी विशेषाधिकारों को समाप्त कर दिया और समानता स्थापित की।

(ख) फ्रांस में सामंतवाद को नष्ट कर दिया

(ग) सेना के लिए कोड तैयार किया

(घ) विशेषाधिकार प्राप्त वर्ग के लिए संपत्ति का अधिकार सुनिश्चित किया

After the French Revolution (1789) the right to vote was given to:

A. All adult population of the country

B. All property-owning male citizens of the country

C. All property owning male and women of the country

D. None of these

फ्रांसीसी क्रांति (1789) के बाद वोट का अधिकार किसको दिया गया था ?

(क) देश की सभी वयस्क जनसंख्या

(ख) देश के सभी संपत्ति के मालिक पुरुष नागरिक

(ग) देश के पुरुष और महिलाओं के स्वामित्व वाली सभी संपत्ति

(घ) इनमें से कोई नहीं

The processes of.....and.....go on simultaneously and generally there is a balance between the two.

A. Denudation and erosion

B. Soil formation and erosion

C. Soil formation and denudation

D. Climatic conditions and soil erosion

.....और.....की प्रक्रियाएँ एक साथ चलती हैं और आमतौर पर दोनों के बीच संतुलन होता है।

(क) अनाच्छादन और अपरदन

(ख) मृदा निर्माण और अपरदन

(ग) मृदा निर्माण और अनाच्छादन

(घ) जलवायु परिस्थितियाँ और मृदा अपरदन

7. Which one of the following is the main cause of land degradation in Punjab?

- A. Intensive cultivation
C. Over-irrigation

- B. Deforestation
D. Overgrazing

निम्नलिखित में से कौन पंजाब में भूमि क्षरण का मुख्य कारण है ?
(क) गहन खेती
(ख) वनों की कटाई
(घ) अत्यधिक चराई
(ग) अधिक सिंचाई

8. What was the message of Gandhiji about conservation of resources :

- A. Gandhiji said: "There is enough for everybody's need and not for anybody's greed."
B. Gandhiji said: "There is enough for everybody's need and not for anybody's economic growth."
C. Gandhiji said: "There is enough for everybody's need and not for anybody's exploitation."
D. Gandhiji said: "There is enough for everybody's need and not for anybody's political growth."

संसाधनों के संरक्षण के बारे में गांधी जी का क्या संदेश था ?

- (क) गांधीजी ने कहा : "हर किसी की जरूरत के लिए पर्याप्त है और किसी के लालच के लिए नहीं।"
(ख) गांधीजी ने कहा : "हर किसी की जरूरत के लिए पर्याप्त है और किसी के आर्थिक विकास के लिए नहीं।"
(ग) गांधीजी ने कहा : "हर किसी की जरूरत के लिए पर्याप्त है और किसी के शोषण के लिए नहीं।"
(घ) गांधीजी ने कहा : "हर किसी की जरूरत के लिए पर्याप्त है न कि किसी के राजनीतिक विकास के लिए।"

9. The ocean resources till 200 nautical miles are classified under which zone?

- A. Exclusive Economic Zone B. Export-processing Zone
C. Special Economic Zone D. None of these

200 समुद्री मील तक के समुद्री संसाधनों को किस क्षेत्र में गया है ?

- (क) अनन्य आर्थिक क्षेत्र (ख) निर्यात प्रसंस्करण क्षेत्र
(ग) विशेष आर्थिक क्षेत्र (घ) इनमें से कोई नहीं

10. Answer the following MCQs by choosing the most appropriate option:

Read the combinations showing the cropping seasons/Sowing season and select the correct option :

X : June-July

Y : October-December

Z : Around March

Choose the correct Option :

- A. X-Rabi, Y-Kharif, Z-Zaid B. X-Zaid, Y-Rabi, Z- Kharif
C. X-Kharif, Y-Zaid, Z-Rabi D. X-Kharif, Y-Rabi, Z-Zaid

फसल के मौसम/बुवाई के मौसम को दर्शाने वाले संयोजनों को पढ़ें और सही विकल्प का चयन करें :

X-जून-जुलाई

Y-अक्टूबर-दिसंबर

Z-मार्च के आसपास

सही विकल्प चुनें :

- A. X-रबी, Y-खरीफ, Z-जैद B. C-जैद, Y-रबी, Z-खरीफ
C. Z-खरीफ, Y-जैद, Z-रबी D. X-खरीफ, Y-रबी, Z-जैद

11. BMI (Body Mass Index) is a method of finding out which of the following?

- A. Infant Mortality B. Health status
C. Longevity D. Economic Status

बीएमआई (बॉडी मास इंडेक्स) निम्नलिखित में से किसका पता लगाने की एक विधि है?

- (क) शिशु मृत्यु दर
(ख) स्वास्थ्य की स्थिति
(ग) दीर्घायु
(घ) आर्थिक स्थिति

12. Which of the following refers to the intermediary goods?
- A. Goods those are included in the estimation of GDP.
B. Goods that are not used as raw material for production of other goods during a year.
C. Goods that are used as raw material for the production of other goods during a year.
D. Goods that are not resold by the firms to make profit during.

निम्नलिखित में से कौन मध्यस्थ वस्तुओं को संदर्भित करता है?

- (क) वे सामान जो जीडीपी के अनुमान में शामिल हैं।
(ख) एक वर्ष के दौरान अन्य वस्तुओं के उत्पादन के लिए कच्चे माल के रूप में उपयोग नहीं किए जाने वाले सामान।
(ग) एक वर्ष के दौरान अन्य वस्तुओं के उत्पादन के लिए कच्चे माल के रूप में उपयोग किए जाने वाले सामान।
(घ) माल जो फर्मों द्वारा लाभ कमाने के लिए पुनर्विक्रय नहीं किया जाता है।

13. Which of the following neighboring countries has better performance in terms of human development than India?

- A. Bangladesh
B. Sri Lanka
C. Nepal
D. Pakistan

मानव विकास के मामले में निम्नलिखित में से किस पड़ोसी देश का प्रदर्शन भारत से बेहतर है ?

- (क) बांग्लादेश
(ख) श्रीलंका
(ग) नेपाल
(घ) पाकिस्तान

14. What is the main economic activity of people in India?

- A. Agriculture
B. Industries
C. Service Sector
D. None of the above

भारत में लोगों की मुख्य आर्थिक गतिविधि क्या है ?

(क) कृषि

(ग) सेवा क्षेत्र

(ख) उद्योग

(घ) उपरोक्त में से कोई नहीं

15. Development of an individual refers to

A. Mental development

C. Spiritual development

B. Physical development

D. Overall development

एक व्यक्ति का विकास संदर्भित करता है :

(क) मानसिक विकास

(ग) आध्यात्मिक विकास

(ख) शारीरिक विकास

(घ) समग्र विकास

16. Which of the following things money cannot buy?

A. Building

C. Flowers

B. Pollution free environment

D. Books

निम्नलिखित में से कौन-सी चीज पैसे से नहीं खरीद सकते ?

(क) इमारत

(ग) फूल

(ख) प्रदूषण मुक्त वातावरण

(घ) किताबें

17. The sectors are classified into public and private sector on the basis of :

A. Employment conditions

B. The nature of economic activity

C. Ownership of enterprises

D. Number of workers employed in the enterprise

किस आधार पर क्षेत्रों को सार्वजनिक और निजी क्षेत्र में वर्गीकृत किया गया है :

(क) रोजगार की शर्तें

(ग) उद्यमों का स्वामित्व

(ख) आर्थिक गतिविधि की प्रकृति

(घ) उद्यम में कार्यरत श्रमिकों की संख्या

18. When power is shared among different organs of the government it is called as :

A. Horizontal distribution of power

B. Community distribution of power

C. Power of Coalition

D. Federal distribution of power

जब सरकार के विभिन्न अंगों के बीच सत्ता का बंटवारा होता है तो इसे कहते हैं:

(क) शक्ति का क्षेत्रीय वितरण

(ख) शक्ति का सामुदायिक वितरण

(ग) गठबंधन की शक्ति

(घ) शक्ति का संघीय वितरण

19. Which of the following is not the benefit of power sharing?

A. It upholds the spirit of democracy.

B. Political parties get their expected share.

C. It ensures political stability in the long-run.

D. It reduces the possibility of conflicts between social groups

निम्नलिखित में से कौन सत्ता के बंटवारे का लाभ नहीं है ?

(क) यह लोकतंत्र की भावना को कायम रखता है।

(ख) राजनीतिक दलों को उनका अपेक्षित हिस्सा मिलता है।

(ग) यह लंबे समय में राजनीतिक स्थिरता सुनिश्चित करता है।

(घ) यह सामाजिक समूहों के बीच संघर्ष की संभावना को कम करता है।

20. An Act of recognizing Sinhala as the official language was signed in:

A. 1942

B. 1956

C. 1954

D. 1948

सिंहल को आधिकारिक भाषा के रूप में मान्यता देने के एक अधिनियम पर हस्ताक्षर किए गए थे :

(क) 1942

(ख) 1956

(ग) 1954

(घ) 1948

21. Which one of the following systems of power sharing is called checks and balances?

A. Horizontal distribution of powers

- B. Federal division of powers
- C. Separation of powers
- D. Power shared among different levels of government

सत्ता के बंटवारे की निम्नलिखित में से कौन-सी प्रणाली चेक और बैलेंस कहलाती है?

- (क) शक्तियों का क्षेत्रीय वितरण
- (ख) शक्तियों का संघीय विभाजन
- (ग) शक्तियों का पृथक्करण
- (घ) सरकार के विभिन्न स्तरों के बीच सत्ता का बंटवारा.

22. To make India a strong federation, we need :

- A. Written constitution
- B. Rigid constitution
- C. Independent judiciary
- D. All of the above

भारत को एक मजबूत संघ बनाने के लिए, हमें चाहिए :

- (क) लिखित संविधान
- (ख) कठोर संविधान
- (ग) स्वतंत्र न्यायपालिका
- (घ) उपरोक्त सभी

23. There are two kinds of routes through which federations have been formed. Which are they?

- A. One route involves independent states coming together on their own to form a bigger unit
- B. Second route is where a large country decides to divide its powers between the states and the national government
- C. Both the above
- D. None of the above

दो प्रकार के मार्ग हैं जिनके माध्यम से संघों का गठन किया गया है। ये कौन हैं ?

- (क) एक मार्ग में स्वतंत्र राज्य शामिल हैं जो एक बड़ी इकाई बनाने के लिए एक साथ आते हैं।
- (ख) दूसरा मार्ग वह है जहाँ एक बड़ा देश अपनी शक्तियों को राज्यों और राष्ट्रीय सरकार के बीच विभाजित करने का निर्णय लेता है।
- (ग) उपरोक्त दोनों
- (घ) उपरोक्त में से कोई नहीं

24. Which of the following is incorrect regarding a unitary government?
- There is either only one level of government or the sub-units are subordinate to the central government
 - The central government can pass on orders to the provincial government
 - A state government is answerable to central government
 - The powers of state governments are guaranteed by the Constitution

एकात्मक सरकार के संबंध में निम्नलिखित में से कौन-सा गलत है ?

- या तो सरकार का केवल एक स्तर होता है या उप-इकाइयाँ केंद्र सरकार के अधीनस्थ होती हैं।
- केंद्र सरकार प्रांतीय सरकार को आदेश दे सकती है।
- एक राज्य सरकार केंद्र सरकार के प्रति जवाबदेह होती है।
- राज्य सरकारों की शक्तियों की गारंटी संविधान द्वारा दी गई है।

SECTION-B

(Attempt any 18 out of 22 questions)

25.



What was the political idea behind this picture :

- Shows Principles of liberty, equality and fraternity.
- People are grouped as distinct nations identified by their flags and national outcomes.
- This depict the rise of nation states in Europe and America.
- All of these.

इस तस्वीर के पीछे का राजनीतिक विचार क्या था ?

- (क) स्वतंत्रता, समानता और बंधुत्व के सिद्धांतों को दर्शाता है।
(ख) लोगों को उनके झंडों और राष्ट्रीय परिणामों द्वारा पहचानने जाने वाले विशिष्ट राष्ट्रों के रूप में समूहीकृत किया जाता है।
(ग) यह यूरोप और अमेरिका में राष्ट्र राज्यों के उदय को दर्शाता है।
(घ) सभी।

NOTE : Following question is for Visually impaired candidates in lieu of Q.25.

नोट : निम्नलिखित प्रश्न केवल दृष्टिबाधित उम्मीदवारों के लिए 25 के स्थान पर है।

The painting "The Dream of worldwide Democratic and Social Republics" was prepared by whom?

- A. Giuseppe Mazzini
B. Frederic Sorrieu
C. Henry Patullo
D. Duke Metternich

पेंटिंग "द ड्रीम ऑफ वर्ल्डवाइड डेमोक्रेटिक एंड सोशल रिपब्लिक्स" किसके द्वारा तैयार की गई थी?

- क ग्यूसेप माज़िनी
ख फ्रेडरिक सोरियू
ग हेनरी पेटुलो
घ ड्यूक मेटटर्निच

26. 'Utopian Society' is :

- I. a society under a benevolent monarchy
II. a society that is unlikely to ever exist
III. a society under the control of a chosen few wise men
IV. a society under Parliamentary Democracy

Choose the correct option :

- A. I & II
B. II & III
C. II only
D. III only

'यूटोपियन सोसाइटी' है :

- I. एक उदार राजशाही के तहत एक समाज
II. एक ऐसा समाज जिसके कभी अस्तित्व में होने की संभावना नहीं है

III. कुछ चुने हुए बुद्धिमान पुरुषों के नियंत्रण में एक समाज

IV. संसदीय लोकतंत्र के तहत एक समाज

सही विकल्प चुनें :

A. I और II

B. II और केवल

C. केवल II

D. केवल II

27. The ideas of a United Community enjoying equal rights under a Constitution were expressed by the French as :

A. La Patrie

B. Le Citoyen

C. Both A and B

D. None of the above

एक संविधान के तहत समान अधिकारों का आनंद लेने वाले संयुक्त समुदाय के विचारों को फ्रांसीसी द्वारा व्यक्त किया गया था :

(क) ला पेट्री

(ख) ले सिटोयेन

(ग) दोनों (क) और (ख)

(घ) उपरोक्त में से कोई नहीं

28. Who said "When France sneezes, the rest of Europe catches cold?"

A. Napoleon

B. Giuseppe Mazzini

C. Metternich

D. Louis Philippe

किसने कहा था "जब फ्रांस छींकता है, तो बाकी यूरोप को सर्दी लग जाती है?"

(क) नेपोलियन

(ख) ग्यूसेप माज़िनी

(ग) मेटर्निच

(घ) लुई फिलिप

29. Taking a hint from the given picture identify what this woman is engaged in?



- A. Sowing the tea and coffee seeds
- B. Plucking coffee beans
- C. Pruning tea bushes
- D. Plucking tea leaves

दिए गए चित्र से संकेत लेते हुए पहचानिए कि यह महिला किस काम में लगी हुई है?

- (क) चाय और कॉफी के बीज बोना
- (ख) कॉफी बीनस तोड़ना
- (ग) चाय की झाड़ियों की छंटाई
- (घ) चाय की पत्ती तोड़ना

NOTE : Following question is for Visually impaired candidates in lieu of Q.29.

नोट निम्नलिखित प्रश्न केवल दृष्टिबाधित उम्मीदवारों के लिए 29 के स्थान पर है।

Which one of the following is the example of plantation agriculture?

- A. Jute
- B. Wheat
- C. Tea
- D. Oilseeds

निम्नलिखित में से कौन-सा एक बागान कृषि का उदाहरण है ?

- (क) जूट
- (ख) गेहूँ
- (ग) चाय
- (घ) तिलहन

30. Identify the state with the help of clues given below :

- It is north-eastern state
- Fully surveyed for the land use
- Important state for tea production

- A. Manipur
- B. Assam
- C. Arunachal Pradesh
- D. Tripura

नीचे दिए गए संकेतों की सहायता से राज्य की पहचान करें :

- यह उत्तर-पूर्वी राज्य है।
- भूमि उपयोग के लिए पूरी तरह से सर्वेक्षण किया गया।
- चाय उत्पादन के लिए महत्वपूर्ण राज्य

- (क) मणिपुर
- (ख) असम
- (ग) अरुणाचल प्रदेश
- (घ) त्रिपुरा

31. In the following given below, there are two statements marked as Assertion (A) and Reason(R).

Read the statements and choose the correct code.

Assertion: (A) Different people having different development goals.

Reason : (R) People want freedom, equality, security and respect.

Options:

- A. Both A and R are true, and R is the correct explanation of A.
- B. Both A and R are true, but R is not the correct explanation of A.
- C. A is true but R is false.
- D. A is false but R is true.

निम्नलिखित में दो कथनों को अभिकथन (ए) और कारण (आर) के रूप में चिन्हित किया गया है। कथनों को पढ़िए और सही कूट का चयन कीजिए।

अभिकथन (ए) : अलग-अलग लोगों के अलग-अलग विकास लक्ष्य है।

कारण (आर) : लोग स्वतंत्रता, समानता, सुरक्षा और सम्मान चाहते हैं।

विकल्प :

- (क) (ए) और (आर) दोनों सत्य हैं और (आर), (ए) की सही व्याख्या करता है।
- (ख) (ए) और (आर) दोनों सत्य हैं, लेकिन (आर), (ए) की सही व्याख्या नहीं है।
- (ग) (ए) सच है लेकिन (आर) झूठा है।?
- (घ) (ए) गलत है लेकिन (आर) सत्य है।

32. Choose the correct option from the following :

List I (Example)

- A. Agriculture
- B. Transport
- C. Mining
- D. Banking

List II (Sectors)

- Tertiary
- Secondary
- Primary
- Secondary

निम्नलिखित में से सही विकल्प का चयन कीजिए :

सूची-1 (उदाहरण)

- (क) कृषि
- (ख) परिवहन
- (ग) खनन
- (घ) बैंकिंग

सूची-2 (क्षेत्र)

- तृतीयक
- माध्यमिक
- प्राथमिक
- माध्यमिक

33. Assume there are four families in a country. The average per capita income of these families is Rs 5000. If the income of three families is Rs 4000, Rs 7000 and Rs 3000 respectively, what is the income of the fourth family?

- A. Rs 7500
- B. Rs 3000
- C. Rs 2000
- D. Rs 6000

मान लीजिए कि एक देश में चार परिवार हैं। इन परिवारों की औसत प्रति व्यक्ति 5000 रुपये है। यदि तीन परिवारों की आय क्रमशः 4000 रुपये, 7000 रुपये और 3000 रुपये है, तो चौथे परिवार की आय क्या है ?

- (क) 7500 रुपये
- (ख) 3000 रुपये
- (ग) 2000 रुपये
- (घ) 6000 रुपये

34. Kanta works in an office. She attends her office from 9.30 a.m. to 5.30 p.m. She gets her salary regularly at the end of every month. In addition to the salary, she also gets provident fund as per the rules laid down by the government. She also gets medical and other allowances. Kanta does not go to office on Sundays. This is a paid holiday. Employer deducts her salary whenever she is absent from work. Find out in which of the following sectors she is working?

- A. Primary Sector
- B. Secondary Sector
- C. Organized Sector
- D. Unorganized Sector

कांता एक ऑफिस में काम करती है। वह सुबह 9.30 बजे से शाम 5.30 बजे तक अपने कार्यालय में आती है। उसे हर महीने के अंत में नियमित रूप से वेतन मिलता

है। वेतन के अलावा, उसे सरकार द्वारा निर्धारित नियमों के अनुसार भविष्य निधि भी मिलती है। उसे चिकित्सा और अन्य भत्ते भी मिलते हैं। कांता रविवार को कार्यालय नहीं जाती है। यह एक सशुल्क अवकाश है। जब भी वह काम से अनुपस्थित रहती है तो नियोक्ता उसका वेतन काट लेता है। ज्ञात कीजिए कि वह निम्नलिखित में से किस क्षेत्र में कार्य कर रही है ?

- (क) प्राथमिक क्षेत्र (ख) माध्यमिक क्षेत्र
(ग) संगठित क्षेत्र (घ) असंगठित क्षेत्र

35. There are two statements marked as Assertion (A) and Reason(R).

Read the statements and choose the correct code.

Assertion: Sustainable development is essential for economic growth of the countries.

Reason: Sustainable development ensures that environment friendly measures are adapted for carrying out production processes.

Options :

- A. Both A and R are true, and R is the correct explanation of A.
B. Both A and R are true, but R is not the correct explanation of A.
C. A is true but R is false.
D. A is false but R is true.

दो कथनों को अभिकथन (ए) और कारण (आर) के रूप में चिन्हित किया गया है। कथनों को पढ़िए और सही कूट का चयन कीजिए।

अभिकथन : देशों के आर्थिक विकास के लिए सतत विकास आवश्यक है।

कारण : सतत विकास यह सुनिश्चित करता है कि उत्पादन प्रक्रियाओं को पूरा करने के लिए पर्यावरण के अनुकूल उपायों को अपनाया जाए।

विकल्प :

(क) ए और आर दोनों सत्य हैं और आर, ए की सही व्याख्या करता है।

(ख) ए और आर दोनों सत्य हैं, लेकिन आर, ए की सही व्याख्या नहीं है।

X

(ग) ए सत्य है लेकिन आर गलत है।

(घ) ए गलत है लेकिन आर सत्य है।

36. In the following given below, there are two statements marked : Assertion (A) and Reason(R).

Read the statements and choose the correct code.

Assertion : In India the primary sector is the largest employer

Reason : The demand of services has increased enormously.

Options:

A. Both A and R are true, and R is the correct explanation of A.

B. Both A and R are true, but R is not the correct explanation of A.

C. A is true but R is false.

D. A is false but R is true.

निम्नलिखित में, दो कथनों को अभिकथन (ए) और कारण (आर) के रूप में चिन्तित किया गया है। कथनों को पढ़िए और सही कूट का चयन कीजिए।

अभिकथन : भारत में प्राथमिक क्षेत्र सबसे बड़ा नियोक्ता है।

कारण : सेवाओं की माँग काफी बढ़ गई है।

विकल्प :

(क) ए और आर दोनों सत्य हैं और आर, ए की सही व्याख्या करता है।

(ख) ए और आर दोनों सत्य हैं, लेकिन आर, ए की सही व्याख्या नहीं है।

(ग) ए सत्य है लेकिन आर गलत है।

(घ) ए गलत है लेकिन आर सत्य है।

37.

Table : Crude Oil Reserves

Region/Country	Reserves (2017) Number of Years (Thousand Million Barrels)	Number of Years Years Reserves will last
Middle East	80	70
United States of America	50	10.5
World	1697	50.2

Look at the following data for crude oil carefully and select the most appropriate answer :

Options :

- A. The reserves would last only 50 years more in the world.
- B. India has the highest reserve of crude oil.
- C. The United States of America has the highest reserve of crude oil.
- D. None of these.

विकल्प :

- (क) दुनिया में भंडार केवल 50 साल अधिक चलेगा।
- (ख) भारत में कच्चे तेल का सर्वाधिक भंडार है।
- (ग) संयुक्त राज्य अमेरिका में कच्चे तेल का उच्चतम भंडार है।
- (घ) इनमें से कोई नहीं

38. Read the following statements related to MGNREGA 2005 and find the INCORRECT from the given options :

- I. Under MGNREGA 2005, all those who are able to, and are in need of, work in rural areas are guaranteed 50 days of employment in a year by the government
- II. If the government fails in its duty to provide employment, it will give unemployment allowances to the people.
- III. Urban people are also covered by this scheme.

Options:

- A. I and II
- B. II and III
- C. II Only
- D. I and III

मनरेगा 2005 से संबंधित निम्नलिखित कथनों को पढ़ें और दिए गए विकल्पों में से गलत का पता लगाएँ :

- I. मनरेगा 2005 के तहत, ग्रामीण क्षेत्रों में काम करने में सक्षम और जरूरतमंद सभी लोगों को सरकार द्वारा एक वर्ष में 50 दिनों के रोजगार की गारंटी दी जाती है।

- II. अगर सरकार रोजगार देने के अपने कर्तव्य में विफल रहती है, तो वह लोगों को बेरोजगारी भत्ता देगी।
- III. शहरी लोग भी इस योजना से आच्छादित है।

विकल्प :

- A. I और II
 B. II और II
 C. II केवल
 D. I केवल II

39. Power sharing is desirable because it :

- I. Helps the people of different communities to celebrate their festivals.
 II. Imposes the will of the majority community over others.
 III. Reduces the conflict between social groups.
 IV. Good way to ensure the stability of political order.

Find the correct option :

- A. I & II Only B. II & III Only
 C. III & IV Only D. I, II, III & IV

सत्ता का बंटवारा वांछनीय है क्योंकि यह :

- I. विभिन्न समुदायों के लोगों को उनके त्यौहार मनाने में मदद करता है।
 II. बहुसंख्यक समुदाय की इच्छा को दूसरों पर थोपना।
 III. सामाजिक समूहों के बीच संघर्ष को कम करता है।
 IV. राजनीतिक व्यवस्था की स्थिरता सुनिश्चित करने की अच्छा तरीका।

सही विकल्प खोजें :

- A. I और II केवल B. II और III केवल
 C. II और IV केवल D. I, II, III और IV

40. There are two statements marked as Assertion (A) and Reason (R).
 Read the statements and choose the correct code.

Assertion: Tyranny of majority is highly desirable.

Reason: It helps in making the political order more stable.

Options:

- A. Both A and R are true, and R is the correct explanation of A.
- B. Both A and R are true, but R is not the correct explanation of A.
- C. A is true but R is false.
- D. Both A and R are false.

दो कथनों को अभिकथन (ए) और कारण (आर) के रूप में चिन्हित किया गया है। कथनों को पढ़िए और सही कूट का चयन कीजिए :

अभिकथन : बहुमत का अत्याचार अत्यधिक वांछनीय है।

कारण : यह राजनीतिक व्यवस्था को ओर अधिक स्थिर बनाने में मदद करता है।

विकल्प :

- (क) ए और आर दोनों सत्य हैं और आर, ए की सही व्याख्या करता है।
- (ख) ए और आर दोनों सत्य हैं, लेकिन आर, ए की सही व्याख्या नहीं है।
- (ग) ए सत्य है लेकिन आर गलत है।
- (घ) ए गलत है लेकिन आर सत्य है।

41. Which language has the status of National language of India?

- A. English
- B. Hindi
- C. Sanskrit
- D. None of these

किस भाषा को भारत की राष्ट्रीय भाषा का दर्जा प्राप्त है ?

- (क) अंग्रेजी
- (ख) हिंदी
- (ग) संस्कृत
- (घ) इनमें से कोई नहीं

42. There are two statements marked as Assertion (A) and Reason (R). Read the statements and choose the correct code.

Assertion: Zila Parishad Chairperson is the political head of the zilla parishad.

Reason : Mayor is the head of municipal government.

Options :

- A. Both A and R are true, and R is the correct explanation of A.
- B. Both A and R are true, but R is not the correct explanation of A.
- C. A is true but R is false.
- D. A is false but R is true

दो कथनों को अभिकथन (ए) और कारण (आर) के रूप में चिन्हित किया गया है।
कथनों को पढ़िए और सही कूट का चयन कीजिए।

अभिकथन : जिला परिषद अध्यक्ष जिला परिषद का राजनीतिक प्रमुख होता है।

कारण : मेयर नगरपालिका सरकार का प्रमुख होता है।

विकल्प :

- (क) ए और आर दोनों सत्य हैं और आर, ए की सही व्याख्या करता है।
- (ख) ए और आर दोनों सत्य हैं, लेकिन आर, ए की सही व्याख्या नहीं है।
- (ग) ए सत्य है लेकिन आर गलत है।
- (घ) ए गलत है लेकिन आर सत्य है।

43. Which of these is correct, based on the Constitutional Amendment, 1992?

- I. State Election Commission looks after these elections.
- II. Regular elections should be held to the local government bodies.
- III. Seats are reserved for SCs, STs and OBCs.
- IV. One-fourth of positions are reserved for women.

Find the correct option :

- A. I & II ONLY
- B. I, II & III ONLY
- C. III & IV ONLY
- D. I, II, III & IV

संविधान संशोधन, 1992 के आधार पर इनमें से कौन-सा सही है ?

- I. राज्य चुनाव आयोग इन चुनावों को देखता है।

- II. स्थानीय सरकारी निकायों के लिए नियमित चुनाव होना चाहिए।
 III. एससी, एसटी और ओबीसी के लिए सीटें आरक्षित हैं।
 IV. एक चौथाई पद महिलाओं के लिए आरक्षित हैं।

सही विकल्प खोजें :

- A. I और II केवल
 B. I, II और III केवल
 C. III और IV केवल
 D. I, II, III और IV

44. Match the following items given in Column A with those in Column B

COLUMN A

COLUMN B

- | | |
|-----------------------|----------|
| 1. Coming together | a. India |
| 2. Holding together | b. China |
| 3. Unitary Government | c. USA |

Choose the correct option given below :

- A. 1-a, 2-b, 3-c
 B. 1-b, 2-c, 3-a
 C. 1-c, 2-a, 3-b
 D. 1-c, 2-b, 3-a

कॉलम 'ए' में दिए गए निम्नलिखित आइटम्स को कॉलम बी में दिए गए आइटम्स से सुमेलित करें :

कॉलम 'ए'

कॉलम-बी

- | | |
|------------------|-------------|
| 1. एक साथ आना | (a) भारत |
| 2. एक साथ रहना | (b) चीन |
| 3. एकात्मक सरकार | (c) अमेरीका |

नीचे दिए गए सही विकल्प का चयन करें :

- A. 1-a, 2-b, 3-c
 B. 1-b, 2-c, 3-a
 C. 1-c, 2-a, 3-b
 D. 1-c, 2-b, 3-a

45. In case of a clash between the laws made by the center and a state on a subject in the concurrent list :

- A. The state law prevails.
 B. The central law prevails.

C. Both the laws prevail within their respective jurisdictions

D. The Supreme Court has to intervene to decide.

समवर्ती सूची में किसी विषय पर केंद्र और राज्य द्वारा बनाए गए कानूनों के बीच टकराव की स्थिति में :


(क) राज्य का कानून प्रबल होता है।

(ख) केंद्रीय कानून प्रबल होता है।

(ग) दोनों कानून अपने-अपने क्षेत्राधिकार में लागू होते हैं।

(घ) निर्णय लेने के लिए सर्वोच्च न्यायालय को हस्तक्षेप करना पड़ता है।

16. Taking a hint from the given picture and choose the correct option:
Which of the following option best signifies this cartoon?



A. Demand for a separate state from democratic government.

B. Democratic government accepts demand on separate state.

C. Running a coalition government.

D. States placed for more power.

दिए गए चित्र से संकेत लेते हुए सही विकल्प का चयन करें :

निम्नलिखित में से कौन-सा विकल्प इस कार्टून को सर्वोत्तम रूप से दर्शाता है ?

(क) लोकतांत्रिक सरकार से अलग राज्य की मांग

(ख) लोकतांत्रिक सरकार अलग राज्य की मांग स्वीकार करती है

(ग) गठबंधन सरकार चला रहे हैं

(घ) राज्यों को अधिक शक्ति के लिए रखा गया

NOTE : Following question is for the Visually Impaired Candidates only in lieu of Q.46.

नोट निम्नलिखित प्रश्न केवल दृष्टिबाधित उम्मीदवारों के लिए प्रश्न संख्या 46 के स्थान पर हैं।

Who can make laws relating to the subjects mentioned in the Union list?

A. Local Government

B. State Government

C. Union Government

D. State and Union

संघ सूची में उल्लिखित विषयों से संबंधित कानून कौन बना सकता है ?

(क) स्थानीय सरकार

(ख) राज्य सरकार

(ग) केंद्र सरकार

(घ) राज्य और संघ

SECTION-C

(This section consists of two cases. There are total of 12 questions in this section. Attempt any 10 questions from this section.)

Read the source given below and answer the questions by choosing the most appropriate option:

The French Revolution and the Idea of the Nation :

The first clear expression of nationalism came with the French Revolution in 1789. France, as you would remember, was a full-fledged territorial state in 1789 under the rule of an absolute monarch. The political and constitutional changes that came in the wake of the French revolution led to the transfer of sovereignty from the monarchy to a body of French citizens. The revolution proclaimed that was the people who would henceforth constitute the nation and shape its destiny. From the very beginning, the French Revolutionaries introduced various measures and practices

like the idea of La patrie and Le citoyen that would create a sense of collective identity amongst the French people. The centralized administrative system was one of the measures taken for making uniform laws for all citizens within its territory.

नीचे दिए गए स्रोत को पढ़ें और सबसे उपयुक्त विकल्प चुनकर प्रश्नों के उत्तर दें।
फ्रांसीसी क्रांति और राष्ट्र का विचार :

राष्ट्रवाद की पहली स्पष्ट अभिव्यक्ति 1789 में फ्रांसीसी क्रांति के साथ हुई। जैसा कि आपको याद होगा, फ्रांस 1789 में एक पूर्ण राजशाही के शासन के तहत एक पूर्ण क्षेत्रीय राज्य था। फ्रांसीसी क्रांति के बाद आए राजनीतिक और संवैधानिक परिवर्तनों ने संप्रभुता को राजशाही से फ्रांसीसी नागरिकों के एक निकाय में स्थानांतरित कर दिया। क्रांति ने घोषणा की कि वे लोग थे जो अब से राष्ट्र का निर्माण करेंगे और इसके भाग्य को आकार देंगे। शुरु से ही, फ्रांसीसी क्रांतिकारियों ने लापैट्री और लेसिटोयेन के विचार जैसे विभिन्न उपायों और प्रथाओं की शुरुआत की, जो फ्रांसीसी लोगों के बीच सामूहिक पहचान की भावना पैदा करेंगे। केंद्रीकृत प्रशासनिक प्रणाली अपने क्षेत्र के सभी नागरिकों के लिए समान कानून बनाने के लिए किए गए उपायों में से एक थी।

How was France in 1789?

- A. France was a full- fledged anti national state.
- B. France was a full -fledged territorial state.
- C. France was a full -fledged secular state.
- D. France was a full -fledged autocratic state.

1789 में फ्रांस कैसा था ?

- (क) फ्रांस एक पूर्ण राष्ट्र-विरोधी राज्य था।
- (ख) फ्रांस एक पूर्ण-क्षेत्रीय राज्य था।
- (ग) फ्रांस एक पूर्ण-धर्मनिरपेक्ष राज्य था।
- (घ) फ्रांस एक पूर्ण-निरंकुश राज्य था।

When did the French Revolution start?

- A. French Revolution started in 1899.
- B. French Revolution started in 1879.
- C. French Revolution started in 1789.

D. French Revolution started in 1989.

फ्रांस की क्रांति कब शुरू हुई ?

(क) फ्रांसीसी क्रांति 1899 में शुरू हुई।

(ख) फ्रांसीसी क्रांति 1879 में शुरू हुई।

(ग) फ्रांसीसी क्रांति 1789 में शुरू हुई।

(घ) फ्रांसीसी क्रांति 1989 में शुरू हुई।

49. What did the French revolution proclaim?

A. The French Revolution proclaimed that it was the women that would henceforth constitute the nation and shape its destiny.

B. The French Revolution proclaimed that it was the married men who would henceforth constitute the nation and shape its destiny.

C. The French Revolution proclaimed that it was the people who would henceforth constitute the nation and shape its destiny.

D. The French Revolution proclaimed that it was the nature which would henceforth constitute the nation and shape its destiny.

फ्रांसीसी क्रांति ने क्या घोषणा की ?

(क) फ्रांसीसी क्रांति ने घोषणा की कि यह महिलाएँ ही थीं जो अब से राष्ट्र का निर्माण करेंगी और इसके भाग्य को आकार देंगी।

(ख) फ्रांसीसी क्रांति ने घोषणा की कि यह विवाहित पुरुष ही थे जो अब से राष्ट्र का निर्माण करेंगे और इसके भाग्य को आकार देंगे।

(ग) फ्रांसीसी क्रांति ने घोषणा की कि यह लोग ही थे अब से राष्ट्र का निर्माण करेंगे और इसके भाग्य को आकार देंगे।

(घ) फ्रांसीसी क्रांति ने घोषणा की कि यह प्रकृति थी जो अब से राष्ट्र का गठन करेगी और इसके भाग्य को आकार देगी।

50. What changes came in the wake of the French revolution?

X

- A. The political and constitutional changes came in the wake of the French revolution
- B. The social and economic changes came in the wake of the French revolution.
- C. The social and cultural changes came in the wake of the French revolution.
- D. The linguistic and cultural changes came in the wake of the French revolution.

फ्रांस की क्रांति के बाद क्या बदलाव आए ?

- (क) फ्रांसीसी क्रांति के बाद राजनीतिक और संवैधानिक परिवर्तन आए।
- (ख) फ्रांसीसी क्रांति के बाद सामाजिक और आर्थिक परिवर्तन आए।
- (ग) फ्रांसीसी क्रांति के बाद सामाजिक और सांस्कृतिक परिवर्तन आए।
- (घ) फ्रांसीसी क्रांति के बाद भाषाई और सांस्कृतिक परिवर्तन आए।

1. There are two statements marked as Assertion (A) and Reason (R).

Read the statements and choose the correct code.

Assertion : From the very beginning, the French revolutionaries introduced various measures and practices like the idea of La patrie and Le citoyen.

Reason : This was done to create a sense of collective identity amongst the French people.

Options :

- A. Both A and R are true, and R is the correct explanation of A.
- B. Both A and R are true, but R is not the correct explanation of A.
- C. A is true but R is false.
- D. A is false but R is true

दो कथनों को अभिकथन (ए) और कारण (आर) के रूप में चिन्हित किया गया है।

कथनों को पढ़िए और सही कूट का चयन कीजिए।

अभिकथन : शुरु से ही, फ्रांसीसी क्रातिकारियों ने ला पेट्री और ले सिटोयेन के विचार जैसे विभिन्न उपायों और प्रथाओं की शुरुआत की।

कारण : यह फ्रांसीसी लोगों के बीच सामूहिक पहचान की भावना पैदा करने के लिए किया गया था।

विकल्प :

(क) ए और आर दोनों सत्य हैं और आर, ए की सही व्याख्या करता है।

(ख) ए और आर दोनों सत्य हैं, लेकिन आर, ए की सही व्याख्या नहीं है।

(ग) ए सत्य है लेकिन आर गलत है।

(घ) ए गलत है लेकिन आर सत्य है।

52. The first clear expression of nationalism came with :

A. The American Revolution B. The French Revolution

C. The Russian Revolution D. The Industrial Revolution

राष्ट्रवाद की पहली स्पष्ट अभिव्यक्ति के साथ हुई :

(क) अमेरिकी क्रांति

(ख) फ्रांसीसी क्रांति

(ग) रूसी क्रांति

(घ) औद्योगिक क्रांति

Read the source given below and answer the questions by choosing the most appropriate option :

Plantation is also a type of commercial farming. In this type of farming, a single crop is grown on a large area. The plantation has an interface of agriculture and industry. Plantations cover large tracts of land, using capital intensive inputs, with the help of migrant laborers. All the produce is used as raw material in respective industries. In India, tea, coffee, rubber, sugarcane, banana, etc. are important plantation crops. The Tea plant grows well in tropical and sub-tropical climates endowed with deep and fertile well-drained soil, rich in humus and organic matter. It is consumed on large basis in India being an important beverage crop. Tea in Assam and North Bengal coffee in Karnataka are some of the important plantation crops grown in these states.

Since the production is mainly for market, a well-developed network of transport and communication connecting the plantation areas, processing industries and markets plays an important role in the development of plantations.

बागान भी एक प्रकार की व्यावसायिक खेती है। इस प्रकार की खेती में एक ही फसल बड़े क्षेत्र में उगाई जाती है। बागान में कृषि और उद्योग का एक इंटरफेस है। बागान, प्रवासी मजदूरों की मदद से पूंजी गहन आदानों का उपयोग करते हुए भूमि के बड़े हिस्से को कवर करते हैं। सभी उत्पाद संबंधित उद्योगों में कच्चे माल के रूप में उपयोग किए जाते हैं। भारत में चाय, कॉफी, रबर, गन्ना, केला आदि महत्वपूर्ण बागान फसलें हैं। चाय का पौधा उष्णकटिबंधीय और उपोष्ण कटिबंधीय जलवायु में अच्छी तरह से बढ़ता है, जो गहरी और उपजाऊ अच्छी तरह से सूखा मिट्टी, ह्यूमस और कार्बनिक पदार्थों से भरपूर होता है। भारत में एक महत्वपूर्ण पेय फसल होने के कारण इसका बड़े पैमाने पर सेवन किया जाता है। असम में चाय और कर्नाटक में उत्तर बंगाल कॉफी इन राज्यों में उगाई जाने वाली कुछ महत्वपूर्ण बागान फसलें हैं। चूंकि उत्पादन मुख्य रूप से बाजार के लिए होता है, बागान क्षेत्रों, प्रसंस्करण उद्योगों और बाजारों को जोड़ने वाले परिवहन और संचार का एक अच्छी तरह से विकसित नेटवर्क बागान के विकास में महत्वपूर्ण भूमिका निभाता है।

53. Which one of the following is a plantation crop?

- A. Tea is a plantation crop.
- B. Rice is a plantation crop.
- C. Wheat is a plantation crop.
- D. Barley is a plantation crop.

निम्नलिखित में से कौन-सी एक बागान फसल है ?

- (क) चाय एक बागान फसल है।
- (ख) चावल एक बागान फसल है।
- (ग) गेहूँ एक बागान फसल है।
- (घ) जौ एक बागान फसल है।

54. What all things play an important role in the development of plantations?

- A. Since the production is mainly for market, a well-developed network of transport and communication connecting the market areas, processing industries and markets play an important role in the development of plantations.
- B. Since the production is mainly for only international market, a well-developed network of transport and communication connecting the plantation areas, processing industries and markets play an important role in the development of plantations.
- C. Since the production is mainly for only international market, a well-developed network of transport and communication connecting the market areas, processing industries and markets play an important role in the development of plantations.
- D. Since the production is mainly for only international market, a well-developed network of transport and communication connecting the market areas, processing industries and markets play an important role in the development of plantations

वे कौन-सी चीजें हैं जो बागान के विकास में महत्वपूर्ण भूमिका निभाती हैं ?

- (क) चूँकि उत्पादन मुख्य रूप से बाजार के लिए है, इसलिए बाजार क्षेत्रों, प्रसंस्करण उद्योगों और बाजारों को जोड़ने वाले परिवहन और संचार की एक अच्छी तरह से विकसित नेटवर्क बागान के विकास में महत्वपूर्ण भूमिका निभाता है।
- (ख) चूँकि उत्पादन मुख्य रूप से अंतर्राष्ट्रीय बाजार के लिए होता है, बागान क्षेत्रों, प्रसंस्करण उद्योगों और बाजारों को जोड़ने वाले परिवहन और संचार की एक अच्छी तरह से विकसित नेटवर्क बागान के विकास में एक महत्वपूर्ण भूमिका निभाता है।
- (ग) चूँकि उत्पादन मुख्य रूप से बाजार के लिए होता है, बागान क्षेत्रों, प्रसंस्करण उद्योगों और बाजारों को जोड़ने वाले परिवहन और संचार की एक अच्छी तरह से विकसित नेटवर्क बागान के विकास में एक महत्वपूर्ण भूमिका निभाता है।
- (घ) चूँकि उत्पादन मुख्य रूप से अंतर्राष्ट्रीय बाजार के लिए होता है, इसलिए बागान क्षेत्रों, प्रसंस्करण उद्योगों और बाजारों को जोड़ने वाले परिवहन और संचार की एक अच्छी तरह से विकसित नेटवर्क बागान के विकास में एक महत्वपूर्ण भूमिका निभाता है।

55. Which one of the following is an important plantation crop grown in Assam :

- A. Coffee is an important plantation crop grown in Assam.
- B. Tea is an important plantation crop grown in Assam.
- C. Jute is an important plantation crop grown in Assam.
- D. Rubber is an important plantation crop grown in Assam

निम्नलिखित में से कौन-सी असम में उगाई जाने वाली एक महत्वपूर्ण बागान फसल है:

- (क) कॉफी असम में उगाई जाने वाली एक महत्वपूर्ण बागान फसल है।
- (ख) चाय असम में उगाई जाने वाली एक महत्वपूर्ण बागान फसल है।
- (ग) जूट असम में उगाई जाने वाली एक महत्वपूर्ण बागान फसल है।
- (घ) रबर असम में उगाई जाने वाली एक महत्वपूर्ण बागान फसल है।

56. Which of the following conditions are ideal for growing of Tea crop:

- I. Frequent showers evenly distributed over the year.
- II. Frost free climate
- III. Deep fertile well drained soil
- IV. Clayey soil which has high water holding capacity.

Find the correct option :

- A. I & II ONLY
- B. II & III ONLY
- C. I, II, & III ONLY
- D. I, II, III and IV

चाय की फसल उगाने के लिए निम्नलिखित में से कौन-सी परिस्थितियाँ आदर्श हैं?

- I. बार-बार होने वाली वर्षा भर समान रूप से वितरित की जाती है।
- II. पाला मुक्त जलवायु
- III. गहरी उपजाऊ अच्छी जल निकासी वाली मिट्टी
- IV. उच्च जल धारण क्षमता वाली चिकनी मिट्टी

सही विकल्प खोजें :

- A. I और II केवल
- B. II और III केवल
- C. I, II, और III केवल
- D. I, II, III और IV

PAPER-I MARKING SCHEME (TERM 1) 2021-22

SUBJECT : SOCIAL SCIENCE

CLASS : X

Time : 90 Min

Marks : 40

1. (a) French Revolution
2. (d) All the above
3. (a) The Balkans
4. (d) Duke Metternich
5. (b) It recognized Greece as an independent nation
6. (a) Per capita income
7. (a) 26
8. (c) UNDP
9. (c) Tertiary Sector
10. (a) Gross Domestic Product
11. (c) Disguised unemployment
12. (b) Dollars
13. (c) Over irrigation
14. (b) Uttarakhand
15. (d) Gujrat
16. (c) Plantation Agriculture
17. (a) Minimum Support Price
18. (c) Sri Lankan Tamil
19. (c) Vertical Power Sharing
20. (b) State Election Commission
21. (b) Eight Schedule
22. (a) To preserve and promote the unity of the country
23. (b) Union list
24. (c) USA, Switzerland and Australia Sample paper-1
25. (a) Both A and R are true and R is the correct explanation of A
26. (b) II, III, IV
27. (b) Only II

28. (a) One fourth of positions are reserved for women.
29. (c) Gram Panchayat
30. (b)
31. (d) People belonging to one language community only
32. (a) I,II,III
33. (d) Diluting the German confederation of 39 States.
34. (c) The formation of the United Kingdom of Great Britain.
35. (b) Abolish tariff barriers
36. (a)
37. (d)
38. (a)
39. (a)
40. (b)
41. (a)
42. A (3), B (4), C (1), D (2)
43. (a) 7500/-
44. (c)
45. (c)
46. (c)

Visually impaired

- | | |
|---------|---------|
| 46. (d) | 47. (b) |
| 48. (b) | 49. (c) |
| 50. (d) | 51. (a) |
| 52. (c) | 53. (c) |
| 54. (a) | 55. (a) |
| 56. (c) | 57. (d) |
| 58. (a) | 59. (c) |

Visually impaired

59. (d) Rana Pratap Sagar

60. d) Tungabhadra

Visually impaired

60. (b) Wheat

PAPER-2 MARKING SCHEME (TERM 1) 2021-22

SUBJECT : HISTORY

CLASS : X

Time : 90 Min

Marks : 40

1. D	2. A	3. D	4. D
5. C	6. D	7. B	8. B
9. B	10. B	11. A	12. D
13. A	14. B	15. B	16. A
17. C	18. A	19. C	20. A
21. A	22. B	23. B	24. B
25. A	26. C	27. A	28. B
29. A	30. C	31. A	32. C
33. A	34. B	35. D	36. A
37. A	38. A	39. C	40. D
41. B	42. D	43. A	44. B
45. A	46. D	47. C	48. D
49. D	50. C	51. A	52. D
53. D	54. A	55. A	56. D
57. D	58. B	59. C	60. C

PAPER-3 MARKING SCHEME (TERM 1) 2021-22

SUBJECT : HISTORY

CLASS : X

Time : 90 Min

Marks : 40

- | | | | |
|-------|-------|-------|-------|
| 1. A | 2. B | 3. A | 4. A |
| 5. A | 6. S | 7. D | 8. B |
| 9. D | 10. D | 11. C | 12. C |
| 13. C | 14. C | 15. D | 16. D |
| 17. B | 18. C | 19. A | 20. B |
| 21. B | 22. C | 23. C | 24. C |
| 25. A | 26. B | 27. B | 28. B |
| 29. D | 30. A | 31. A | 32. A |
| 33. D | 34. A | 35. C | 36. D |
| 37. B | 38. A | 39. A | 40. B |
| 41. B | 42. D | 43. D | 44. C |
| 45. D | 46. A | 47. B | 48. D |
| 49. B | 50. C | 51. D | 52. A |
| 53. C | 54. C | 55. B | 56. C |
| 57. D | 58. C | 59. A | 60. D |

PAPER-4 MARKING SCHEME (TERM 1) 2021-22

SUBJECT : HISTORY

CLASS : X

Time : 90 Min

Marks : 40

1. D	2. B	3. C	4. B
5. A	6. C	7. A	8. C
9. C	10. B	11. C	12. B
13. A	14. C	15. A	16. D
17. A	18. D	19. A	20. D
21. B	22. B	23. D	24. A
25. B	26. B	27. C	28. B
29. A	30. C	31. B	32. D
33. A	34. A	35. B	36. A
37. B	38. A	39. C	40. B
41. A	42. B	43. D	44. B
45. B	46. A	47. A	48. C
49. A	50. B	51. C	52. A
53. D	54. B	55. C	56. D
57. A	58. D	59. B	60. C

SECTION – A

(Attempt any 20 out of 24 questions)

1. D. The Balkans were not under the control of Ottoman Empire
2. D. A state where people live in a common territory, develop a sense of identity and share a common history
3. C. Greece
4. A. Did away with all the privileges based on birth and established equality.
5. B. All property-owning male citizens of the country
6. B. Soil formation and erosion
7. C. Over-irrigation
8. A. Gandhi said: "There is enough for everybody's need and not for anybody's greed."
9. A. Exclusive Economic Zone
10. D. X-Kharif, Y-Rabi, Z-Zaid
11. B. Health status
12. C. Goods that are used as raw material for the production of other goods during a year
13. B. Sri Lanka
14. A. Agriculture
15. D. Overall development
16. B. Pollution free environment
17. C. Ownership of enterprises
18. A. Horizontal distribution of power
19. B. Political parties get their expected share
20. B. 1956

- 21. A. Horizontal distribution of powers
- 22. D. All of the above
- 23. C. Both the above
- 24. D. The powers of state governments are guaranteed by the Constitution

SECTION - B

(Attempt any 18 out of 22 questions)

- 25. D. All of these

For Visually impaired candidates in lieu of Q25

- B. Frederic Sorrieu
- 26. C. II only
- 27. C. Both A and B
- 28. C. Metternich
- 29. D. Plucking tea leaves

For Visually impaired candidates in lieu of Q29C.

- C. Tea
- 30. B. Assam
- 31. B. Both A and R are true, but R is not the correct explanation of A
- 32. C. Mining Primary
- 33. D. Rs 6000
- 34. C. Organized Sector
- 35. B. Both A and R are true, but R is not the correct explanation of A.
- 36. B. Both A and R are true, but R is not the correct explanation of A.
- 37. A. The reserves would last only 50 years more in the world
- 38. C. II Only
- 39. C. III & IV Only
- 40. D. Both A and R are false
- 41. D. None of these

- 42. B. Both A and R are true, but R is not the correct explanation of A
- 43. B. I, II & III ONLY
- 44. C. 1-c, 2-a, 3-b
- 45. B. The central law prevails
- 46. D. States placed for more power

For the Visually Impaired Candidates only in lieu of Q46

- C. Union Government

SECTION – C

(This section consists of two cases. There are total of 12 questions in this section. Attempt any 10 questions from this section.)

- 47. B. France was a full –fledged territorial state
- 48. C. French Revolution started in 1789
- 49. C. The French Revolution proclaimed that it was the people who would henceforth constitute the nation and shape its destiny
- 50. A. The political and constitutional changes came in the wake of the French revolution
- 51. A. Both A and R are true, and R is the correct explanation of A
- 52. B. The French Revolution
- 53. A. Tea is a plantation crop
- 54. C. Since the production is mainly for market, a well-developed network of transport and communication connecting the plantation areas, processing industries and markets play an important role in the development of plantations
- 55. B. Tea is an important plantation crop grown in Assam
- 56. C. I, II, & III ONLY
- 57. D. All of the above

58. C. Coffee is an important plantation crop grown in Karnataka

SECTION D

(Attempt both the Map based questions)

59. D. Hirakud

60. C. Black soil

For the Visually Impaired Candidates only in lieu of questions 59 and 60.59.

59. D. Hirakud

60. C. Black soil